

بسمه تعالی

دبستان:

کلاس:

نام و نام خانوادگی:

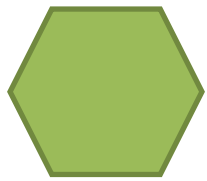


آزمون ریاضی دوم ابتدایی

(فصل 3)

تاریخ:

مدت آزمون:

سوال 1: کنار هر شکل نام و تعداد ضلع‌ها و گوشه‌ها را بنویسید.

	نام		نام		نام
	ضلع		ضلع		ضلع
	گوشه		گوشه		گوشه

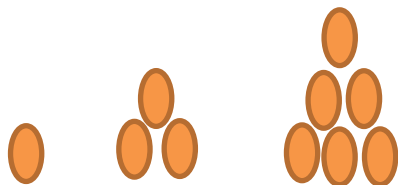
3 - 8 - 13 - 18 - - -

سوال 2: عدد بعدی را بنویسید.

سوال 3: تفاوت مربع و مثلث در چیست؟ شکل‌هایش را بکش و تفاوت‌ها را بنویس.



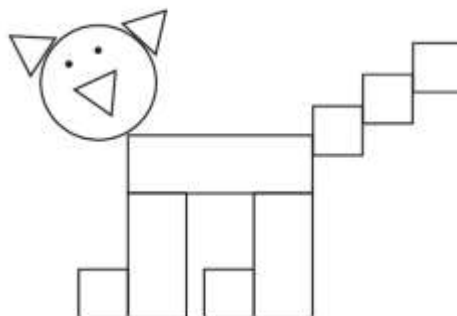
سوال 4: ساعت چند است؟



سوال 5: شکل بعدی را حدس بزن و بگو.

سوال 6: تعداد هر شکل را در جدول بنویس.

دایره	
مستطیل	
مثلث	
مربع	



بسمه تعالی

دبستان:

کلاس:

نام و نام خانوادگی:

آزمون ریاضی دوم ابتدایی

(فصل 3)

تاریخ:

مدت آزمون:

سوال 7: با توجه به اطلاعات داده شده شکل مربوطه را از داخل نقطه‌ها پیدا کن .



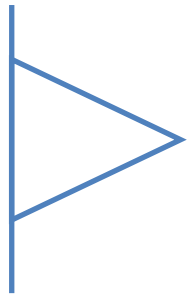

3 ضلع مساوی دارد



2 ضلع آن مساوی است

4 گوشه دارد

سوال 8: تقارن شکل‌ها را رسم کن.



پیاموز | Biamoz.com

بزرگترین مرجع آموزشی و نمونه سوالات درسی تمامی مقاطع

شامل انواع | نمونه سوالات | فصل به فصل | پایان ترم | جزوه |

ویدئوهای آموزشی | گام به گام | طرح درس | طرح جابر | و ...

اینستاگرام

گروه تلگرام

کانال تلگرام

برای ورود به هر پایه در سایت ما روی اسم آن کلیک کنید

دبستان

اول	دوم	سوم	چهارم	پنجم	ششم
-----	-----	-----	-------	------	-----

متوسطه اول

هفتم	هشتم	نهم
------	------	-----

متوسطه دوم

دهم	یازدهم	دوازدهم
-----	--------	---------