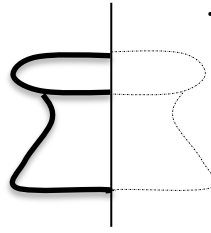



به نام خدای مهربان  
نام و نام خانوادگی:

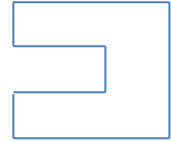


آزمونک ریاضی فصل ۳  
نام دبستان:

شماره ۷  
تاریخ:  
طراح:

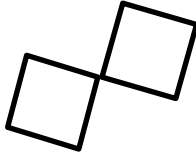
۱- نیمه دیگر شکل های زیر را کامل کن .



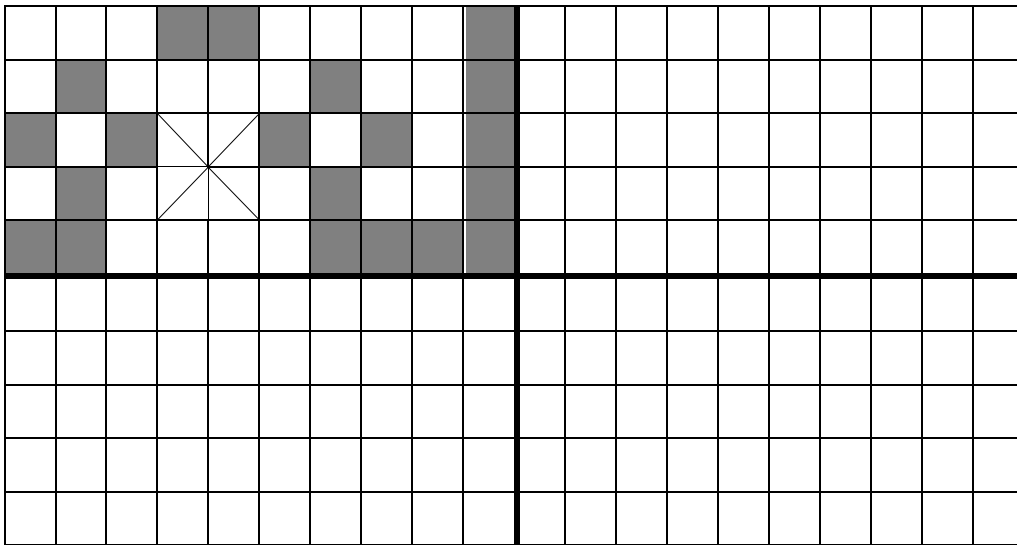
۲- روی هر شکل خطی رسم کن که دونیمه یکدیگر را کاملا بپوشاند.




۳- کدام شکل خط تقارن ندارد.



۴- با توجه به خط تقارن کاشی کاری زیر را کامل کن.



۵- زمان هر ساعت را به دو صورت بنویس .



-----

-----

-----

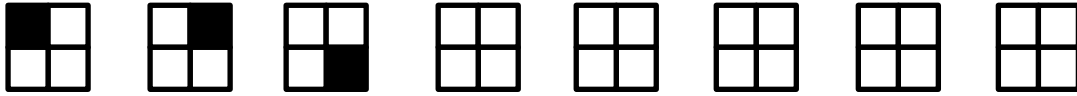
-----

به نام خدای مهربان  
نام و نام خانوادگی :

آزمونک ریاضی فصل ۳  
نام دبستان:

شماره ۷  
طراح:  
تاریخ:

۶- الگوی زیر را ادامه بده.



انتظارات آموزشی	بلی	خیر	تأخردوی	بازخورد
خط تقارن را می شناسد و می تواند رسم کند .				
ربع و نیم را در ساعت می شناسد و می خواند .				
الگوی تصویری را ادامه می دهد.				

# پیاموز | Biamoz.com

بزرگترین مرجع آموزشی و نمونه سوالات درسی تمامی مقاطع

شامل انواع | نمونه سوالات | فصل به فصل | پایان ترم | جزوه |

ویدئوهای آموزشی | گام به گام | طرح درس | طرح جابر | و ...

اینستاگرام

گروه تلگرام

کانال تلگرام

برای ورود به هر پایه در سایت ما روی اسم آن کلیک کنید

## دبستان

اول	دوم	سوم	چهارم	پنجم	ششم
-----	-----	-----	-------	------	-----

## متوسطه اول

هفتم	هشتم	نهم
------	------	-----

## متوسطه دوم

دهم	یازدهم	دوازدهم
-----	--------	---------