




۱- تعداد ضلع ها و گوشه های هر شکل را بنویس .



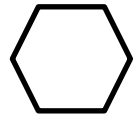
گوشه -----
ضلع -----



گوشه -----
ضلع -----




گوشه -----
ضلع -----



گوشه -----
ضلع -----

۲- این دو شکل چه شباهت و تفاوتی دارند.



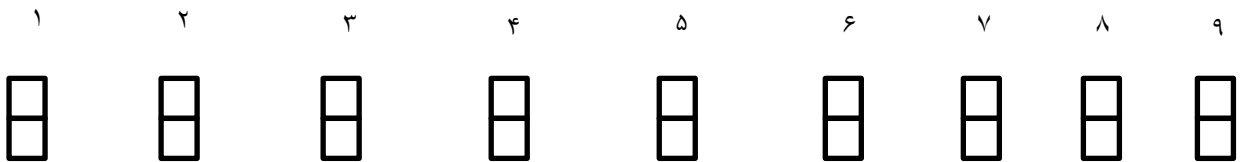
شباهت:
.....
تفاوت:
.....

۳- الگو را ادامه بده .

$$\begin{array}{r} 1 - 9 \\ \xrightarrow{+8} \end{array} \quad \begin{array}{r} - 17 \\ \xrightarrow{+8} \end{array} \quad - \quad - \quad - \quad - \quad -$$

$$\begin{array}{r} 2 - 3 \\ \xrightarrow{+1} \end{array} \quad \begin{array}{r} - 5 \\ \xrightarrow{+2} \end{array} \quad \begin{array}{r} - 8 \\ \xrightarrow{+3} \end{array} \quad - \quad - \quad - \quad -$$

۴- اعداد را بصورت دیجیتال بنویس .



بازخورد	تأحدودی	خیر	بلی	انتظارات آموزشی
				ضلع و گوشه را می شناسد .
				تفاوت و شباهت اشکال را می داند.
				الگوهای عددی را می تواند ادامه دهد .
				می تواند اعداد را بصورت دیجیتال بنویسد .

پیاموز | Biamoz.com

بزرگترین مرجع آموزشی و نمونه سوالات درسی تمامی مقاطع

شامل انواع | نمونه سوالات | فصل به فصل | پایان ترم | جزوه |

ویدئوهای آموزشی | گام به گام | طرح درس | طرح جابر | و ...

اینستاگرام

گروه تلگرام

کانال تلگرام

برای ورود به هر پایه در سایت ما روی اسم آن کلیک کنید

دبستان

اول	دوم	سوم	چهارم	پنجم	ششم
-----	-----	-----	-------	------	-----

متوسطه اول

هفتم	هشتم	نهم
------	------	-----

متوسطه دوم

دهم	یازدهم	دوازدهم
-----	--------	---------