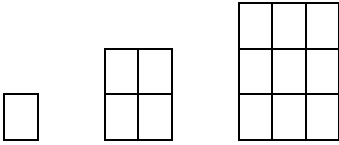


نام و نام خانوادگی :

سوالات

فصل چهارم - پایه دوم

۱- الگوی عددی زیر را ادامه دهید. (با رسم شکل)



..... و ..... و ..... و ۴ و ۱

۲- اگر حسین ۱۰ تا سکه ۰ ریالی به بانک بدهد او چه سکه ای می تواند از بانک بگیرد؟.....

زهرا ۸۰ سکه ۱ ریالی به بانک داده است . چند سکه ۰ ریالی می تواند تحویل بگیرد؟.....

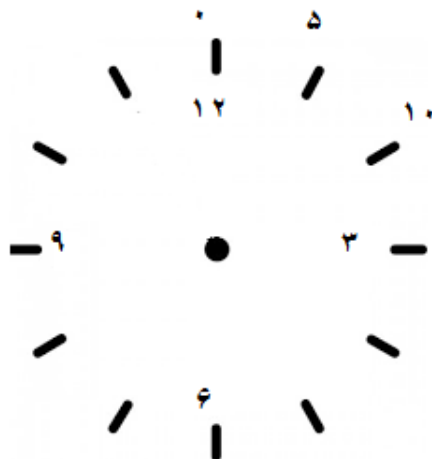
۳- الگوی زیر را ادامه دهید.

..... - ..... - ..... - ..... - ۲۴ - ۱۶ - ۸

..... - ..... - ..... - ..... - ۱۲ - ۸ - ۴

..... - ..... - ..... - ..... - ۲۸ - ۳۵ - ۴۲

۴- ابتدا عددهای ساعت را کامل کنید سپس به سوال ها جواب دهید.



۳۰ دقیقه بعد از ساعت ۲:۱۰ می شود .....

۱۵ دقیقه بعد از ساعت ۶:۰۰ می شود.....

۲۰ دقیقه بعد از ساعت ۴:۴۰ می شود.....

۵- با توجه به محور جاهای خالی را کامل کنید.



$80 + 20 = \dots\dots\dots$

$90 - 30 = \dots\dots\dots$

$100 - 20 = \dots\dots\dots$

$40 + 30 = \dots\dots\dots$

$80 - 50 = \dots\dots\dots$

$60 + 20 = \dots\dots\dots$

۶- سه دسته ی صدتایی و ۵ یکی می شود.....تا

۹ ده تایی و ۶ صدتایی می شود..... تا

۴۰ می شود..... ده تایی و..... صدتایی و..... یکی

۷- محور اعداد زیر را کامل کنید و در جاهای خالی عدد مناسب بنویسید.



$200 + 400 = \dots\dots\dots$

$900 - 800 = \dots\dots\dots$

$100 + 400 = \dots\dots\dots$

$800 - 500 = \dots\dots\dots$

$200 + 600 = \dots\dots\dots$

$600 - 500 = \dots\dots\dots$

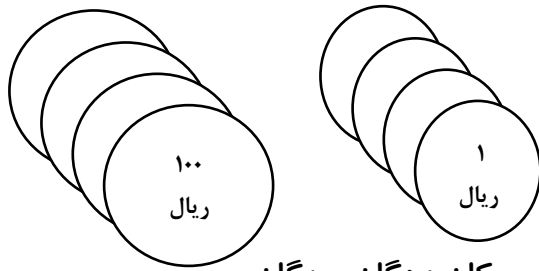
۸- جدول زیر را با نوشتن عدد به رقم و حروف کامل کنید.

.....	چهارصد و پنجاه و نه	هفتصد و بیست	.....
۳۰۹	.....	.....	۹۸۶

۹- پدر محمد ۳ سکه ی صدریالی و ۴ سکه ی ده ریالی و ۷ سکه ی یک ریالی به او داد . او ۲۳۴ ریال را داخل

صندوق صدقات انداخت . حالا محمد چند ریال دارد؟ (باشکل)

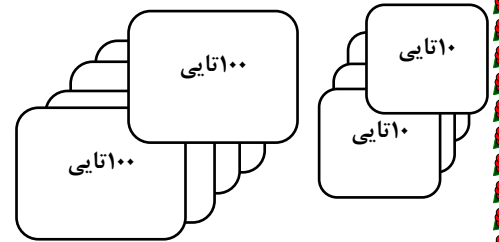
۱۰- عددی را که هر شکل نشان می دهد در جدول قرار دهید و به رقم و حروف بنویسید.



یکان دهگان صدگان

رقم : .....

حروف : .....



یکان دهگان صدگان

رقم : .....

حروف : .....

۱۱- با سه کارت که روی آن ها رقم های ۷ و ۵ و ۶ نوشته شده است تمام عددهای سه رقمی که می توان ساخت را درست کنید.

الف) دور بزرگ ترین عدد سه رقمی خط آبی و کوچک ترین عدد سه رقمی خط قرمز بکشید.

ب) عددی سه رقمی را انتخاب کنید که دهگان آن کوچک ترین عدد باشد.

۱۲- عددی سه رقمی هستم که یکان من مجموع رقم های ۴ و ۲ و دهگان من نصف عدد یکان و صدگان من مجموع

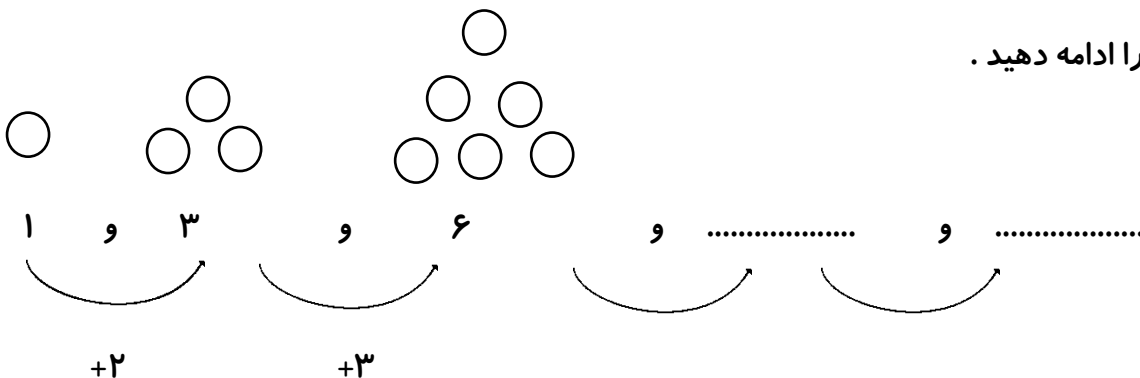
یکان | دهگان | صدگان

یکان و دهگانم است . من چه عددی هستم؟ .....

۱۳- ۱۵ دقیقه بعد از ساعت ۳:۴۰ می شود .....

نیم ساعت بعد از ساعت ۴ : ۱۵ چه ساعتی است؟ .....

۱۴- الگوی زیر را ادامه دهید .





۱۹- مریم ۹۶ امتیاز داشت . ابتدا به یک سوال ۹ امتیازی پاسخ درست داد . سپس یک سوال ۷ امتیازی را از دست داد . حالا او چند امتیاز دارد؟

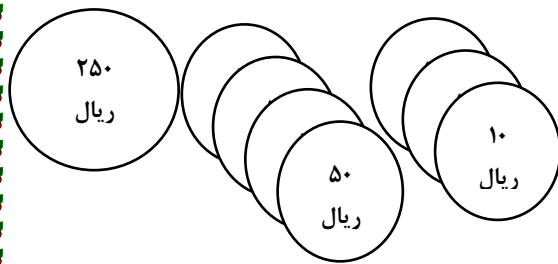
۲۰- هر عدد را به صورت باز شده بنویسید.

$$۷۵۶ = \dots + \dots + \dots$$

$$۳۰۴ = \dots$$

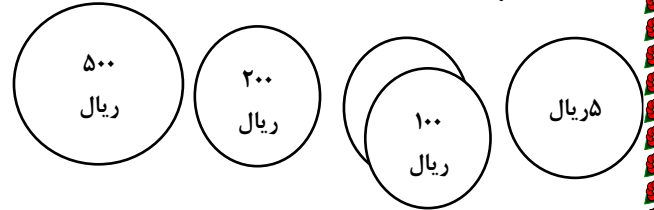
$$۴۶۰ = \dots$$

$$۲۵۶ = \dots$$



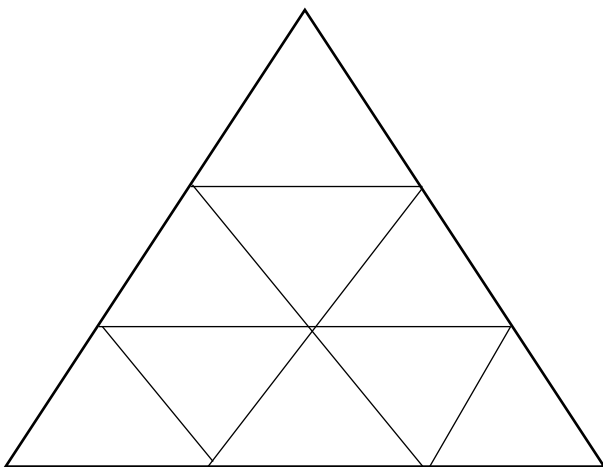
ریال .....

۲۱- مقدار پول را در هر قسمت به دست آورید .



ریال .....

۲۲- این شکل از چند مثلث درست شده است ؟



# پیاموز | Biamoz.com

بزرگترین مرجع آموزشی و نمونه سوالات درسی تمامی مقاطع

شامل انواع | نمونه سوالات | فصل به فصل | پایان ترم | جزوه |

ویدئوهای آموزشی | گام به گام | طرح درس | طرح جابر | و ...

اینستاگرام

گروه تلگرام

کانال تلگرام

برای ورود به هر پایه در سایت ما روی اسم آن کلیک کنید

## دبستان

اول	دوم	سوم	چهارم	پنجم	ششم
-----	-----	-----	-------	------	-----

## متوسطه اول

هفتم	هشتم	نهم
------	------	-----

## متوسطه دوم

دهم	یازدهم	دوازدهم
-----	--------	---------