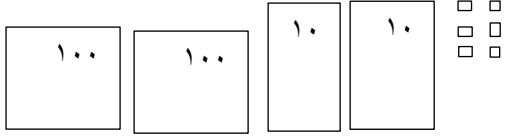

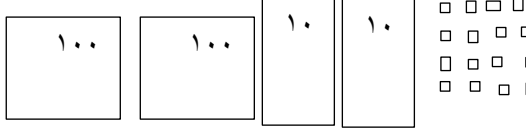


۱- علامت مناسب بگذار.

		
$۲۰ + ۱۰۰ + ۱۰ + ۷$		$۱۰۰ + ۱۰ + ۵ + ۵ + ۱۰ + ۷$
$۴۰۰ - ۱۰۰$		$۱۰۰ + ۳۰۰$

۲- جمع و تفریق زیر را به صورت (گسترده اعداد) بنویس.

$$\begin{array}{r} ۵۲۵ \\ + ۲۳۴ \\ \hline + \\ \hline + \\ \hline \end{array}$$

$$\begin{array}{r} - ۷۱۸ \\ ۴۰۵ \\ \hline - \\ \hline - \\ \hline \end{array}$$

۳- جمع و تفریق زیر را به روش ستونی بنویس.

$$\begin{array}{r} ۲۱۶ \\ + ۳۴۳ \\ \hline \end{array}$$

$$\begin{array}{r} ۶۹۳ \\ - ۴۵۲ \\ \hline \end{array}$$

۴- جمع و تفریق زیر را به صورت ذهنی بنویس.

$$۵۷۰ + ۲۱۰ =$$

$$۷۴۰ - ۳۳۰ =$$

۵- پدر بزرگ رضا ۳۴۸ راس گوسفند داشت او ۱۳۷ راس آنها را فروخت ، حالا پدر بزرگ رضا چند راس گوسفند دارد ؟

بازخورد	تأحدودی	خیر	بلی	انتظارات آموزشی
				اعداد سه رقمی را درست مقایسه می کند .
				جمع و تفریق را به روش گسترده درست انجام می دهد.
				جمع و تفریق اعداد سه رقمی را به روش ستونی درست انجام می دهد.
				جمع و تفریق ریاضی را به روش ذهنی انجام می دهد .
				مساله ی تفریق را بدرستی انجام می دهد .

پیاموز | Biamoz.com

بزرگترین مرجع آموزشی و نمونه سوالات درسی تمامی مقاطع

شامل انواع | نمونه سوالات | فصل به فصل | پایان ترم | جزوه |

ویدئوهای آموزشی | گام به گام | طرح درس | طرح جابر | و ...

اینستاگرام

گروه تلگرام

کانال تلگرام

برای ورود به هر پایه در سایت ما روی اسم آن کلیک کنید

دبستان

اول	دوم	سوم	چهارم	پنجم	ششم
-----	-----	-----	-------	------	-----

متوسطه اول

هفتم	هشتم	نهم
------	------	-----

متوسطه دوم

دهم	یازدهم	دوازدهم
-----	--------	---------