



ارزشیابی مستمر فصل (۶) ریاضی پایه دوم

بارم	شرح سوالات	ردیف
------	------------	------

عددی را که هر شکل نشان می دهد ابتدا در جدول درجول قرار داده و پس از کامل شدن در جای داده شده بنویسید.

عددهای داده شده را مقایسه (< = >) کنید.

۵۹۳ ○ ۵۶۷ ۷۹۷ ○ ۳۰۷

۹۹۳ ○ ۶۶۵ ۱۶۳ ○ ۱۶۴ ۷۷ ○ ۸۰۷

جمع و تفریق ها را انجام داده و حاصل را کنار هر کدام نوشته و پاسخ ها را مقایسه (< = >) کنید.

..... = ۸۰ + ۴۰ + ۷۰۰ ○ ۹۰۰ - ۷۰ =

..... = ۲۰ + ۹۰ + ۳۰۰ ○ ۴۰۰ + ۱۰۰ =

جمع و تفریق های داده شده را به صورت فرآیندی (بادکنکی) انجام دهید.

$$\begin{array}{r} 947 \\ - 426 \\ \hline \end{array}$$

$$\begin{array}{r} 431 \\ + 247 \\ \hline \end{array}$$

با سرعت بیش تر و ذهنی پاسخ ها را پیدا کرده و بنویسید.

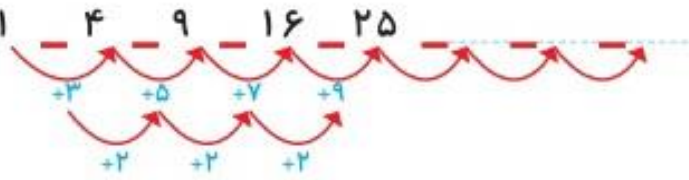
۶۲۰ + ۳۴۰ =

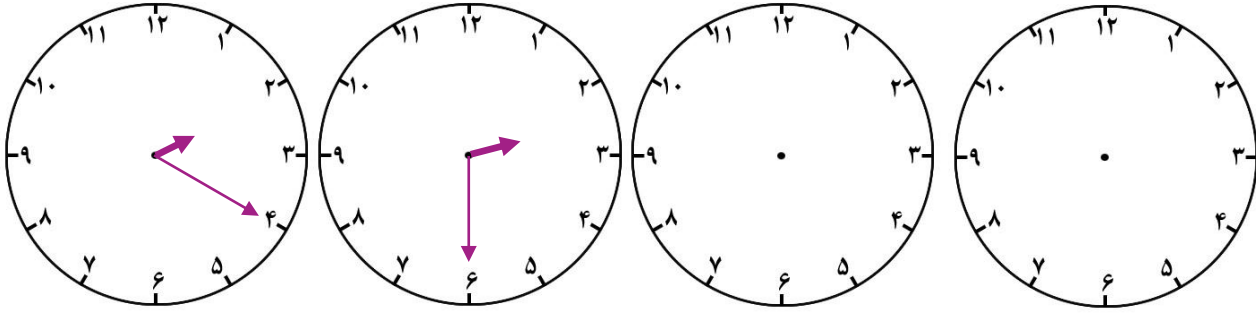
۷۳۰ - ۲۰۰ =

۱۷۰ + ۵۰۰ =

۹۵۰ - ۳۳۰ =

الگوهای عددی داده شده را ادامه دهید.



ردیف	شرح سوالات	بارم
۷	<p>عدد های داده شده را به صورت باز و گسترده بنویسید.</p> <p>۶۷۲ = ۸۹۷ = ۳۵۴ =</p>	
۸	<p>با توجه به الگویابی که در ساعت وجود دارد عقربه های بعدی را خودتان رسم کنید.</p> 	
۹	<p>جمع و تفریق های با انتقال زیر را با روش تکنیکی (قدیمی) انجام دهید.</p> $\begin{array}{r} 601 \\ - 426 \\ \hline \end{array}$ $\begin{array}{r} 179 \\ + 547 \\ \hline \end{array}$	
۱۰	<p>طرف دیگر تساوی را بنویسید.</p> <p>۳۰۰ + ۶۰ + ۲۰۰ + ۴۰۰ + ۷ = ۱۰۰ + ۵۰۰ + ۲۰۰ + ۴۰ + ۵ =</p> <p>۵۰۰ + ۲۰۰ + ۲۰۰ + ۱۰ + ۳ =</p>	
۱۱	<p>یک کتاب داستان ۲۷۶ صفحه دارد. اکرم ۱۳۹ صفحه را تا شنبه خوانده بود. روز شنبه ۵۸ صفحه ی دیگر را خواند. چند صفحه از کتاب باقی مانده است؟ (با روش دلخواه)</p>	
۱۲	<p>مریم ۶ سگه ی صدریالی ، ۳ سگه ی ۰ ریالی و ۵ سگه ی ۱ ریالی داشت. او ۳۲۵ ریال را در صندوق صدقات انداخت. حالا او چقدر پول دارد؟ (با روش دلخواه)</p>	

پیاموز | Biamoz.com

بزرگترین مرجع آموزشی و نمونه سوالات درسی تمامی مقاطع

شامل انواع | نمونه سوالات | فصل به فصل | پایان ترم | جزوه |

ویدئوهای آموزشی | گام به گام | طرح درس | طرح جابر | و ...

اینستاگرام

گروه تلگرام

کانال تلگرام

برای ورود به هر پایه در سایت ما روی اسم آن کلیک کنید

دبستان

اول	دوم	سوم	چهارم	پنجم	ششم
-----	-----	-----	-------	------	-----

متوسطه اول

هفتم	هشتم	نهم
------	------	-----

متوسطه دوم

دهم	یازدهم	دوازدهم
-----	--------	---------