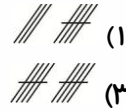
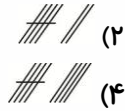




فصل‌های ۷۲ تا ۱۰۵

۵


۱ - چوب خط مناسب برای شکل زیر، کدام گزینه است؟



۲ - کدام گزینه در ادامه‌ی الگوی زیر می‌تواند قرار بگیرد؟



۳ - اگر شکل زیر را به دسته‌های ده‌تایی تقسیم کنیم در جاهای خالی عبارت زیر، به ترتیب از راست به چپ چه



۲ و ۴ (۴)

۱ و ۴ (۳)

۶ و ۲ (۲)

۴ و ۲ (۱)

عددهایی باید بنویسیم؟

«... ده‌تایی و ... یکی.»

۴ - جمع مربوط به شکل زیر کدام است؟




$۳ + ۲ + ۱ = ۶$  (۲)

$۴ + ۲ + ۱ = ۷$  (۱)

$۴ + ۱ + ۳ = ۸$  (۴)

$۲ + ۱ + ۵ = ۸$  (۳)

۵ - در مربع خالی زیر، شکل کدام‌یک از گزینه‌ها را می‌توانیم قرار دهیم؟




۱

÷

۶

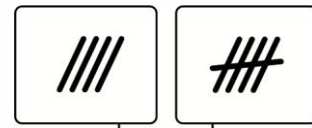
۲

۶ - کدام گزینه صحیح نمی‌باشد؟



$7 > 4$

(۲)




$4 < 5$

(۱)



$2 = 2$

(۴)



$8 < 4$

(۳)

۷ - اگر برای شکل مقابل یک تفریق بنویسیم، حاصل آن برابر کدام گزینه است؟



۲ (۱)

۴ (۲)

۶ (۳)

۸ (۴)

۸ - تعداد کدام شکل‌ها به ترتیب از راست به چپ از بقیه بیشتر و کم‌تر است؟



(۲) و

(۱) و

(۴) و

(۳) و

۹ - شکل زیر را حداکثر به چند دسته‌ی سه‌تایی می‌توان دسته‌بندی کرد؟

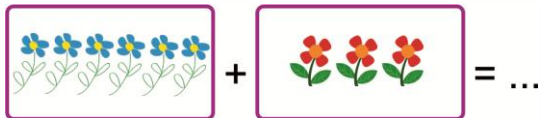
۸ (۲)

۹ (۱)

۵ (۴)

۷ (۳)

۱۰ - کدام گزینه مربوط به جمع زیر می‌باشد؟



$6 + 3 = 8$  (۱)

$5 + 3 = 9$  (۲)

$6 + 4 = 10$  (۳)

$6 + 3 = 9$  (۴)

# پیاموز | Biamoz.com

بزرگترین مرجع آموزشی و نمونه سوالات درسی تمامی مقاطع

شامل انواع | نمونه سوالات | فصل به فصل | پایان ترم | جزوه |

ویدئوهای آموزشی | گام به گام | طرح درس | طرح جابر | و ...

اینستاگرام

گروه تلگرام

کانال تلگرام

برای ورود به هر پایه در سایت ما روی اسم آن کلیک کنید

## دبستان

اول	دوم	سوم	چهارم	پنجم	ششم
-----	-----	-----	-------	------	-----

## متوسطه اول

هفتم	هشتم	نهم
------	------	-----

## متوسطه دوم

دهم	یازدهم	دوازدهم
-----	--------	---------