


تاریخ:

دبستان:

نام و نام خانوادگی:

اهداف آزمون: توانایی ساختن عدد به رقمی و نوشتن آن به رقم و حروف - جمع و تفریق و مقایسه ی اعداد - اندازه گیری - کامل کردن نمودار - حل مسئله



ریال



ریال

۱- سکه های هر دسته را بنویس .



۹۰۸



۵۲۵

۲- عددها را به حروف بنویس .

۳- با سه رقم (۹ - ۰ - ۳) بزرگ ترین و کوچک ترین عدد سه رقمی که می شود ، بساز .

کوچک ترین عدد

بزرگ ترین عدد

$$\begin{array}{r} 434 \\ + 263 \\ \hline \end{array}$$

+

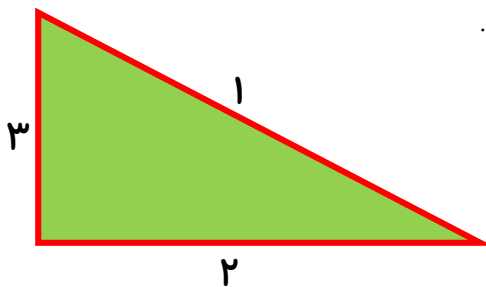
+

$$\begin{array}{r} 978 \\ - 452 \\ \hline \end{array}$$

-

-

۴- جمع و تفریق را به روش فرایندی (سه مرحله ای) انجام بده .



۵- ضلع های مثلث را اندازه گیری کن و در جای مناسب بنویس .

ضلع اول سانتی متر و میلی متر است

ضلع دوم سانتی متر و میلی متر است

ضلع سوم سانتی متر و میلی متر است

۶- جمله ها را کامل کن .

۵۹ میلی متر یعنی همان سانتی متر و میلی متر

۸ سانتی متر و ۶ میلی متر یعنی همان میلی متر

۷- بین عددها علامت مناسب $> = <$ قرار بده . $۱۰ + ۵۰ + ۱۰۰ + ۲۰۰ + ۳۰۰ + ۱۰۰$ $۳۰۰ + ۵۰ + ۱۰۰ + ۲۰ + ۱۰ + ۲۰$

$۲۰ + ۱۰۰ + ۴۰۰ + ۱۰۰ + ۵۰$ $۴۰۰ + ۲۰ + ۱۰۰ + ۱۰۰ + ۵$

۸- جواب جمع و تفریق را در یک مرحله بنویس .


$$\begin{array}{r} ۳۷۵ \\ + ۴۱۸ \\ \hline \end{array}$$

$$\begin{array}{r} ۸۰۸ \\ - ۳۷۹ \\ \hline \end{array}$$

.....

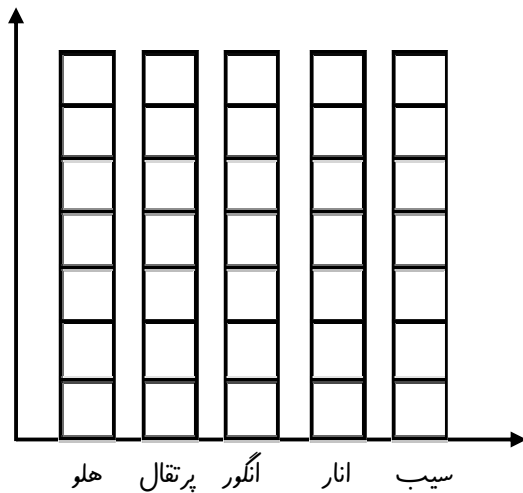
.....

۹- با توجه به شکل روبرو جمله ها را کامل کن .



..... قیمت از قسمت مساوی رنگ شده و قیمت از قسمت مساوی رنگ نشده است .

۱۰- دانش آموزان یک کلاس میوه ی مورد علاقه ی خود را از بین



(سیب- انار- انگور- پرتقال و هلو) انتخاب کرده اند. انتخاب آن ها

به ترتیب : انار- پرتقال- پرتقال- سیب- انگور- انار- هلو- انار

سیب- هلو- سیب- هلو- پرتقال- پرتقال- انگور- انگور، بوده است .

نمودار روبرو را با توجه به این اطلاعات کامل کن .

دانش آموزان این کلاس بیشتر به کدام میوه علاقه دارند ؟

۱۰- حسین با یک اسکناس ۵۰۰ ریالی برای خرید به مغازه رفته است . او ۱۵۰ ریال برای بستنی و ۳۰۰ ریال برای بیسکویت

به مغازه دار داده است. مغازه دار باید چند ریال به او پس بدهد؟



پیاموز | Biamoz.com

بزرگترین مرجع آموزشی و نمونه سوالات درسی تمامی مقاطع

شامل انواع | نمونه سوالات | فصل به فصل | پایان ترم | جزوه |

ویدئوهای آموزشی | گام به گام | طرح درس | طرح جابر | و ...

اینستاگرام

گروه تلگرام

کانال تلگرام

برای ورود به هر پایه در سایت ما روی اسم آن کلیک کنید

دبستان

اول	دوم	سوم	چهارم	پنجم	ششم
-----	-----	-----	-------	------	-----

متوسطه اول

هفتم	هشتم	نهم
------	------	-----

متوسطه دوم

دهم	یازدهم	دوازدهم
-----	--------	---------