

نام و نام خانوادگی:

بسمه تعالی

تاریخ:

سال تحصیلی

۱- اعداد داخل جدول زیر را به صورت تقریبی به دست آورید. (با حذف رقم یکان و دهگان)

تعداد دانش آموزان	مدرسه ی اول	مدرسه ی دوم	مدرسه ی سوم	مدرسه ی چهارم
تعداد	۴۴۷	۶۵۶	۲۳۹	۵۷۸

با در نظر گرفتن یک برای هر ۱۰۰ دانش آموز، نمودار زیر را کامل کنید.




۲- تعداد صندوق صدقات را در چند نقطه ی شهر مشخص کرده ایم. هر ۱۰۰ صندوق را با ● نشان دهید و

جدول زیر را کامل کنید.

منطقه	تعداد صندوق ها	نمودار تصویری
یک	۳۰۰	●●●●
دو	-----	
سه	۱۵۰	
چهار	-----	●●●●●

۳- با توجه به جدول داده شده نمودار تصویری بکشید. (هر ۱۰ خوراکی با □ نشان دهید.)

خوراکی	بادام	پسته	گردو	فندق
تعداد	۸۹	۷۳	۶۳	۴۷
تقریبی				



۴- مهدیس تابستان امسال در طول ۲ هفته فعالیت‌های روزانه‌ی زیر را انجام داده است. با توجه به فعالیت‌های که در هر روز انجام داده در نمودار زیر خانه های زیر را رنگ کنید. هر خانه نشان دهنده ی یک روز است. سپس نمودار زیر را کامل کنید.

مرور درس ← سبز

کلاس شنا ← آبی

کلاس زبان ← قرمز

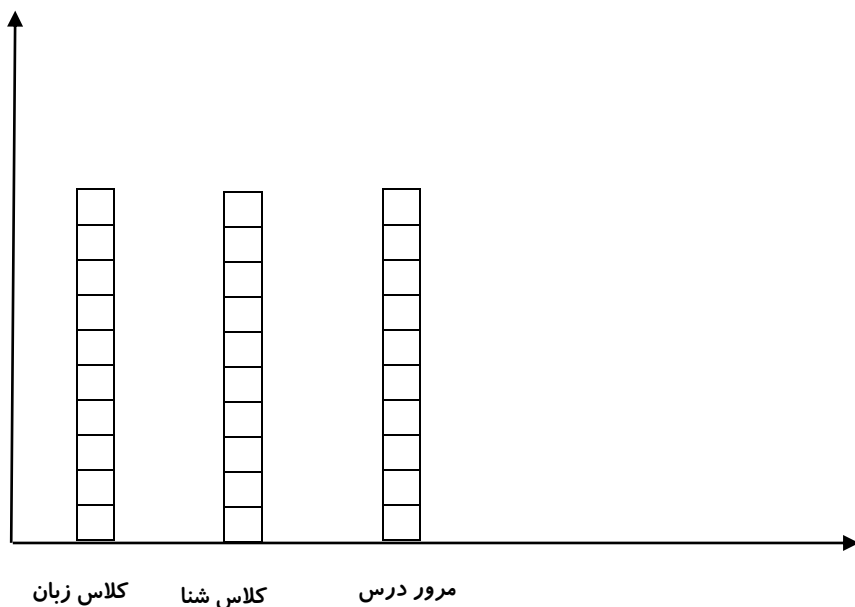


(کلاس شنا، کلاس زبان، مرور درس، کلاس شنا، کلاس شنا، مرور درس، مرور درس، کلاس شنا، مرور درس،

کلاس شنا، کلاس زبان، کلاس زبان، کلاس شنا، کلاس زبان)

- مهدیس در طول هفته ، کدام فعالیت را بیشتر انجام داده است ؟

- به نظر شما کدام نوع نمودار برای پاسخ به این سوال مناسب تر است ؟ چرا ؟



۵- در مغازه ی عمو رضا بستنی های زیر به فروش می رسد . مشتریان امروز به صورت زیر انواع بستنی ها را خریداری کردند . با توجه به نوع بستنی ها و تعداد آن ها جدول را کامل کنید . سپس نمودار ستونی را رنگ کنید .

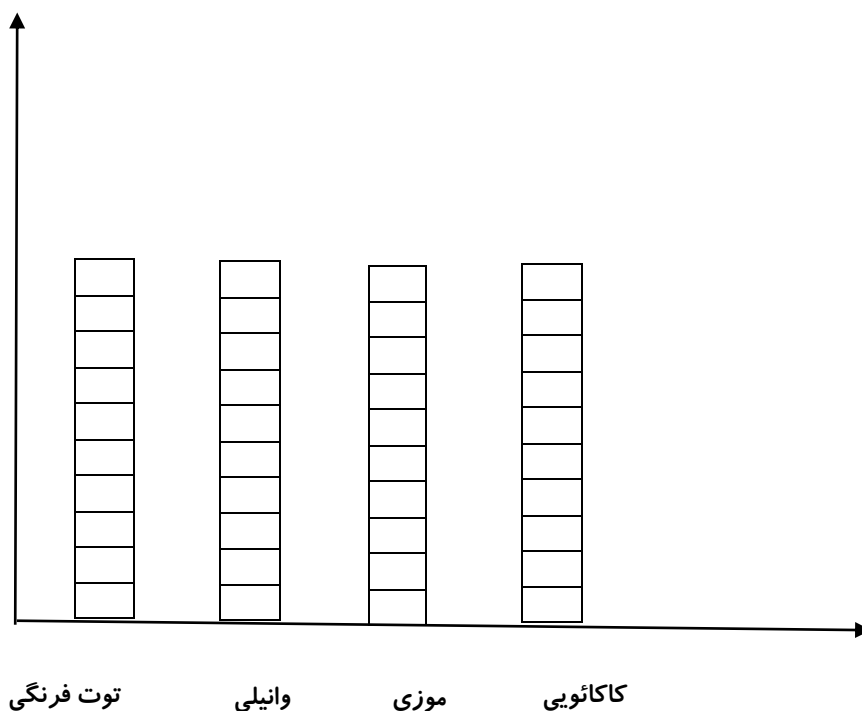
(موزی ، کاکائویی، کاکائویی، وانیلی، موزی، وانیلی، وانیلی، توت فرنگی، موزی، کاکائویی، توت فرنگی، موزی، وانیلی، وانیلی)

تعداد	چوب خط	نوع بستنی
		توت فرنگی
		وانیلی
		موزی
		کاکائویی
		مجموع

الف) کدام بستنی بیش تر فروخته شده است ؟

ب) کدام بستنی کم تر فروخته شده است ؟

ج) چند بستنی موزی و وانیلی روی هم فروخته شده است ؟



پیاموز | Biamoz.com

بزرگترین مرجع آموزشی و نمونه سوالات درسی تمامی مقاطع

شامل انواع | نمونه سوالات | فصل به فصل | پایان ترم | جزوه |

ویدئوهای آموزشی | گام به گام | طرح درس | طرح جابر | و ...

اینستاگرام

گروه تلگرام

کانال تلگرام

برای ورود به هر پایه در سایت ما روی اسم آن کلیک کنید

دبستان

اول	دوم	سوم	چهارم	پنجم	ششم
-----	-----	-----	-------	------	-----

متوسطه اول

هفتم	هشتم	نهم
------	------	-----

متوسطه دوم

دهم	یازدهم	دوازدهم
-----	--------	---------