

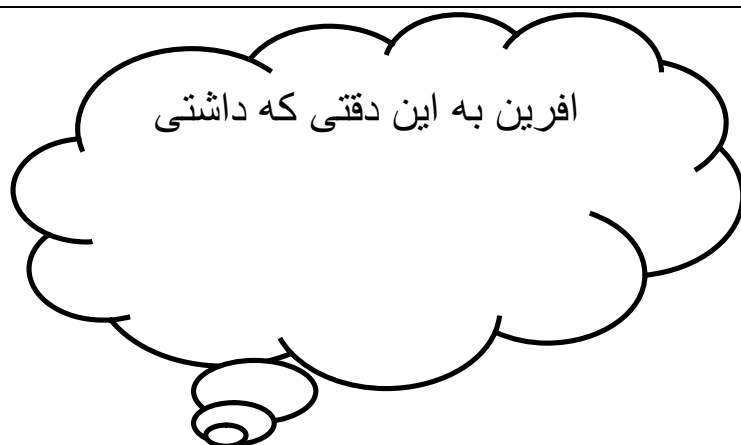


نام خانوادگی: نام پدر:	به نام خدای مهربان سوالات ریاضی دوم	تاریخ: زمان:
۱	جدول ارزش مکانی زیر را کامل کن.  به حروف.....	
۲	عدد ۴۵۶ چند رقمی است؟ 	
۳	با سه عدد ۲ و ۴ و ۶ چند عدد سه رقمی می توان نوشت؟ ان ها را بنویس. .....	
۴	برای شکل زیر دو جمع و دو تفریق بنویس. ..... ..... ..... .....	
۵	علامت <=> بگذار. ۶۱ <input type="checkbox"/> ۵۱    ۴۵۶ <input type="checkbox"/> ۴۵۸    ۱۷ <input type="checkbox"/> ۷۱    ۴-(۶+۵) <input type="checkbox"/> ۳-(۶+۴)	
۶	زهرا دو پیراهن برای پسرانش دوخته است. برای هر پیراهن ۷ دکمه لازم دارد. او باید چند دکمه بخرد؟	
۷	برای محور زیر یک جمع بنویس.	
۸	نام هر یک از خط های زیر را بنویس.  .....	

۹	دور عددهای فرد خط بکش. ۴۰-۴۱-۳۳-۹۸-۱-۳-۱۲۴-۷۳-۴۶-۱۴۷-۵۶۹-۴۵-۲۴-۳۲
۱۰	هر یک از ساعت های زیر چه زمانی را نشان می دهند؟  ساعت.....و.....دقیقه
۱۱	حاصل تفریق های زیر را بنویس. $\begin{array}{r} 369 \\ -143 \\ \hline \end{array}$ $\begin{array}{r} 900 \\ -369 \\ \hline \end{array}$ $\begin{array}{r} 459 \\ -196 \\ \hline \end{array}$
۱۲	حاصل جمع های زیر را بنویس. $\begin{array}{r} 459 \\ +129 \\ \hline \end{array}$ $\begin{array}{r} 364 \\ +516 \\ \hline \end{array}$ $\begin{array}{r} 126 \\ +236 \\ \hline \end{array}$
۱۳	عددهای زیر را به حروف بنویس. ۳۷۸ ..... ۵۷۴ .....
۱۴	مادر فاطمه ۲۸ کلاه دخترانه و ۲۲ کلاه پسرانه بافته است. او چند کلاه بافته است؟ اگر ۱۶ تای آن ها را بفروشد چند کلاه برای او می ماند؟



# پیاموز | Biamoz.com

بزرگترین مرجع آموزشی و نمونه سوالات درسی تمامی مقاطع

شامل انواع | نمونه سوالات | فصل به فصل | پایان ترم | جزوه |

ویدئوهای آموزشی | گام به گام | طرح درس | طرح جابر | و ...

اینستاگرام

گروه تلگرام

کانال تلگرام

برای ورود به هر پایه در سایت ما روی اسم آن کلیک کنید

## دبستان

اول	دوم	سوم	چهارم	پنجم	ششم
-----	-----	-----	-------	------	-----

## متوسطه اول

هفتم	هشتم	نهم
------	------	-----

## متوسطه دوم

دهم	یازدهم	دوازدهم
-----	--------	---------