

به نام خدا

نام و نام خانوادگی :

نوبت دوم

نام پدر :

تاریخ :

۱- عدد های زیر را به حروف و رقم بنویسید .

دویست و پنجاه و شش ..... ۴۰۴ .....

۲- جاهای خالی را پر کنید .

۸۶۴ برابر است با ..... یکی و ..... ده تایی و ..... صدتایی.

کوچک ترین عدد یک رقمی ..... و بزرگ ترین عدد یک رقمی ..... است .

۳- دنباله ی عدد های زیر را بنویسید .

۰ - ۲ - ۴ -

۳۰۰ - ۳۰۱ -

۴- دور عدد های زوج خط بکشید .

۳۰ - ۲۳ - ۶ - ۲ - ۷ - ۱۰ - ۵ - ۱۴

۵- زیر عدد های فرد خط بکشید .

۱۹ - ۲۰ - ۱۱ - ۲۴ - ۵ - ۱۳ - ۴ - ۷

۶- جمع و تفریق های زیر را انجام دهید .

$۵+۲=$

$۱۲-۵=$

$(۳+۲)+۱=$

$۹+۷=$

$۱۵ - ۷=$

$۲+(۴+۳)=$

۷- جاهای خالی را پر کنید .

$۳ + = ۵$

$- ۷ = ۳$

$+ ۲ = ۱۰$

$۲ - = ۰$

۸- با استفاده از محور حاصل تفریق را پیدا کنید .



$$14 - 8 =$$

۹- در جاهای خالی علامت  $<$   $=$   $>$  قرار دهید .

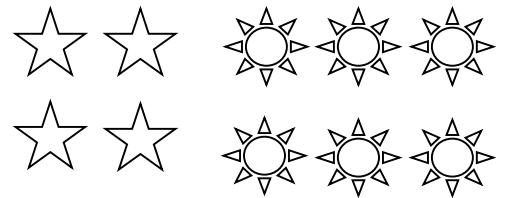
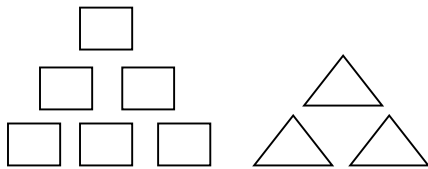
$$4 + 2 \square 9 - 3$$

$$100 \square 99$$

$$16 \square 61$$


$$549 \square 803$$

۱۰- برای هر شکل دو جمع و دو تفریق بنویسید .



۱۱- علی ۱۱ مداد داشت. ۴ تای آن را به خواهرش داد. حالا او چند مداد دارد؟

۱۲- ساعت زیر را کامل کنید و ۴:۲۵ را نشان دهید



... : ...

# پیاموز | Biamoz.com

بزرگترین مرجع آموزشی و نمونه سوالات درسی تمامی مقاطع

شامل انواع | نمونه سوالات | فصل به فصل | پایان ترم | جزوه |

ویدئوهای آموزشی | گام به گام | طرح درس | طرح جابر | و ...

اینستاگرام

گروه تلگرام

کانال تلگرام

برای ورود به هر پایه در سایت ما روی اسم آن کلیک کنید

## دبستان

اول	دوم	سوم	چهارم	پنجم	ششم
-----	-----	-----	-------	------	-----

## متوسطه اول

هفتم	هشتم	نهم
------	------	-----

## متوسطه دوم

دهم	یازدهم	دوازدهم
-----	--------	---------