
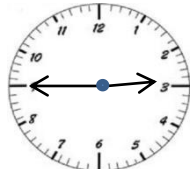
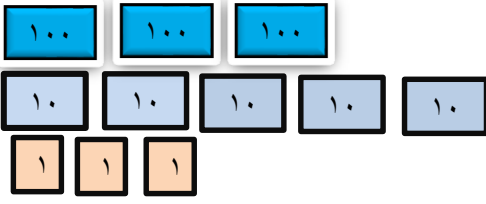
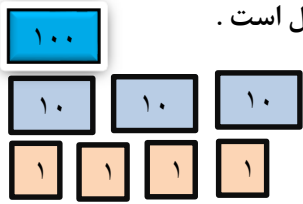




سوال	شرح سوال																				
۱	<p>جاهای خالی را کامل کن .</p> <table border="1" style="width: 100%; text-align: center;"> <tr> <td>یکان</td> <td>دهگان</td> <td>صدگان</td> <td>۸۳۲</td> <td>یکان</td> <td>دهگان</td> <td>۵۹</td> </tr> <tr> <td>.....</td> <td>.....</td> <td>.....</td> <td></td> <td>.....</td> <td>.....</td> <td></td> </tr> </table>	یکان	دهگان	صدگان	۸۳۲	یکان	دهگان	۵۹							
یکان	دهگان	صدگان	۸۳۲	یکان	دهگان	۵۹															
.....																
۲	<p>حاصل جمع های زیر را بدست بیاور .</p> <p>$۸ + ۱۰ + ۳۰ + ۵ + ۵ = \dots\dots\dots$</p> <p>$۲۰ + ۱۵ + ۳۰ + ۵ + ۱۵ = \dots\dots\dots$</p>																				
۳	<p>در جای خالی عدد مناسب بنویس .</p> <p>الف (۵۲ به چه عددی نزدیک تر است ؟ ۴۰ یا ۵۰ ؟)</p> <p>ب (۷۹ به چه عددی نزدیک تر است ؟ ۷۰ یا ۸۰ ؟)</p>																				
۴	<p>ساعت چند است ؟ بنویس .</p> <div style="display: flex; justify-content: space-around; align-items: center;"> <div style="text-align: center;">  <p>ساعت و دقیقه</p> </div> <div style="text-align: center;">  <p>ساعت و دقیقه</p> </div> </div>																				
۵	<p>اشکال زیر را رسم کن و تعداد ضلع ها و گوشه های هر یک را بنویس .</p> <table border="1" style="width: 100%; text-align: center;"> <thead> <tr> <th>دایره</th> <th>مثلث</th> <th>مربع</th> <th>مستطیل</th> <th>رسم شکل</th> </tr> </thead> <tbody> <tr> <td style="height: 40px;"></td> <td></td> <td></td> <td></td> <td></td> </tr> <tr> <td style="height: 40px;"></td> <td></td> <td></td> <td></td> <td>تعداد ضلع</td> </tr> <tr> <td style="height: 40px;"></td> <td></td> <td></td> <td></td> <td>تعداد گوشه</td> </tr> </tbody> </table>	دایره	مثلث	مربع	مستطیل	رسم شکل										تعداد ضلع					تعداد گوشه
دایره	مثلث	مربع	مستطیل	رسم شکل																	
				تعداد ضلع																	
				تعداد گوشه																	
۶	<p>کیسه ها را بشمار و بنویس چند ریال است .</p> <div style="display: flex; justify-content: space-around;"> <div style="text-align: center;"> <p>..... ریال</p>  </div> <div style="text-align: center;"> <p>..... ریال</p>  </div> </div>																				
۷	<p>اعداد زیر را به رقم و حروف بنویس .</p> <p>پانصد و هفتاد ۶۰۲</p> <p>ششصد و نود و یک ۹۴۰</p>																				
۸	<p>حسین ۴۰۰ ریال و مجید ۳۰۰ ریال را در صندوق انداختند . آن ها با هم چند ریال در صندوق انداخته اند ؟</p>																				
۹	<p>خط های زیر را با خط کش اندازه بگیر و بنویس چند میلی متر است .</p> <div style="display: flex; justify-content: space-around; align-items: center;"> <div style="text-align: center;"> <p>..... میلی متر</p>  </div> <div style="text-align: center;"> <p>..... میلی متر</p>  </div> </div>																				



با عدد های ۹، ۲، ۵ تا می توانی اعداد ۳ رقمی بنویس و دور آن هایی که یکان آن ها ۲ است خط بکش .

۱۰

حاصل جمع و تفریق های زیر را بدست بیاور .

فرایندی	تکنیکی	فرایندی	تکنیکی
۶۵۱	۵۹۲	۴۹۲	۴۲۸
+ ۲۳۲	+ ۲۲۱	- ۲۵۱	- ۱۱۹
.....

۱۱

عدد ها را مقایسه کن و علامت مناسب $< = >$ بگذار .

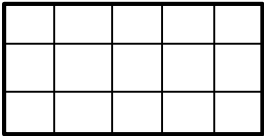
$۱۰۰ + ۳۰۰$ ○ $۲۰۰ + ۲۰۰$

$۲۰۰ + ۷$ ○ ۲۲۰

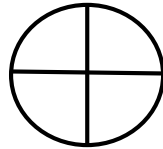
۳۱۶ ○ ۴۱۵

۱۲

با توجه به عبارت نوشته شده ، شکل را رنگ بزن .



۶ قسمت از ۱۵ قسمت



۲ قسمت از ۴ قسمت

۱۳



در جعبه ی مداد رنگی ۲ مداد قرمز ، ۵ مداد آبی و ۳ مداد سبز وجود دارد .

چه کسری از مداد ها قرمز است ؟

چه کسری از مداد ها آبی است ؟

چه کسری از مداد ها سبز است ؟

۱۴


تعداد دانش آموزان شرکت کننده در رشته های ورزشی یک باشگاه به صورت زیر است .

رشته	والیبال	بسکتبال	فوتبال	کاراته	شنا	ژیمناستیک
تعداد	۶۳	۴۸	۳۳	۳۴	۳۸	۲۱
تعداد تقریبی

ابتدا تعداد تقریبی دانش آموزان را بنویس و نمودار را با نشان دادن هر ۱۰ نفر با شکل کامل کن .



۱۵



باز خورد معلم

خیلی خوب ○ خوب ○ قابل قبول ○ نیاز به تلاش بیشتر ○

ارزشیابی توصیفی

پیاموز | Biamoz.com

بزرگترین مرجع آموزشی و نمونه سوالات درسی تمامی مقاطع

شامل انواع | نمونه سوالات | فصل به فصل | پایان ترم | جزوه |

ویدئوهای آموزشی | گام به گام | طرح درس | طرح جابر | و ...

اینستاگرام

گروه تلگرام

کانال تلگرام

برای ورود به هر پایه در سایت ما روی اسم آن کلیک کنید

دبستان

اول	دوم	سوم	چهارم	پنجم	ششم
-----	-----	-----	-------	------	-----

متوسطه اول

هفتم	هشتم	نهم
------	------	-----

متوسطه دوم

دهم	یازدهم	دوازدهم
-----	--------	---------