

باسمه تعالی

تاریخ آزمون : /

مدت آزمون :

نام و نام خانوادگی :

آزمون ریاضی پایه دوم ابتدایی

نام آموزشگاه :

۱) جواب درست را با علامت X مشخص کنید:

الف) یک سانتی متر ۱۰ میلی متر است . درست نادرست

ب) مستطیل ۴ ضلع هم اندازه دارد. درست نادرست

ج) یک ربع ساعت چند دقیقه است ؟ ۳۰ دقیقه ۲۵ دقیقه ۱۵ دقیقه ۶۰ دقیقه

۲) جاهای خالی را کامل کنید:

الف) عدد ۵۸۲ چند رقم دارد؟ رقم دهگان آن چند است؟

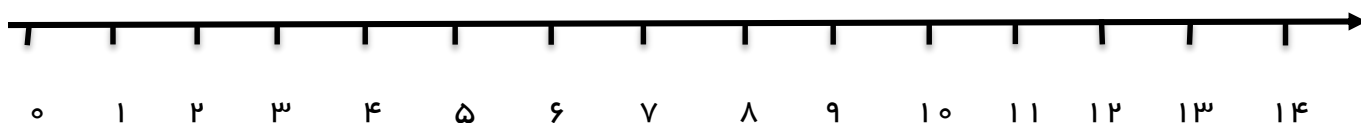
ب) در ریاضی ۳ قسمت از ۸ قسمت مساوی را یک می گویند.

ج) ۱۵ میلی متر همان سانتی متر و میلی متر است.

د) ۲۰ میلی متر همان سانتی متر است.

۳) امروز روز پنجم ماه است. ۸ روز بعد چه روزی از ماه است؟ روی محور نیز نشان بده.

..... + =



۴) با رقم و حروف بنویسید.

۶۲۵

چهارصد و هفت

۵) با رقم های ۹ و ۵ و ۴ عددهای سه رقمی بنویسید:

.....

۶) جمع و تفریق های زیر را انجام دهید.

59	23
$- 24$	$+ 65$
.....
-	+
.....

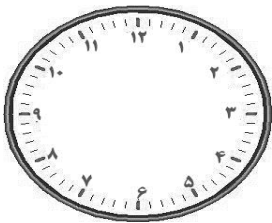
432	759
$+ 365$	$- 186$
.....



۷) جاهای خالی را با اعداد مناسب پر کنید.

..... دسته ی تایی ، می شود..... تا

..... دسته ی تایی ، می شود..... تا

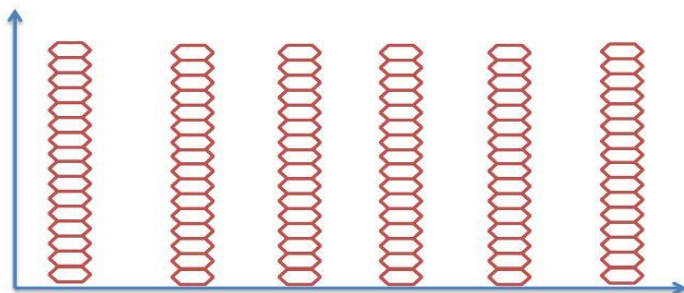


۸) ساعت ۲۰: ۷ را روی شکل نشان دهید.

نیم ساعت بعد ، ساعت چند می شود؟

۱۳- تعداد دانش آموزان دختر دبستان بوستان که در مسابقه طناب کشی شرکت کردند در هر پایه به صورت زیر است:

اول ۸ نفر ، دوم ۱۴ نفر ، سوم ۱۰ نفر ، چهارم ۸ نفر ، پنجم ۶ نفر ، ششم ۸ نفر



کدام پایه بیشترین شرکت کننده را دارد؟

کدام پایه کمترین شرکت کننده را دارد؟

تعداد شرکت کنندگان در مسابقه ی طناب کشی چند نفر است؟

«امیدهای آینده همیشه موفق و سر بلند باشید.»

باز خورد توصیفی :

پیاموز | Biamoz.com

بزرگترین مرجع آموزشی و نمونه سوالات درسی تمامی مقاطع

شامل انواع | نمونه سوالات | فصل به فصل | پایان ترم | جزوه |

ویدئوهای آموزشی | گام به گام | طرح درس | طرح جابر | و ...

اینستاگرام

گروه تلگرام

کانال تلگرام

برای ورود به هر پایه در سایت ما روی اسم آن کلیک کنید

دبستان

اول	دوم	سوم	چهارم	پنجم	ششم
-----	-----	-----	-------	------	-----

متوسطه اول

هفتم	هشتم	نهم
------	------	-----

متوسطه دوم

دهم	یازدهم	دوازدهم
-----	--------	---------