

به نام حق **آزمون پایانی ریاضی** پایه : دوم کلاس : دوم دبستان :
 نام و نام خانوادگی : معلم مربوطه : مورخه /

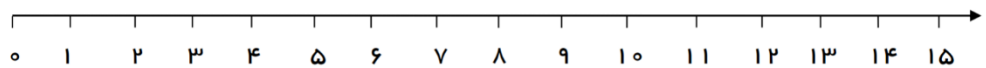
۱- نوشتن عدد را ادامه بدهید؟

سی صد و یک - سی صد و دو - - - - - - - - - سی صد و هشت

۲- با رقم های ۳، ۹، ۸ تا می توانید عددهای سه رقمی بنویسید.

..... ، ، ، ،

۳- با استفاده از محور اعداد حاصل عبارت را پیدا کنید.

$9 + 6 - 4$ 

۴- الگوی عددی زیر را ادامه بده.

۲ - ۶ - ۸ - - - - -

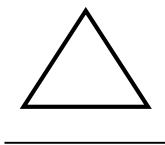
۵- حاصل جمع ها و تفریق های زیر را به دست بیاورید.

$7 + 30 + 2 + 100 = \text{input}$ $12 - 4 = \text{input}$ $70 - 20 = \text{input}$ $500 + 300 = \text{input}$


۶- جاهای خالی را کامل کن.

..... دسته ده تایی به اضافه دسته ده تایی می شود ده تایی. یعنی $50 + 30 = \dots\dots\dots$

۷- نام این شکل ها را همراه با تعداد ضلع هایشان بنویس.



..... ضلع



..... ضلع

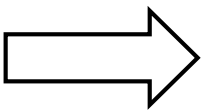


..... ضلع



..... ضلع

۸- برای هر شکل یک خط تقارن بکش.



۹- ارزش سکه های هر قسمت را بنویس.



ریال



ریال



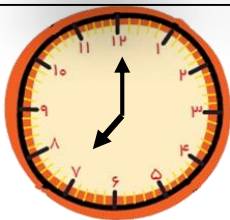
ریال

۱۰- به سوالات زیر پاسخ بده.

ساعت چند است ؟

۳۰ دقیقه بعد از ساعت ۷:۰۰ چند است ؟

۲۰ دقیقه بعد از ساعت ۶:۱۵ چند است ؟



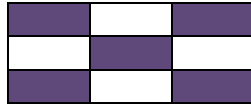
۱۱- ۴ دسته صد تایی ۳ دسته ده تایی و ۸ یکی می شود.

به عدد : به حروف :

یکان دهگان صدگان

۱۲- اندازه خط های زیر را با خط کش بگیرد و به صورت سانتی متر و میلی متر بنویسد.

اندازه ی خط سانتی متر و میلی متر است .



..... از قسمت مساوی رنگ شده است. از قسمت مساوی رنگ شده است.

۱۳- برای شکل های زیر جملات را کامل کن.

۱۴- جواب جمع و تفریق ها را به سه روش مختلف به دست آورید.

$\begin{array}{r} 362 \\ + 125 \\ \hline + \\ \hline + \\ \hline \end{array}$	<p>فرایندی (از سمت صدگان)</p>	$\begin{array}{r} 734 \\ - 216 \\ \hline \dots\dots\dots \end{array}$	<p>تکنیکی (با انتقال)</p>	$\begin{array}{r} 87 \rightarrow \dots\dots\dots \\ + 43 \rightarrow + \dots\dots\dots \\ \hline \dots\dots\dots \end{array}$	<p>تقریبی</p>
---	--	---	--------------------------------------	---	----------------------

۱۵- با اعداد مناسب کامل کن .



..... دسته تایی می شود

۱۶- علامت $<$ $=$ $>$ بگذارید

۹۸ ○ ۷۶

۳۷۹ ○ ۷۹۳

..... = ۴۰۰ - ۱۰۰ ○ ۲۰۰ + ۲۰۰ =

۱۷- با میلی متر اندازه گیری کنید .

..... میلی متر



..... میلی متر

..... میلی متر

..... میلی متر




..... میلی متر

۱۸- تعداد گل های باغچه ی ماهان به صورت جدول زیر است، این اطلاعات را با نمودار ستونی نشان بده .

هر گل را با شکل رسم کنید

۳	محمدی
۵	یاس
۸	نرگس
۶	رز
۲	بنفشه



گل های شاداب من موفق باشید .

بازخورد معلم :

پیاموز | Biamoz.com

بزرگترین مرجع آموزشی و نمونه سوالات درسی تمامی مقاطع

شامل انواع | نمونه سوالات | فصل به فصل | پایان ترم | جزوه |

ویدئوهای آموزشی | گام به گام | طرح درس | طرح جابر | و ...

اینستاگرام

گروه تلگرام

کانال تلگرام

برای ورود به هر پایه در سایت ما روی اسم آن کلیک کنید

دبستان

اول	دوم	سوم	چهارم	پنجم	ششم
-----	-----	-----	-------	------	-----

متوسطه اول

هفتم	هشتم	نهم
------	------	-----

متوسطه دوم

دهم	یازدهم	دوازدهم
-----	--------	---------