

نام و نام خانوادگی: _____

آموزشگاه: _____

نوع آزمون: _____

زمان آزمون: _____

۱

۱- قبل و بعد اعداد زیر را بنویس.

_____ ۲۲۹ _____

_____ شصت و نه _____

_____ ۶۱۱ _____

_____ هفتصد و یک _____

۲- جمع و تفریق‌های زیر را انجام بده.

$70 + 20 = \underline{\hspace{2cm}}$

$14 + 8 = \underline{\hspace{2cm}}$

$90 - 40 = \underline{\hspace{2cm}}$

$28 + 9 = \underline{\hspace{2cm}}$

۳- در شمارش ۶ تا ۶تا، بعد از عدد ۱۸ کدام عدد است؟ _____

۴- مرتضی برای چراغانی جشن نیمه شعبان ۴۶ لامپ رنگی استفاده کرد، ۲۹ تا قرمز و بقیه آبی، چند لامپ آبی بود؟

۵- نرگس و ۷ نفر دیگر از دوستانش در کلاس بودند، ۴ نفر دیگر به کلاس آمدند. و ۳ نفر خارج شدند. حالا چند نفر در کلاس هستند؟

۶- اعداد داخل دایره به کدام یک از اعداد داخل مربع نزدیکتر است؟ رنگ کن.



| | | |
|---------------------|------------|-------------|
| نام و نام خانوادگی: | آموزشگاه: | نوع آزمون: |
| کلاس: | طراح سوال: | زمان آزمون: |

۷- جمله‌های درست را با علامت \times مشخص کن.



- در چندضلعی‌ها تعداد گوشه‌ها با تعداد ضلع‌ها برابر است.



- مستطیل ۴ ضلع مساوی دارد.

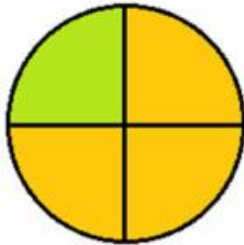


- مثلث ۳ ضلع مساوی دارد.



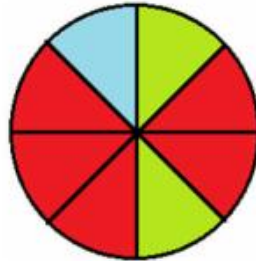
- مربع ۴ گوشه دارد.

۸- در هر هدف احتمال برخورد تیر به رنگ‌ها را بنویس.



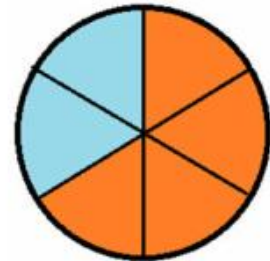
احتمال بیشتر: _____

احتمال کمتر: _____



احتمال بیشتر: _____

احتمال کمتر: _____



احتمال بیشتر: _____

احتمال کمتر: _____

۹- مینا ۱۴ سال و خواهرش سیمین ۲۰ سال دارد. این دو نفر با هم چند سال دارند؟ آیا می‌دانید ۱۰ سال پیش این دو

خواهر چند سال داشته‌اند؟
(^م)

۱۰- باز شده‌ی اعداد زیر را بنویس.

$$۴۵۲ = \underline{\quad\quad} + \underline{\quad\quad} + \underline{\quad\quad}$$

$$۲۵۴ = \underline{\quad\quad} + \underline{\quad\quad} + \underline{\quad\quad}$$

$$۷۹۰ = \underline{\quad\quad} + \underline{\quad\quad}$$

$$۶۰۶۰ = \underline{\quad\quad} + \underline{\quad\quad}$$

۱۱- به سوال‌های زیر پاسخ بده.

۳۰ دقیقه بعد از ساعت ۱۲ چه ساعتی است؟

| | | |
|---------------------|------------|-------------|
| نام و نام خانوادگی: | آموزشگاه: | نوع آزمون: |
| کلاس: | طراح سوال: | زمان آزمون: |


۱۰ دقیقه بعد از ساعت ۴:۲۰ چه ساعتی است؟

یک ربع بعد از ساعت ۵:۱۵ چه ساعتی است؟

۱۲- یک عدد دورقمی بنویس که رقم یکان آن کوچکترین عدد زوج یک رقمی و رقم دهگان آن بزرگترین عدد فرد یک رقمی می باشد؟ _____

۱۳- برای شکل های زیر جمع یا تفریق بنویس.
(الف)

_____ ○ _____ = _____



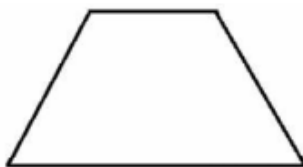
_____ ○ _____ = _____

(ب)




_____ + _____ = _____

۱۴- با توجه به کسرهای نوشته شده، هر شکل را به قسمت های مساوی تقسیم کن و رنگ بزن.



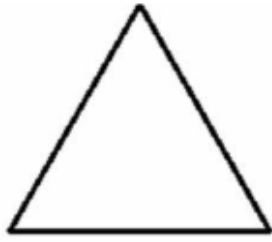
۲ قسمت از ۳ قسمت مساوی



۵ قسمت از ۸ قسمت مساوی

| | | |
|---------------------|------------|-------------|
| نام و نام خانوادگی: | آموزشگاه: | نوع آزمون: |
| کلاس: | طراح سوال: | زمان آزمون: |

۴



۱ قسمت از ۴ قسمت مساوی



۱ قسمت از ۲ قسمت مساوی

۱۵- در هفته‌ی گذشته سارا ۳ صفحه از کتاب ریاضی، ۲ صفحه از کتاب علوم و ۴ صفحه از کتاب فارسی را مطالعه کرده است. نمودارهای مربوط به مطالعه‌ی سارا را در هفته‌ی گذشته با رنگ کردن بخش‌های مختلف کامل کن.



پیاموز | Biamoz.com

بزرگترین مرجع آموزشی و نمونه سوالات درسی تمامی مقاطع

شامل انواع | نمونه سوالات | فصل به فصل | پایان ترم | جزوه |

ویدئوهای آموزشی | گام به گام | طرح درس | طرح جابر | و ...

اینستاگرام

گروه تلگرام

کانال تلگرام

برای ورود به هر پایه در سایت ما روی اسم آن کلیک کنید

دبستان

| | | | | | |
|-----|-----|-----|-------|------|-----|
| اول | دوم | سوم | چهارم | پنجم | ششم |
|-----|-----|-----|-------|------|-----|

متوسطه اول

| | | |
|------|------|-----|
| هفتم | هشتم | نهم |
|------|------|-----|

متوسطه دوم

| | | |
|-----|--------|---------|
| دهم | یازدهم | دوازدهم |
|-----|--------|---------|