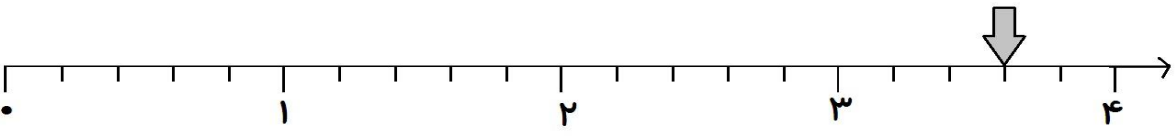
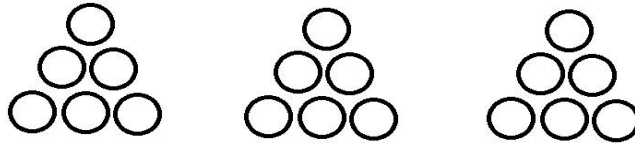


به نام خدا	
نام و نام خانوادگی:	پایه دوم
آزمون جامع ریاضی	هدف: ارزیابی از کل مفاهیم کتاب ریاضی
۱	با اعداد ۵ و ۷ و ۸ سه عدد فرد سه رقمی بنویسید. تکرار رقم اشکالی ندارد.
۲	جمع و تفریق های زیر را انجام دهید. $20 + 45 + 5 + 100 =$ روش گسترده $\begin{array}{r} 34 \\ + 23 \\ \hline \end{array}$ روش تکنیکی $\begin{array}{r} 545 \\ + 289 \\ \hline \end{array}$ $\begin{array}{r} 645 \\ - 293 \\ \hline \end{array}$
۳	با توجه به محور زیر، به سوالات زیر پاسخ دهید.  الف) هر واحد از محور به قسمت مساوی تقسیم شده است. ب) نقطه ی مشخص شده واحد و قسمت از مساوی است.
۴	در جای خالی عدد مناسب بنویسید. ۹۰۷ برابر است با یکی و ده تایی و صدتایی. یک عدد سه رقمی بنویسید که صدگان آن بزرگتر از یکان و دهگان یک عدد زوج باشد. به هر ۱۵ دقیقه یک و ۳۰ دقیقه را ساعت می گویند.

در جای خالی عدد مناسب بنویسید.

۵




..... دسته ی تایی

محمد ۱۷۵ ریال دارد. برادرش ۶۵ ریال کمتر دارد. این دو برادر روی هم چند ریال دارند؟

۶

تعداد کتاب های کتابخانه ی دبستان ما در موضوعات مختلف به شرح زیر است. اگر هر ۱۰۰ کتاب را با یک نشان دهیم. با توجه به جدول نمودار را کامل کنید.

۷



تعداد	نوع کتاب
۵۰۰	داستان
۴۰۰	علمی
۲۰۰	مذهبی
۶۰۰	درسی

تقریب اعداد زیر را بنویسید.




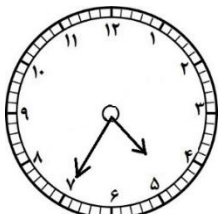







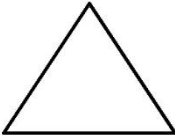
۸

۳۱ → ۵۹ → ۷۸ → ۲۵ →

در کدام کیسه احتمال بیرون آمدن مهره سیاه بیشتر است؟ علامت بزنید.

۹



<p>طبق عدد زیر آنها به قسمت های مساوی تقسیم کنید.</p>  <p>۳</p>	 <p>۶</p>	 <p>۲</p>	۱۰
	عقربه بزرگ چند دقیقه حرکت کند تا ساعت ۵ شود؟		۱۱
<p>در یک مزرعه روی هم ۴ تا شتر مرغ و گوسفند هستند. آن ها روی هم ۱۴ پا دارند. در این مزرعه چند تا شتر مرغ و چند تا گوسفند است؟</p>			۱۲
<p>این سکه ی ۵۰۰ ریالی برابر است با کدام سکه ها؟ در <input type="checkbox"/> علامت بزنید.</p>  =     			۱۳
		<p>۱۴ یک تفاوت و یک شباهت برای دو شکل بنویسید.</p> <p>تفاوت:</p> <p>شباهت:</p>	
			نظر نهایی آموزگار
			نظر خانواده

پیاموز | Biamoz.com

بزرگترین مرجع آموزشی و نمونه سوالات درسی تمامی مقاطع

شامل انواع | نمونه سوالات | فصل به فصل | پایان ترم | جزوه |

ویدئوهای آموزشی | گام به گام | طرح درس | طرح جابر | و ...

اینستاگرام

گروه تلگرام

کانال تلگرام

برای ورود به هر پایه در سایت ما روی اسم آن کلیک کنید

دبستان

اول	دوم	سوم	چهارم	پنجم	ششم
-----	-----	-----	-------	------	-----

متوسطه اول

هفتم	هشتم	نهم
------	------	-----

متوسطه دوم

دهم	یازدهم	دوازدهم
-----	--------	---------