

ارزشیابی ریاضی دوم دبستان

نام و نام خانوادگی: تاریخ:

۱- در یک خیابان روی هم ۶ ماشین و دوچرخه وجود دارد. آن ها روی هم ۱۶ چرخ دارند. در این خیابان چند ماشین و چند تا دوچرخه است؟

۲- الف) خط زیر چند سانتی متر است؟

ب) برای اندازه گیری این خط چه کارهایی انجام می دهی؟

۳- سینا یک کتاب ۴۵۰ صفحه ای داشت. روز اول ۲۱۰ صفحه از کتاب را خواند. روز بعد ۱۰۰ صفحه از کتاب را خواند. چند صفحه از کتاب باقی مانده است؟

۴- حاصل جمع و تفریق های زیر را با رسم شکل بدست آورید.

۲۲۷

+۳۴۸

۵۴۸

-۲۲۹


۵- در یک کیسه ۲ مهره ی قرمز ، ۵ مهره ی آبی و ۶ مهره ی سبز وجود دارد . احتمال بیرون آمدن کدام مهره از بقیه کمتر است ؟ چرا ؟

۶- عبارت مربوط به نقطه ی مشخص شده در محور زیر را بنویس .



نقطه ی مشخص شده واحد و قسمت از قسمت مساوی را نشان می دهد .

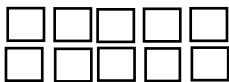
۷- ساعت چند است ؟



ب) اگر عقربه ی بزرگ ۲۵ دقیقه به جلو حرکت کند ، ساعت چند می شود ؟

۸- در کتابخانه کلاس ما ۴ کتاب کمک درسی ، ۷ کتاب شعر و ۲ کتاب داستان وجود دارد . عزیزم نمودار ستونی مربوط به کتابخانه ی کلاسما را رسم کن .

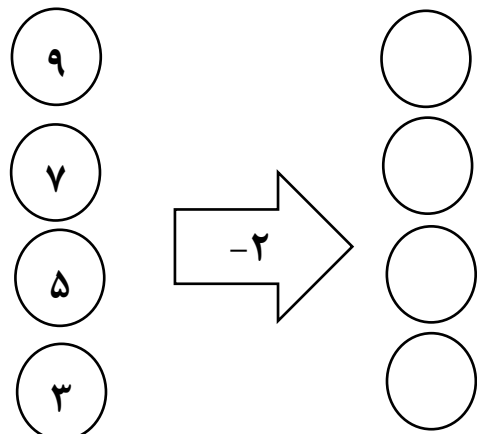
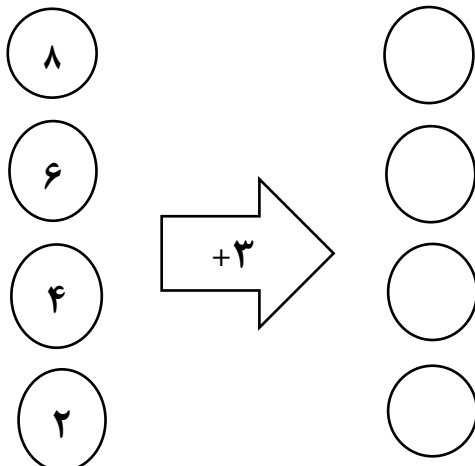
۹- برای شکل زیر ۲ جمله بنویس .



..... تا تایی می شود

..... تا تایی می شود

۱۰- دختر گلم جاهای خالی را کامل کن .



پیاموز | Biamoz.com

بزرگترین مرجع آموزشی و نمونه سوالات درسی تمامی مقاطع

شامل انواع | نمونه سوالات | فصل به فصل | پایان ترم | جزوه |

ویدئوهای آموزشی | گام به گام | طرح درس | طرح جابر | و ...

اینستاگرام

گروه تلگرام

کانال تلگرام

برای ورود به هر پایه در سایت ما روی اسم آن کلیک کنید

دبستان

اول	دوم	سوم	چهارم	پنجم	ششم
-----	-----	-----	-------	------	-----

متوسطه اول

هفتم	هشتم	نهم
------	------	-----

متوسطه دوم

دهم	یازدهم	دوازدهم
-----	--------	---------