

۱ عزیزم، الگوها را ادامه بده.

..... - ..... - ..... - ..... - ..... - ۶۰ - ۵۸

..... - ..... - ..... - ..... - ..... - ۶۶۰ - ۶۵۵ - ۶۵۰

..... - ..... - ..... - ..... - ..... - ۹۱۰ - ۹۰۰ - ۸۹۰



۲۵۶  ۲۶۵

۲۰۰+۱۰+۹۰  ۱۰۰+۱۰۰

علامت < = > بگذار.

۱۰۰+۱+۱+۳+۲+۱+۱+۱

۳۷  ۱+۳۶

۳ با کارت های ۳ - ۵ - ۸ ، چهار عدد سه رقمی و چهار عدد دورقمی بساز و جدول زیر را کامل کن.

عدد سه رقمی			عدد دورقمی		
زوج یا فرد	حروف	عدد	زوج یا فرد	حروف	عدد

۴ در شمارش ده تا ده تا هر عدد بین چه اعدادی قرار دارد و به کدام عدد نزدیکتر است.

۵۱ بین ..... و ..... و به ..... نزدیکتر است. ۹۸ بین ..... و ..... و به ..... نزدیکتر است. ۲۵۶ بین ..... و ..... و به ..... نزدیکتر است.

۵ در یک کوچه، روی هم ۵ تا دوچرخه و سه چرخه هستند. آن ها روی هم ۱۲ چرخ دارند. در این کوچه چندتا دوچرخه و سه چرخه است؟

دوچرخه     سه چرخه

..... = تعداد چرخ ها : ..... و ..... : حدس اول

..... = تعداد چرخ ها : ..... و ..... : حدس دوم

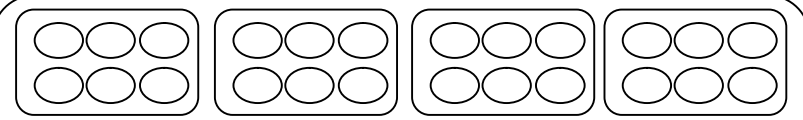
۶ مریم از گل فروشی ۳ شاخه گل نرگس، ۴ شاخه گل یاس و ۱۰ شاخه گل سرخ خرید. قیمت گل نرگس شاخه ای ۵۰ ریال، گل یاس شاخه ای ۲۵ ریال و

گل سرخ شاخه ای ۱۰ ریال است. مریم چند ریال باید به گل فروش پول بدهد؟ (بارسم شکل و جلونویسی)

۷ موسی ۸۵۴ سگه داشت. دیروز صبح ۲۶۹ سگه را خرج کرد و امروز ۴۷۱ سگه را خرج کرد. چند سگه برای او باقی مانده است؟

۸ جمع و تفریق های زیر را انجام بده.

به روش انتقالی	به روش انتقالی	به روش انتقالی	به روش انتقالی	به روش انتقالی	به روش انتقالی
۲۵۱	۸۷۸	۲۵۳	۴۷۱	۹۸۲	۷۱۵
+ ۴۳۸	- ۳۲۴	+ ۴۳۹	+ ۳۹۹	- ۴۴۴	- ۲۹۸

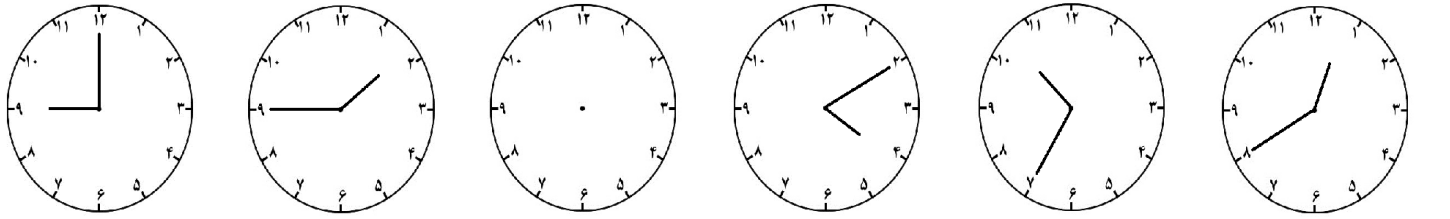


..... تا ..... تای می شود .....

..... ۳ تا ۵ تای می شود .....

شکل بکش

زمان ها را بنویس.



..... : .....

..... : .....

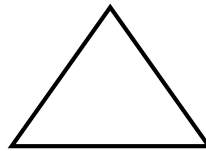
۰۷ : ۵۵

..... دقیقه گذشته از ساعت .....

..... دقیقه مانده به ساعت .....

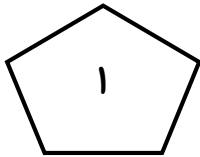

۲۰ دقیقه بعد ← .....

طول هر ضلع را به میلی متر بنویس و خط تقارن هر شکل را رسم کن.



۸۹ میلی متر یعنی ..... سانتی متر و ..... قسمت از ..... قسمت کوچک.

۲۴ میلی متر یعنی ..... سانتی متر و ..... میلی متر

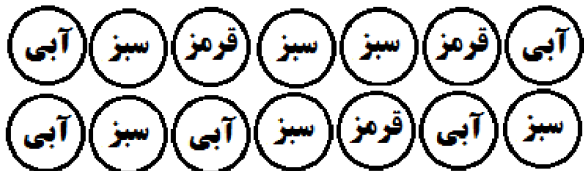


تفاوت و شباهت این دو شکل را بنویس.

تفاوت: .....

شباهت: .....

جدول زیر را کامل کن و نمودار آن را رسم کن.



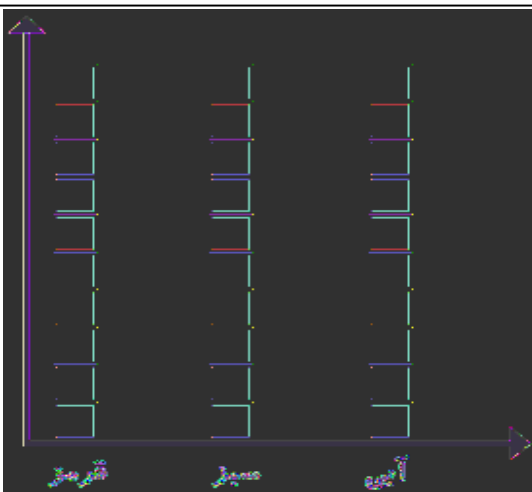
تقریب	عدد	چوب خط	
			مهره قرمز
			مهره آبی
			مهره سبز
			جمع کل

اگر بدون نگاه کردن به داخل کیسه، یک مهره انتخاب کنیم،

احتمال بیرون آمدن کدام مهره بیشتر است؟ .....

چرا؟ .....

.....



سربلند باشی عزیزم

بازخورد آموزگار:

بازخورد والدین:

# پیاموز | Biamoz.com

بزرگترین مرجع آموزشی و نمونه سوالات درسی تمامی مقاطع

شامل انواع | نمونه سوالات | فصل به فصل | پایان ترم | جزوه |

ویدئوهای آموزشی | گام به گام | طرح درس | طرح جابر | و ...

اینستاگرام

گروه تلگرام

کانال تلگرام

برای ورود به هر پایه در سایت ما روی اسم آن کلیک کنید

## دبستان

اول	دوم	سوم	چهارم	پنجم	ششم
-----	-----	-----	-------	------	-----

## متوسطه اول

هفتم	هشتم	نهم
------	------	-----

## متوسطه دوم

دهم	یازدهم	دوازدهم
-----	--------	---------