



۱- با رقم‌های ۴، ۰ و ۶ چند عدد ۲ رقمی می‌توان نوشت؟

۲- امید ۴ بسته‌ی ۶ تایی مدادرنگی داشت. او ۵ تا از مدادهایش را به دوستش داد. حالا چند مداد رنگی برای امید

باقی مانده است؟

۳- جمع بزرگ‌ترین و کوچک‌ترین عدد یک رقمی چه عددی است؟

۴- هر طبقه از یک ساختمان با ۵ چینه درست می‌شود. اگر این ساختمان ۳ طبقه داشته باشد، این ساختمان با چند

چینه درست می‌شود؟

۵- زمانی که ساعت نشان می‌دهد را به دو صورت بنویس.



۶- مقایسه کن.

$$۳۹۸ \bigcirc ۳۰۱$$

$$۴۲۰ \bigcirc ۴۱۷$$

$$..... = ۴۰۰ + ۳۰۰ \bigcirc ۹۰۰ - ۱۰۰ = .....$$

$$..... = ۱۰۰ + ۲۰ + ۱ \bigcirc ۱۰۰ + ۱۰ + ۷ = .....$$

۷- سینا ۲۵۶ دانه دارد و می‌خواهد آن‌ها را بکارد. او ابتدا ۶۰ دانه بر می‌دارد که ۸ تای آن‌ها ناسالم هستند و دور

ریخته می‌شوند و بقیه را می‌کارد. در مرحله‌ی بعد، سینا ۸۷ دانه‌ی سالم می‌کارد. او در مجموع، چند دانه

کاشته و چند دانه را هنوز نکاشته است؟

۸- عددهای زیر را به صورت باز شده بنویس.

$$۴۹۵ =$$

$$۸۶۳ =$$

۹- مریم یک کیسه‌ی آجیل دارد که شامل ۸۰ بادام، ۵۰ فندق، ۶۰ پسته و ۱۰۰ تخمه کدو است. اگر مریم

بخواهد بدون نگاه کردن، بادام در بیاورد، با چه احتمالی آجیل در آمده از کیسه، بادام خواهد بود؟

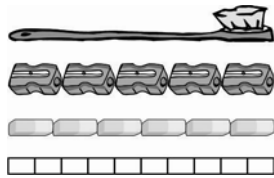
۱۰- نمودار ستونی دقیق‌تر است یا تصویری؟ چرا؟

۱۱- علی ساعت ۲۰: ۷ از خانه به طرف مدرسه به راه افتاد. اگر او ۳۰ دقیقه در راه باشد، ساعت چند به مدرسه

می‌رود؟

۱۲- چگونه می‌توانیم یک وسیله‌ی اندازه‌گیری دقیق بسازیم؟

۱۳- چرا برای طول این مسواک عددهای مختلف به دست می‌آید؟



۱۴- آرزو ساعت ۱۰:۴ از خواب بیدار شده است. او یک ربع دیگر باید تکالیفش را تمام کند تا بتواند برنامه‌ی

کودک را ببیند. برنامه‌ی کودک چند ساعت شروع می‌شود؟

۱۵- در جاهای خالی، عدد مناسب بنویسید.

$$۴۰ + \square = ۶۹$$

$$۱۷ + \square = ۳۶$$

$$۳۵ - \square = ۱۵$$

$$۴۳ - \square = ۳$$

۱۶- حاصل جمع و تفریق‌های زیر را به دست آورید.

$$\begin{array}{r} ۳۰۰ \\ + ۲۶۵ \\ \hline \end{array}$$

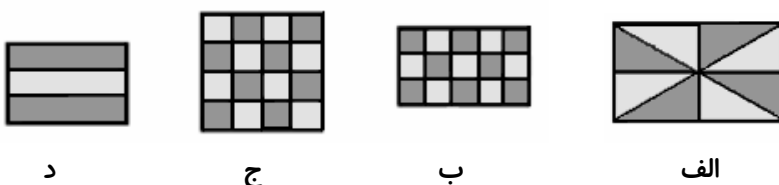
$$\begin{array}{r} ۴۰۰ \\ - ۲۶۵ \\ \hline \end{array}$$

۱۷- جاهای خالی را در جملات زیر پر کن.

۹۳ ریال ... ۱۰ ریالی و ... قسمت از ۱۰ قسمت مساوی است.

عدد ۴۵ را می توان به صورت ... ده تایی و ... قسمت از ۱۰ قسمت بیان کرد.

۱۸- چه کسری از هر شکل سفید، رنگ است؟



د

ج

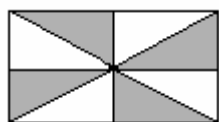
ب

الف

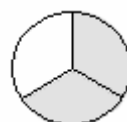
۱۹- یک نقاش می خواهد ۹۵ متر دیوار را رنگ بزند، اگر دیوار را ۱۵ متر رنگ سفید، ۱۲ متر آبی و ۳۷ متر

قرمز کند، در کل چند متر دیوار را رنگ زده و چند متر دیگر را باید رنگ کاری کند؟

۲۰- قسمت های رنگ شده در شکل های زیر را روی محور نمایش دهید.



«ب»



«الف»

# پیاموز | Biamoz.com

بزرگترین مرجع آموزشی و نمونه سوالات درسی تمامی مقاطع

شامل انواع | نمونه سوالات | فصل به فصل | پایان ترم | جزوه |

ویدئوهای آموزشی | گام به گام | طرح درس | طرح جابر | و ...

اینستاگرام

گروه تلگرام

کانال تلگرام

برای ورود به هر پایه در سایت ما روی اسم آن کلیک کنید

## دبستان

اول	دوم	سوم	چهارم	پنجم	ششم
-----	-----	-----	-------	------	-----

## متوسطه اول

هفتم	هشتم	نهم
------	------	-----

## متوسطه دوم

دهم	یازدهم	دوازدهم
-----	--------	---------