

آزمون علوم پایه ی سوم - نوبت اول

نام و نام خانوادگی :

تاریخ :

۱- چند نوع آینه وجود دارد ؟

نوع ۴

نوع ۳

نوع ۲

۲- از آینه ی تخت در کجا استفاده می شود ؟

آرایشگاه ها

دندان پزشکی

پیچ جاده ها



۳- تبدیل یک ماده از حالت جامد به حالت مایع چه نامیده می شود ؟

انجماد

تبخیر

ذوب شدن

۴- در کدام محل عمل تبخیر زودتر انجام می گیرد ؟ چرا ؟



دستمال خیس

دستمال خیس


۵ - برای هر کدام از حالت های ماده دو مثال بگو .

← مایع و

← جامد و

← گاز و

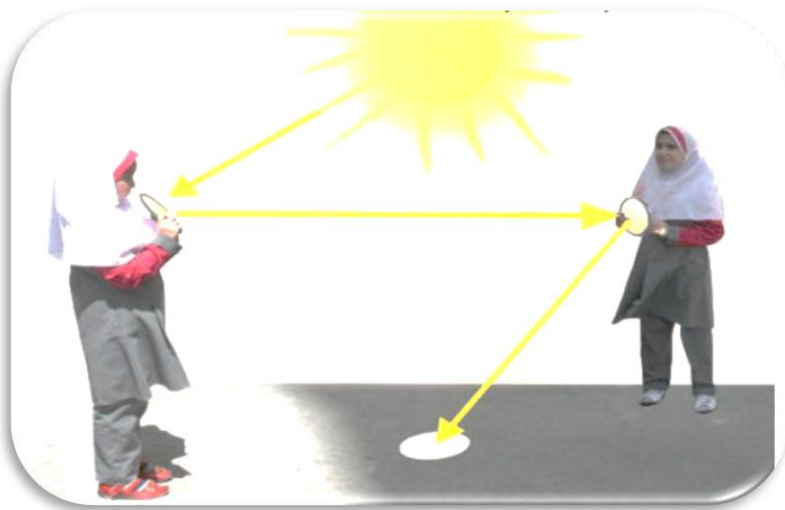
۶- با توجه به تصویر توضیح بده که رود چگونه به وجود می آید.



بارش برف در کوه

.....
.....

۷- تصویر زیر چه چیزی را نشان می دهد؟ این پدیده را توضیح بده.



.....
.....

۸- ۳ تا منبع نور نام ببر و و

بزرگ ترین منبع نور چه نام دارد؟

☀️ - موفق و سربلند باشید - ☀️

پیاموز | Biamoz.com

بزرگترین مرجع آموزشی و نمونه سوالات درسی تمامی مقاطع

شامل انواع | نمونه سوالات | فصل به فصل | پایان ترم | جزوه |

ویدئوهای آموزشی | گام به گام | طرح درس | طرح جابر | و ...

اینستاگرام

گروه تلگرام

کانال تلگرام

برای ورود به هر پایه در سایت ما روی اسم آن کلیک کنید

دبستان

اول	دوم	سوم	چهارم	پنجم	ششم
-----	-----	-----	-------	------	-----

متوسطه اول

هفتم	هشتم	نهم
------	------	-----

متوسطه دوم

دهم	یازدهم	دوازدهم
-----	--------	---------