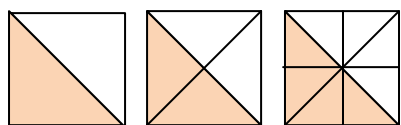
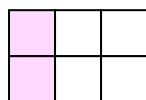


نام و نام خانوادگی :

دبستان :



۱. برای هر شکل یک کسر بنویسید . آیا این کسرها مساوی هستند ؟  
چرا ؟



$$\frac{2}{4} = \frac{1}{2}$$



$$\frac{4}{8} = \frac{1}{2}$$

۲. برای هر شکل دو کسر مساوی بنویسید .

$$\frac{2}{4} = \frac{4}{8}$$

۳. برای تساوی مقابل شکل مناسب بکشید .

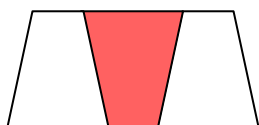
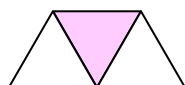


۴. زاویه های شکل های مقابل را مشخص کنید .

۵. به کمک گونیا شکل هایی رسم کنید که به تعداد عددهای داده شده زاویه راست داشته باشند .



۶. علی و خواهرش زهرا به مقدار مساوی پول دارند . علی  $\frac{1}{3}$  پول و زهرا  $\frac{1}{4}$  پولش را صدقه داد . با رسم شکل نشان دهید کدام یک بیش تر صدقه داده است .



۷. برای قسمت رنگ شده هر شکل کسر بنویسید .

آیا می توان گفت که مقدار رنگ شده دو شکل با هم برابر است ؟  
چرا ؟

۸. جاهای خالی را به طور مناسب کامل کنید .

دو تا  $\frac{1}{5}$  می شود .....  $\frac{4}{5}$  سانتی متر یعنی ..... متر  $\frac{7}{10}$  میلی متر یعنی ..... سانتی متر

$\frac{20}{60}$  دقیقه یعنی ..... ساعت یک ساعت یعنی ..... شبانه روز  $\frac{1}{100}$  متر یعنی ..... سانتی متر

# پیاموز | Biamoz.com

بزرگترین مرجع آموزشی و نمونه سوالات درسی تمامی مقاطع

شامل انواع | نمونه سوالات | فصل به فصل | پایان ترم | جزوه |

ویدئوهای آموزشی | گام به گام | طرح درس | طرح جابر | و ...

اینستاگرام

گروه تلگرام

کانال تلگرام

برای ورود به هر پایه در سایت ما روی اسم آن کلیک کنید

## دبستان

اول	دوم	سوم	چهارم	پنجم	ششم
-----	-----	-----	-------	------	-----

## متوسطه اول

هفتم	هشتم	نهم
------	------	-----

## متوسطه دوم

دهم	یازدهم	دوازدهم
-----	--------	---------