

نام و نام خانوادگی: مدرسه : وقت آزمون: ۵۰ دقیقه

۱ یک قطعه زمین کشاورزی را نصف کردند. در نیمی از آن سیب زمینی کاشتند. نیم دیگرش را به ۳ قسمت تقسیم کردند. در یک قسمت آن پیاز و در دو قسمت دیگر آن کاهو کاشتند.

۱- با توجه به مسئله ، این زمین را تقسیم کنید.


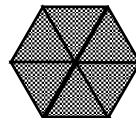

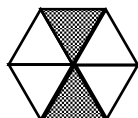
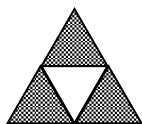


۲- در چند قسمت از این زمین سیب زمینی کاشته اند؟

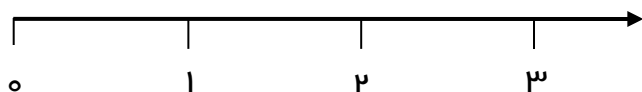
۳- در چند قسمت پیاز کاشته اند؟

۴- در چند قسمت کاهو کاشته اند؟

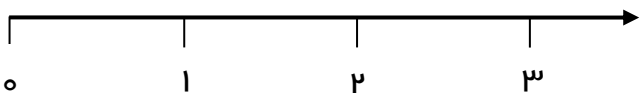
۲ برای هر یک از شکل های زیر یک کسر بنویسید.



۳ عددهای زیر را روی محور نشان دهید.




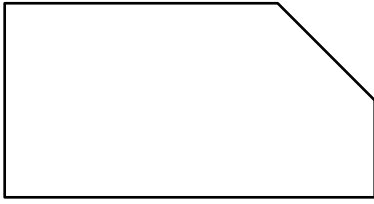
$\frac{2}{3}$ واحد بعد از عدد ۲



$\frac{1}{4}$ واحد مانده به عدد ۱

۴ حاصل جمع زیر را به کمک رسم شکل نشان داده و جواب را به دست آورید.

$$۱۲۴۳ + ۲۳۱۵ =$$

$\frac{1}{4} \bigcirc \frac{1}{6}$	$\frac{5}{5} \bigcirc 1$	$\frac{3}{8} \bigcirc \frac{5}{8}$	$\frac{2}{2} \bigcirc \frac{6}{6}$	<p>۵ کسرهای زیر را باهم مقایسه کنید.</p>
$\frac{4}{5} \bigcirc \frac{1}{4}$	<p>۶ به کمک شکل کسرهای زیر را باهم مقایسه کنید.</p> <div style="text-align: center;">  </div>			
$\frac{5}{8}$	$\frac{3}{6}$	<p>۷ با توجه به کسر داده شده، یک شکل رسم کرده و آن را رنگ آمیزی کنید.</p>		
		<p>۸ در شکل زیر زاویه های راست را مشخص کنید.</p>		

نیاز به تلاش بیشتر	قابل قبول	خوب	خیلی خوب	ملاک ها
				با مفهوم کسر آشناست.
				عددهای کسری را روی محور نشان می دهد.
				کسرها را با یکدیگر مقایسه می کند.
				کسرهایی با صورت و مخرج نابرابر را با شکل مقایسه می کند.
				جمع اعداد ۴ رقمی را با شکل انجام می دهد.
				با مفهوم زاویه آشناست و زاویه ی راست را می شناسد.
				برای کسر داده شده شکل آن را رسم کرده و رنگ آمیزی می کند.

..... بازخورد آموزگار:

پیاموز | Biamoz.com

بزرگترین مرجع آموزشی و نمونه سوالات درسی تمامی مقاطع

شامل انواع | نمونه سوالات | فصل به فصل | پایان ترم | جزوه |

ویدئوهای آموزشی | گام به گام | طرح درس | طرح جابر | و ...

اینستاگرام

گروه تلگرام

کانال تلگرام

برای ورود به هر پایه در سایت ما روی اسم آن کلیک کنید

دبستان

اول	دوم	سوم	چهارم	پنجم	ششم
-----	-----	-----	-------	------	-----

متوسطه اول

هفتم	هشتم	نهم
------	------	-----

متوسطه دوم

دهم	یازدهم	دوازدهم
-----	--------	---------