

نام و نام خانوادگی: نام آموزگار:

کهر زمینی خریدیم، نصف آن را حیاط کردیم و نصف دیگر را ۳ قسمت کردیم. یک قسمت را خانه و یک قسمت آن را زمین بازی ساختیم. (با رسم شکل، به سؤالات پاسخ دهید).



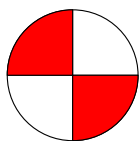
الف) قسمت از مساوی حیاط است.

ب) قسمت از مساوی خانه است.


پ) قسمت از مساوی خالی است.



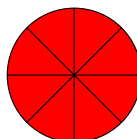
کهر برای هر شکل کسر مناسب بنویسید.



.....



.....



.....



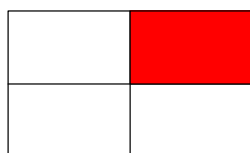
.....



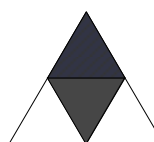
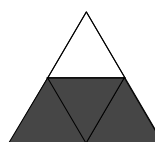


کهر کسر مربوط به نقاط مشخص شده روی محور را بنویسید.



کهر با توجه به هر شکل، عبارت را کامل کنید.



..... واحد و از یک واحد



..... واحد و از یک واحد



کهر مقایسه کنید و علامت (< = >) بگذارید.

$$\frac{1}{2} \square \frac{2}{5}$$

$$\frac{2}{6} \square \frac{1}{3}$$

$$\frac{3}{7} \square \frac{4}{9}$$

$$\square \frac{6}{6}$$

$$\frac{7}{7} \square \frac{25}{25}$$



کهر $\frac{1}{2}$ بشقاب غذا بیشتر است یا $\frac{1}{4}$ پیش دستی؟ چرا؟

نام و نام خانوادگی: نام آموزگار:

یک دایره بکشید و $\frac{3}{8}$ آن را رنگ کنید. (شعاع دایره ۲ سانتی متر باشد).

.....

یک شکلی رسم کنید که فقط دو زاویه راست داشته باشد.

.....

یک با رسم شکل نشان دهید.

$$\frac{1}{2} = \frac{2}{4}$$

.....

زمان را روی هر ساعت نشان دهید.





چهار و ربع



هشت و نیم

.....

اگر یک کاغذ را چهار تا کنیم و سپس مطابق شکل زیر برش بزنیم. کدام گزینه شکل گسترده را نشان می‌دهد.




(الف)



(ب)



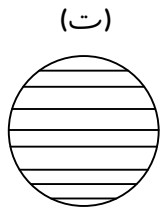
(پ)



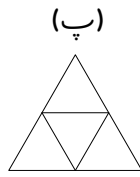
(ت)

نام و نام خانوادگی: نام آموزگار:

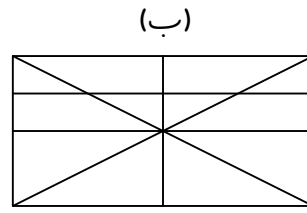
کهر برای کدام یک از شکل های زیر می توان کسر نوشت؟ (۲ قسمت آن را رنگ کنید و کسر را بنویسید).



.....



.....



.....



.....

جدول توصیف عملکرد

جدول توصیف عملکرد					معیارهای ارزشیابی
تسلط خیلی کم	تسلط کم	تسلط متوسط	تسلط خوب	تسلط کامل	
					مسئله ی کسر را با رسم شکل حل می کند.
					مسئله های کسر را حل می کند.
					کسرها و واحدها را می شناسد و می نویسد.
					کسرها و مساوی کسر را می نویسد.
					گوشه ها و شکل ها را می شناسد.
					با پرگار، دایره رسم می کند.
					مقایسه ی کسرها را می داند.
					کسرهایی نا مساوی را می شناسد.
					بازخورد توصیفی:

پیاموز | Biamoz.com

بزرگترین مرجع آموزشی و نمونه سوالات درسی تمامی مقاطع

شامل انواع | نمونه سوالات | فصل به فصل | پایان ترم | جزوه |

ویدئوهای آموزشی | گام به گام | طرح درس | طرح جابر | و ...

اینستاگرام

گروه تلگرام

کانال تلگرام

برای ورود به هر پایه در سایت ما روی اسم آن کلیک کنید

دبستان

اول	دوم	سوم	چهارم	پنجم	ششم
-----	-----	-----	-------	------	-----

متوسطه اول

هفتم	هشتم	نهم
------	------	-----

متوسطه دوم

دهم	یازدهم	دوازدهم
-----	--------	---------