

به نام خدا

آزمونک ریاضی سوم ابتدایی

مدت: ۳۰ دقیقه

نام

مورخه

نام خانوادگی

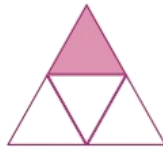
طراح سوال

هدف: درک مفهوم کسر

۱- کسر مربوط به قسمت رنگی هر شکل را بنویسید.



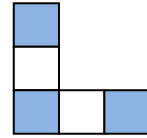
.....



.....

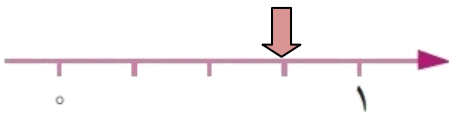


.....




.....

۲- در هر محور فلش، چه کسری را مشخص می کند.



----- واحد



----- واحد ..... از عدد



----- واحد



----- واحد ..... از عدد

۳- کسرهای زیر را روی شکل نشان دهید.

$\frac{1}{3}$

$\frac{3}{6}$

$\frac{2}{5}$

$\frac{6}{9}$

۴- عددهای خواسته شده را روی محور نشان دهید.


$\frac{1}{2}$  واحد بعد از عدد ۳

$\frac{4}{9}$  واحد بعد از عدد ۱



$\frac{2}{5}$

$\frac{7}{10}$



# پیاموز | Biamoz.com

بزرگترین مرجع آموزشی و نمونه سوالات درسی تمامی مقاطع

شامل انواع | نمونه سوالات | فصل به فصل | پایان ترم | جزوه |

ویدئوهای آموزشی | گام به گام | طرح درس | طرح جابر | و ...

اینستاگرام

گروه تلگرام

کانال تلگرام

برای ورود به هر پایه در سایت ما روی اسم آن کلیک کنید

## دبستان

اول	دوم	سوم	چهارم	پنجم	ششم
-----	-----	-----	-------	------	-----

## متوسطه اول

هفتم	هشتم	نهم
------	------	-----

## متوسطه دوم

دهم	یازدهم	دوازدهم
-----	--------	---------