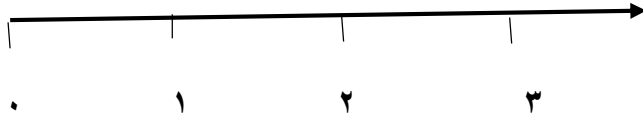
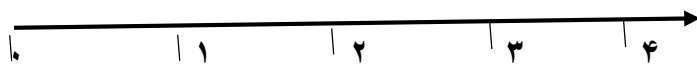


- کشاورزی زمینی مستطیل شکل را به پنج قسمت مساوی تقسیم کرده یکی از قسمت ها را به چهار قسمت تقسیم کرده و در دو قسمت گندم کاشته است . این کشاورز چه کسری از زمین را گندم کاشته است؟

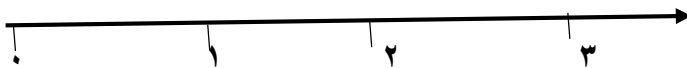
هر عدد را به طور تقریبی روی محور نشان دهید .



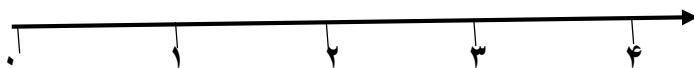
$$\frac{1}{2} \text{ واحد بعد از عدد } 2$$



$$\frac{2}{5} \text{ واحد بعد از عدد } 3$$



$$\frac{4}{5} \text{ واحد مانده به } 3$$



$$\frac{4}{5} \text{ واحد مانده به } 4$$

برای عبارت های زیر شکل بکشید و رنگ کنید. (با خط کش شابلون دار)

← 2 واحد

← 3 واحد

← 2 واحد و  $\frac{1}{2}$  واحد

← 3 واحد و  $\frac{3}{4}$  واحد

در یک سینی از شش لیوان ، دو لیوان آب پر کرده ایم یک لیوان شربت و یک لیوانم چایی پر کرده ایم .

چه کسری از لیوان ها آب پر شده است؟


چه کسری از لیوان ها هنوز خالی است؟

دایره ای در دفترت به شعاع ۳ سانتی متر رسم کرده و آن را به هشت قسمت مساوی تقسیم کنید و سه قسمتش را رنگ کنید

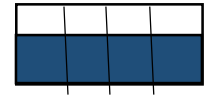
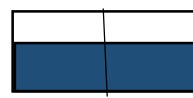
چه کسری از این دایره رنگ شده است؟

با رنگ کردن نشان بده .



$$1 = \frac{2}{2} = \frac{3}{3} = \frac{4}{4}$$



برای شکل های زیر کسر های مساوی بنویس.




..... = ..... = .....



..... = ..... = .....

برای شکل روبه رو سه کسر مساوی بنویس .



..... = ..... = .....

شعر زیبایی دایره

دایره ام قشنگه مرکزش آبی رنگه اسمشو میم نامیدم کلی شعاعو دیدم شعاع داره فراوون می کشمش چه آسون

دو تا شعاع یه قطره دو تا شعاعو خورده حالا بگو مهربان چه طور بکشم آسان ؟ با طناب با پرگار با لیوان

# پیاموز | Biamoz.com

بزرگترین مرجع آموزشی و نمونه سوالات درسی تمامی مقاطع

شامل انواع | نمونه سوالات | فصل به فصل | پایان ترم | جزوه |

ویدئوهای آموزشی | گام به گام | طرح درس | طرح جابر | و ...

اینستاگرام

گروه تلگرام

کانال تلگرام

برای ورود به هر پایه در سایت ما روی اسم آن کلیک کنید

## دبستان

اول	دوم	سوم	چهارم	پنجم	ششم
-----	-----	-----	-------	------	-----

## متوسطه اول

هفتم	هشتم	نهم
------	------	-----

## متوسطه دوم

دهم	یازدهم	دوازدهم
-----	--------	---------