

۱- عددهای زیر را به حروف و رقم بنویسید.

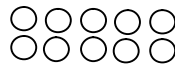
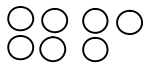
..... : ۳۸۵۰

..... : دو هزار و نهصد و بیست

..... : ۸۷۶۰

..... : یک هزار و چهل و هشت

۲- با توجه به شکل و الگوی آن شکل هفتم چند دایره دارد؟



....

۳- جای خالی را کامل کنید.

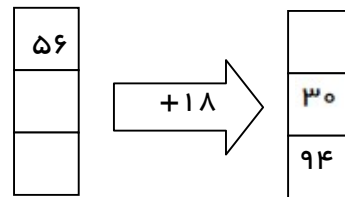
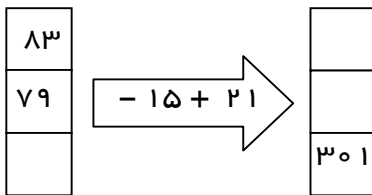
۹ کیلوگرم ..... گرم است.

۳۰۲۰ گرم ..... کیلوگرم و ..... گرم است.

۵۰۰ میلی متر ..... سانتی متر است.

۴۷۵۰ متر ..... کیلومتر و ..... متر است.

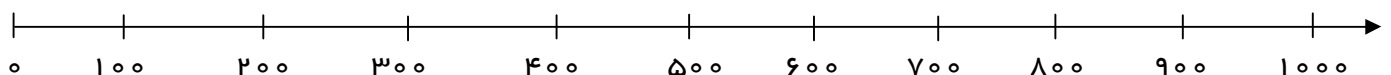
۴- ماشین های ورودی خروجی را کامل کنید.



۵- آرمین یک دفترچه به قیمت ۲۴۰۰ تومان و یک پاکن به قیمت ۵۰۰ تومان خرید. اگر او ۳ اسکناس ۱۰۰۰ تومانی به فروشنده بدهد، چه قدر باید پس بگیرد؟

۶- عددهای داده شده را به صورت تقریبی روی محور نشان دهید.

۹۵۰ - ۳۰۹ - ۷۱ - ۸۰۶



۷- کشاورزی زمین خود را به ۳ قسمت تقسیم کرد. در یک قسمت آن برنج کاشت و در یک قسمت آن چای کاشت. او قسمت دیگر را به ۲ قسمت تقسیم کرد و در یک قسمت آن هویج کاشت. حالا به سوالات پاسخ دهید.

الف) چه کسری از زمین برنج کاشته شده است؟

ب) چه کسری از زمین هویج کاشته شده است؟

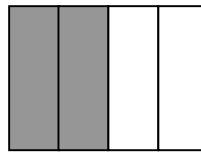

ج) چه کسری از زمین کاشته شده است؟

۸- به چند حالت می توان با سکه های ۵۰۰ تومانی و ۱۰۰ تومانی، ۱۵۰۰ تومان ساخت؟

تعداد حالت	
۵۰۰	
۱۰۰	


۹- برای هر شکل کسر مناسب بنویسید.

برای کسر داده شده شکل را رنگ کنید.



.....

.....



$$\frac{2}{3}$$

$$\frac{5}{8}$$

۱۰- قد آذر ۱ متر و ۶۰ سانتی متر است. اگر او روی چهار پایه ی ۷۰ سانتی متری بایستد، اندازه ی طول قد او با اندازه ی چهار پایه روی هم چند سانتی متر می شود؟

۱۱- هر مکعب ..... طرف یا وجه ساخته شده است؟

۱۲- گسترده و بسته ی عددهای زیر را بنویسید.

$$۸۰۲۰ =$$

$$۹۷۰۵ =$$

$$۳۰۰۰ + ۶ + ۲۰ =$$

$$۵۰۰ + ۲۰۰۰ + ۳۰ + ۲ =$$

# پیاموز | Biamoz.com

بزرگترین مرجع آموزشی و نمونه سوالات درسی تمامی مقاطع

شامل انواع | نمونه سوالات | فصل به فصل | پایان ترم | جزوه |

ویدئوهای آموزشی | گام به گام | طرح درس | طرح جابر | و ...

اینستاگرام

گروه تلگرام

کانال تلگرام

برای ورود به هر پایه در سایت ما روی اسم آن کلیک کنید

## دبستان

اول	دوم	سوم	چهارم	پنجم	ششم
-----	-----	-----	-------	------	-----

## متوسطه اول

هفتم	هشتم	نهم
------	------	-----

## متوسطه دوم

دهم	یازدهم	دوازدهم
-----	--------	---------