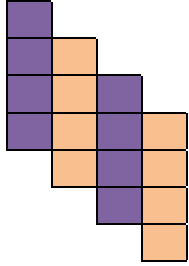


نوع آزمون: مداد کاغذی
زمان آزمون: ۴۵ دقیقه

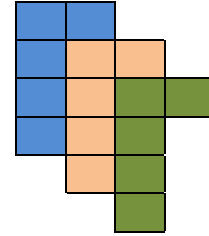
آموزشگاه:
تاریخ:

نام و نام خانوادگی:
معلم مربوطه:

فرزند گلم برای هر شکل یک عبارت بنویس.

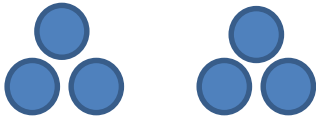


..... دسته کاشی تایی می شود مربع



..... دسته کاشی تایی می شود مربع

برای هر شکل ، یک تساوی ضرب بنویس.



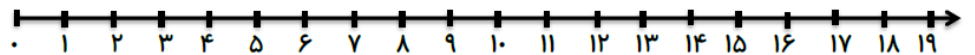
..... × =



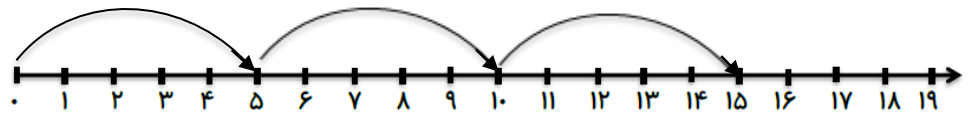
..... × =

به کمک محور ، ضرب ها را کامل کن.

$2 \times 6 = \dots\dots\dots$



..... × =



با هر روشی که دوست داری ، حاصل ضرب زیر را بدست آور. مثلا
(بارسیم شکل یا مستطیل - بامحور - باشمارش چندتاچندتا - بانوشتن جمع)

$4 \times 5 = \dots\dots\dots$

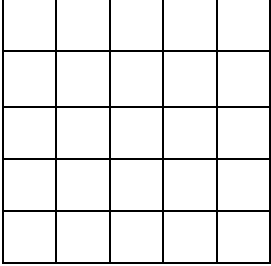
$5 \times 3 = \dots\dots\dots$

نوع آزمون: مداد کاغذی
زمان آزمون: ۴۵ دقیقه

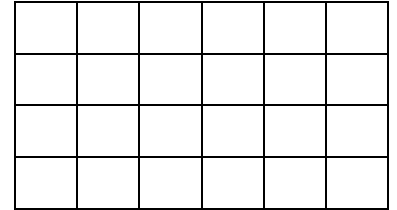
آموزشگاه:
تاریخ:

نام و نام خانوادگی:
معلم مربوطه:

با دسته بندی ، برای هر کدام از شکل ها یک ضرب بنویس.



..... × =



..... × =

به کمک ضرب هایی که تا حالا انجام داده ای، جدول ضرب زیر را کامل کن.

+	۲	۳	۴	۵	۶	۷	۸	۹
۱								
۲								
۳								
۴								

برای پیدا کردن حاصل ضرب ۷×۶ و ۸×۵ حاصل ضرب چه عبارتی را باید جمع کرد؟

$$۷ \times ۶ = (\dots \times \dots) + (\dots \times \dots) = \dots + \dots = \dots$$

$$۸ \times ۵ = (\dots \times \dots) + (\dots \times \dots) = \dots + \dots = \dots$$

* گل های با هوش من خدا قوت *

بازخورد معلم:

پیاموز | Biamoz.com

بزرگترین مرجع آموزشی و نمونه سوالات درسی تمامی مقاطع

شامل انواع | نمونه سوالات | فصل به فصل | پایان ترم | جزوه |

ویدئوهای آموزشی | گام به گام | طرح درس | طرح جابر | و ...

اینستاگرام

گروه تلگرام

کانال تلگرام

برای ورود به هر پایه در سایت ما روی اسم آن کلیک کنید

دبستان

اول	دوم	سوم	چهارم	پنجم	ششم
-----	-----	-----	-------	------	-----

متوسطه اول

هفتم	هشتم	نهم
------	------	-----

متوسطه دوم

دهم	یازدهم	دوازدهم
-----	--------	---------