


به نام ایزد دانا

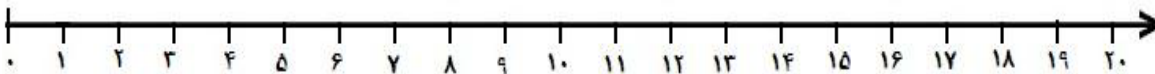
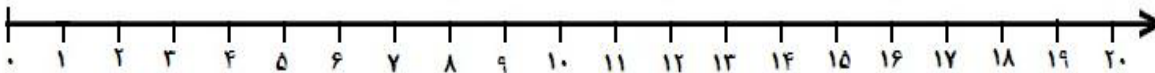
آزمون ریاضی از فصل ۴

نام و نام خانوادگی

۱ جدول را کامل کنید .

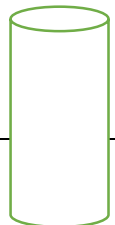
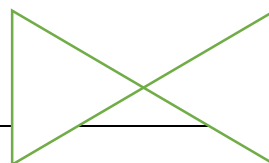
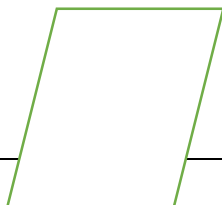
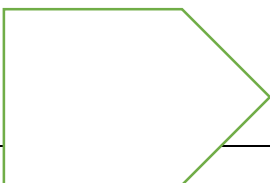
شکل	ضرب	جمع
		
	$5 \times 2 =$	
		$7 + 7 =$

۲ روی محور نشان دهید $5 \times 4 = 4 \times 5$



$18 \div 6 = \dots\dots$

۳ خطوط موازی هر شکل را هم رنگ کن



۴ پاسخ سوالات را با هر روشی که دوست دارید پیدا کنید. (شکل ، محور و....)

هر مسلمان در هر روز ۵ نوبت نماز میخواند . در یک هفته چند نوبت نماز می خواند؟

یکی از بچه ها می خواهد با ۴۵ دانش آموز گروه های ۵ نفره تشکیل بدهد . چند گروه تشکیل می شود؟

علی ۸ سال سن دارد و پدرش ۴۰ سال . سن پدر علی چند برابر سن علی است؟

هر دست لیوان ۶ لیوان است . ۴ دست لیوان چند لیوان است؟

هشت هفته چند روز است ؟

۵ برای شکل زیر یک ضرب و دو تقسیم بنویسید



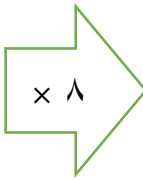
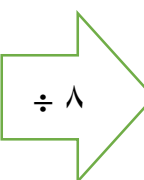
$$\dots \times \dots = \dots$$

$$\dots \div \dots = \dots$$

$$\dots \div \dots = \dots$$

۶	<p>جاهای خالی را کامل کنید.</p> <p>$۸ \times ۹ = \dots \times ۸$</p> <p>$۷ \times ۵ = (۴ \times ۵) + (\dots \times ۵) = \dots \times \dots = \dots$</p> <p>$(۵ \times ۶) - (۲ + ۳) = \dots - \dots = \dots$</p> <p>$(۱۴ - ۶) \times (۴ + ۵) = \dots \times \dots = \dots$</p>
---	---

۷	در الگوی شمارش ۸ تا ۸ تا بعد از عدد ۵۶ کدام عدد قرار می گیرد؟
---	---

۸	<p>جاهای خالی را کامل کن .</p> <div style="display: flex; align-items: center; justify-content: center;"> <table border="1" style="border-collapse: collapse; text-align: center; width: 100px; height: 150px;"> <tr><td> </td></tr> <tr><td>۹</td></tr> <tr><td> </td></tr> <tr><td>۱</td></tr> <tr><td> </td></tr> </table> <div style="margin: 0 20px; text-align: center;">  </div> <table border="1" style="border-collapse: collapse; text-align: center; width: 100px; height: 150px;"> <tr><td>۳۲</td></tr> <tr><td> </td></tr> <tr><td>۶۴</td></tr> <tr><td> </td></tr> <tr><td>۴۸</td></tr> </table> <div style="margin: 0 20px; text-align: center;">  </div> <table border="1" style="border-collapse: collapse; width: 100px; height: 150px;"> <tr><td> </td></tr> <tr><td> </td></tr> <tr><td> </td></tr> <tr><td> </td></tr> <tr><td> </td></tr> </table> </div>		۹		۱		۳۲		۶۴		۴۸					
۹																
۱																
۳۲																
۶۴																
۴۸																

۹	<p>دیروز امیر حسین در یک مهمانی دور یک میز ۹ نفره نشسته بود که در آن برای پذیرایی از مهمانها در هر بشقاب ۳ نارنگی ، یک سیب زرد و یک سیب سرخ گذاشته بودند . امیر حسین تعداد میوه های آن میز را حساب کرد . به نظر شما امیر حسین با استفاده از کدام روش زیر می توانست این کار را انجام دهد؟</p> <p style="text-align: center;"> الف) $(۹ \times ۳) + (۹ \times ۱) + (۹ \times ۱) = ۴۵$ ب) $(۹ \times ۳) + (۹ \times ۲) = ۴۵$ </p> <p style="text-align: center;"> ج) $۹ \times ۵ = ۴۵$ د) با هر سه روش </p>
---	---

بچه های تلاشگر روز های شاد و خوبی داشته باشید