



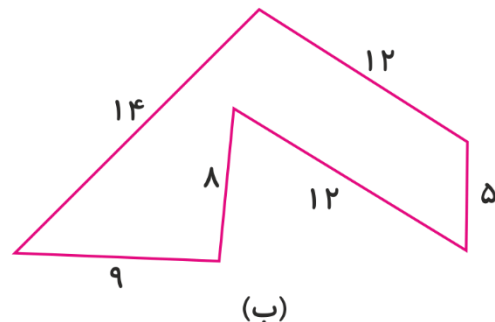
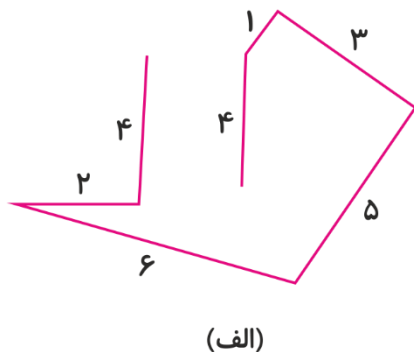
ریاضی تشریحی - صفحه‌های 73 تا 105 کتاب درسی

- 1- جاهای خالی را با کلمه‌های «کوچک‌تر» یا «بزرگ‌تر» پر کنید. (2 نمره)
- الف) عدد 1021 از عدد سیصد و بیست و سه می‌باشد.
- ب) عددهای سه‌رقمی از عددهای 4 رقمی هستند.
- ج) عدد پنج هزار و چهارصد از 5040 می‌باشد.
- د) حاصل جمع بزرگ‌ترین عدد دو رقمی و بزرگ‌ترین عدد سه رقمی از کوچک‌ترین عدد چهاررقمی است.
- 2- حاصل جمع و تفریق‌های زیر را به دست آورید. (2 نمره)

$$\begin{array}{r} 2 \cdot 5 \cdot \\ + 3 \cdot 9 \cdot \\ \hline \end{array}$$

$$\begin{array}{r} 8 \cdot 3 \cdot 8 \\ - 2 \cdot 6 \cdot 2 \\ \hline \end{array}$$

- 3- محیط شکل (ب) و طول خط شکسته‌ی (الف) را به دست آورید. (2 نمره)



- 4- تقسیم‌های زیر را روی محور نشان دهید و حاصل آن‌ها را بنویسید. (3 نمره)

$$48 \div 6 = \dots\dots\dots$$

$$63 \div 9 = \dots\dots\dots$$

- 5- در یک کارخانه‌ی تولید کاغذ، روزانه 8900 عدد کاغذ تولید می‌شود. اگر 2450 عدد از این کاغذها به صورت خط‌دار و بقیه‌ی آن‌ها بدون خط تولید شوند، روزانه چه تعداد کاغذ بدون خط تولید می‌شود؟ (1 نمره)



1- (جمع و تفریق - صفحه‌های 101 و 102 کتاب درسی)

(الف) $323 < 1021$ بزرگ‌تر

(ج) $5400 < 5040$ بزرگ‌تر

$$1098 > 1000$$

(ب) کوچک‌تر

(د) بزرگ‌تر

$$\begin{array}{r}
 1000 \text{ کوچک‌ترین عدد چهار رقمی} \\
 + \quad \begin{array}{r} 1 \quad 1 \\ 9 \quad 9 \\ 9 \quad 9 \quad 9 \end{array} \\
 \hline
 1098
 \end{array}$$

(هر مورد صحیح 0/5 نمره دارد.)

2- (جمع و تفریق - صفحه‌های 104 و 105 کتاب درسی)

(هر مورد صحیح 1 نمره دارد.)

$$\begin{array}{r}
 2 \quad 1 \quad 5 \quad . \\
 + \quad 3 \quad . \quad 9 \quad . \\
 \hline
 5 \quad 1 \quad 4 \quad .
 \end{array}$$

$$\begin{array}{r}
 \cancel{8}^7 \quad \cancel{10}^9 \quad \cancel{3}^{13} \quad 8 \\
 - \quad 2 \quad . \quad 6 \quad 2 \\
 \hline
 5 \quad 9 \quad 7 \quad 6
 \end{array}$$

3- (محیط و مساحت - صفحه‌های 85 و 87 کتاب درسی)

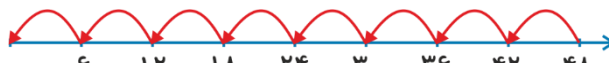
(هر مورد صحیح 1 نمره دارد.)

$$(ب) \quad 9 + 14 + 12 + 5 + 12 + 8 = 60$$

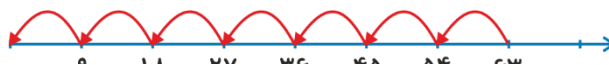
$$(الف) \quad 4 + 2 + 6 + 5 + 3 + 1 + 4 = 25$$

4- (ضرب و تقسیم - صفحه‌ی 74 کتاب درسی)

$$48 \div 6 = 8 \quad (0/5 \text{ نمره})$$



$$63 \div 9 = 7 \quad (0/5 \text{ نمره})$$



(هر نمودار صحیح 1 نمره دارد.)

5- (جمع و تفریق - صفحه‌ی 103 کتاب درسی)

$$\begin{array}{r}
 8 \quad 9 \quad . \quad . \\
 - \quad 2 \quad 4 \quad 5 \quad . \\
 \hline
 6 \quad 9 \quad . \quad . \\
 - \quad \quad 4 \quad 5 \quad . \\
 \hline
 6 \quad 5 \quad . \quad . \\
 - \quad \quad \quad 5 \quad . \\
 \hline
 6 \quad 4 \quad 5 \quad .
 \end{array}$$

→ کم کردن هزرتایی

→ کم کردن صدتایی

6450 کاغذ بدون خط تولید می‌شود. (رسیدن به جواب آخر 1 نمره دارد.)

پیاموز | Biamoz.com

بزرگترین مرجع آموزشی و نمونه سوالات درسی تمامی مقاطع

شامل انواع | نمونه سوالات | فصل به فصل | پایان ترم | جزوه |

ویدئوهای آموزشی | گام به گام | طرح درس | طرح جابر | و ...

اینستاگرام

گروه تلگرام

کانال تلگرام

برای ورود به هر پایه در سایت ما روی اسم آن کلیک کنید

دبستان

اول	دوم	سوم	چهارم	پنجم	ششم
-----	-----	-----	-------	------	-----

متوسطه اول

هفتم	هشتم	نهم
------	------	-----

متوسطه دوم

دهم	یازدهم	دوازدهم
-----	--------	---------