

«به نام خدا»

آزمون ریاضی سوم ابتدایی از فصل ۷

تاریخ آزمون: .....

نام و نام خانوادگی: ..... مدرسه: ..... وقت آزمون: ۴۰ دقیقه

۱

عددی را سه برابر کرده و حاصل آن را با ۵ جمع کرده ایم. جواب ۱۷ شد. آن عدد را پیدا کنید.

۲

سکه ای را ۱۰ بار انداختیم نتایج زیر حاصل شد. کسرهای مربوط به آن ها را مقابل هر کدام بنویس.


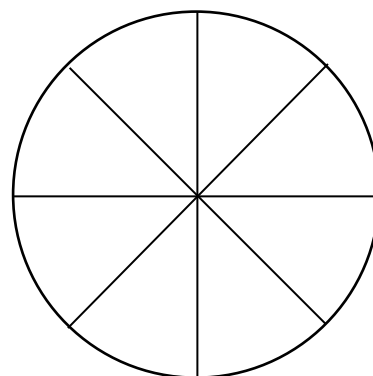

رو: ۶ بار      پشت: ۴ بار

۳

تعداد کتاب های مدرسه ی شاهد بوعلی و موضوع آن ها در جدول زیر مشخص شده است.

نوع کتاب	علمی	داستانی	مذهبی	کمک درسی
تعداد کتاب	۸۰	۴۰	۲۰	۲۰

نمودار دایره ای و ستونی مربوط به این جدول را رسم کنید.



وضعیت من در این آزمون:

بازخورد آموزگار: .....

# پیاموز | Biamoz.com

بزرگترین مرجع آموزشی و نمونه سوالات درسی تمامی مقاطع

شامل انواع | نمونه سوالات | فصل به فصل | پایان ترم | جزوه |

ویدئوهای آموزشی | گام به گام | طرح درس | طرح جابر | و ...

اینستاگرام

گروه تلگرام

کانال تلگرام

برای ورود به هر پایه در سایت ما روی اسم آن کلیک کنید

## دبستان

اول	دوم	سوم	چهارم	پنجم	ششم
-----	-----	-----	-------	------	-----

## متوسطه اول

هفتم	هشتم	نهم
------	------	-----

## متوسطه دوم

دهم	یازدهم	دوازدهم
-----	--------	---------