
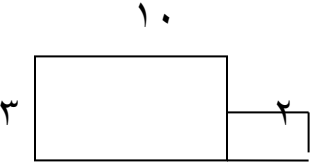




بسمه تعالی آزمون ریاضی پایه سوم ابتدایی	
نام و نام خانوادگی: تاریخ: معلم:	
$6 \times 14 = (6 \times 10) + (6 \times \quad)$	۱ در جای خالی عدد مناسب بنویس . $30 \times \quad = 2700$
	۲ ربع شکل را رنگ بزن. چه کسری رنگی است؟ چه کسری رنگی نیست؟
۳ هواپیمایی در یک دقیقه ۹ کیلومتر راه را طی می کند، در یک ساعت چند کیلومتر راه را طی می کند؟	
	۴ مساحت شکل را به دست آور.
۵ اندازه ی عرض مستطیلی ۱۶ سانتی متر و طول آن ۳ برابر عرض است. الف) طول مستطیل چند سانتی متر است؟ ب) محیط مستطیل چند سانتی متر است؟	
۶ اگر قیمت ۷ خودکار ۴۲ تومان باشد، قیمت ۵۲۰ خودکار چند تومان می شود؟	
۷ ۱۳ یکی ، ۶ ده تایی ، ۲۴ صدتایی و ۴ هزار تایی می شود..... به حروف.....	
۸ کیانا از گل فروشی ۵۷ شاخه گل خرید و آن ها را به طور مساوی داخل ۹ گلدان گذاشت. داخل هر گلدان چند شاخه گل گذاشته است؟ چند شاخه گل باقی مانده است؟	

<p>روشنک ۳۶ عدد مهره ی رنگی دارد. ربع آن ها را به دوستش سارا داد . چند مهره به سارا داده است و چند مهره برای خودش باقی مانده است؟</p>	<p>۹</p>
<p>مساحت قسمت رنگ شده را به دست آورید.</p> 	<p>۱۰</p>
<p>محیط مثلث متساوی الساقین رابه دست آورید که اندازه هر ساق آن ۲۳ سانتی متر باشد و ضلع سوم آن ۱۰ سانتی متر باشد؟</p>	<p>۱۱</p>
<p>کتابخانه ی دبستان امیرکبیر ۸ طبقه دارد در هر طبقه ۲ ردیف و در هر ردیف ۱۰ جلد کتاب گذاشته اند. در این کتابخانه چند جلد کتاب است؟</p>	<p>۱۲</p>
<p>می خواهیم با سیمی به طول ۳۱ سانتی متر یک مربع بسازیم با چند سانتی متر آن می شود مربع ساخت و چند سانتی متر را باید برید؟</p>	<p>۱۳</p>
<p>نام شکل های زیر را بنویسید.</p> 	<p>۱۴</p>