

نمونه سوالات امتحانی ریاضی سوم دبستان (۱)

۱- در جای خالی عدد مناسب بنویس.

الف) ۱ متر برابر است با — سانتی متر و یا — میلی متر.

ب) ۱۳۵ میلی متر برابر است با — سانتی متر و — میلی متر.

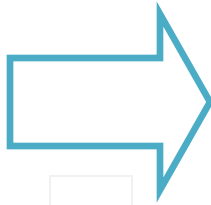
ج) ۱۰ سانتی متر و ۲۲ میلی متر می شود — میلی متر.

د) ساعت ۱۵ یعنی همان ساعت — بعدازظهر.

۲- هر شکل زیر از چند پاره خط تشکیل شده است؟



الف



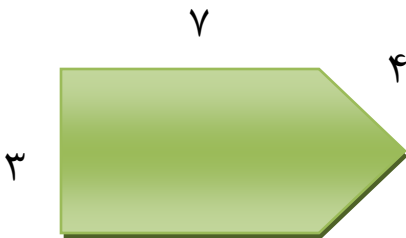
ب



ج

۳- از ۱۰ بادکنک برای تزئین هر اتاق استفاده کرده ایم، اگر بخواهیم ۱۰ اتاق را تزئین کنیم به چند بادکنک نیاز داریم؟

۴- محیط شکل زیر را حساب کن.




نام و نام خانوادگی :

کلاس :

نام آزمون :


۵- محیط مستطیلی که مجموع طول و عرض آن ۸ سانتی متر است را حساب کن.

۶- خط تقارن شکل مقابل را رسم کن.



۷- مساحت مستطیلی به طول ۵ سانتی متر و عرض ۱ سانتی متر را حساب کنید.

۸- هر شکل چند قطر دارد؟



نام و نام خانوادگی :

کلاس :

نام آزمون :

۹- اگر قیمت هر بسته پفک ۵ تومان باشد برای خرید ۹ بسته پفک چند تومان باید پرداخت کرد؟

۱۰- فاصله خانه ی حمید تا مدرسه اش ۳ کیلومتر است. فاصله خانه تا مدرسه حمید چند متر است؟
