


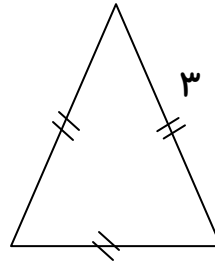
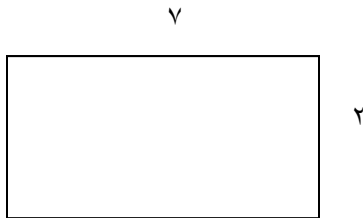
به نام خدا

ریاضی سوم


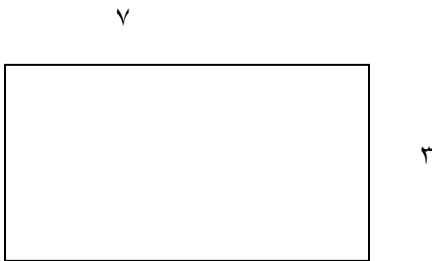
پایه سوم

نام زیباییت: تاریخ:

۱- محیط شکل های زیر را به دست آورید .



۲- مساحت شکل های زیر را به دست آورید .

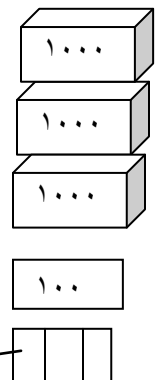
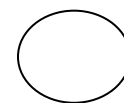
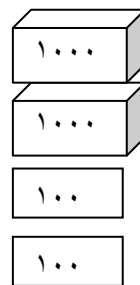


۳- در جای خالی عدد مناسب بنویسید .

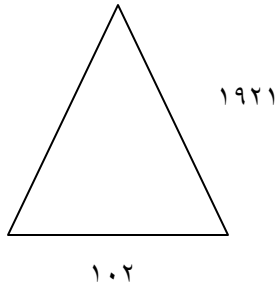
۲۵۲۹ ○ ۳۵۲۹

۸۵۰۰ ○ ۵۸۰۰

۴۴۰۵ ○ ۴۴۵۰



۴- شکل زیر یک مثلث متساوی الساقین است. محیط آن تقریباً چقدر است؟



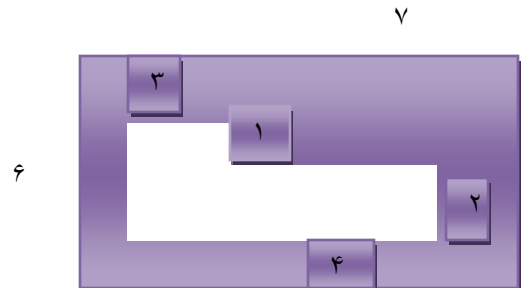
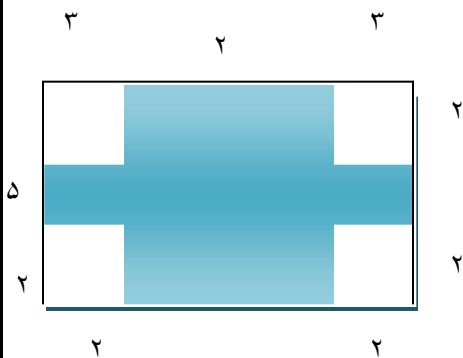
۵- با حذف یکان و دهگان، حاصل تقریبی را به دست آورید.

$$\begin{array}{r} 4069 \longrightarrow \dots\dots\dots \\ + 3195 \longrightarrow \\ \hline \end{array}$$

$$\begin{array}{r} 6410 \longrightarrow \\ - 4111 \longrightarrow \\ \hline \end{array}$$

۶- مجموع وزن دو کیسه میوه ۳۲۴۲ کیلوگرم است. اگر کیسه سیب ها ۱۷۸۴ کیلوگرم وزن داشته باشد اختلاف وزن این دو کیسه چقدر است؟

۷- مساحت قسمت های رنگی را به دست آورید.



۸- مجموع سن دارا و سارا ۴۸ سال است . ۱۰ سال قبل مجموع سن آن ها چقدر است ؟

۹- کدام یک از نامساوی های زیر درست است ؟

$$\begin{array}{ccc} 2400 - 130 & \bigcirc & 200 + 1100 \\ 690 & \bigcirc & 220 + 450 \\ 850 - 10 & \bigcirc & 50 + 610 \\ 180 - 43 & \bigcirc & 47 + 90 \end{array}$$

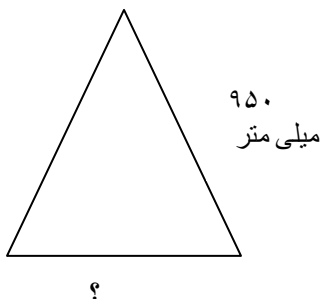
۱۰- خانواده علی گندم کار است . او ۸۷۶۴ کیلوگرم گندم را به یزد ، ۱۲۴۹ کیلوگرم را به همدان ، ۱۶۵۲ کیلوگرم را به قم ، ۲۳۴۹ کیلوگرم را به تبریز و ۳۷۲۶ کیلوگرم به گیلان فرستاد .

الف : به کدام شهر گندم بیشتری فرستاده شده است ؟

ب : به کدام شهر گندم کمتری فرستاده شده است ؟

ج : اختلاف گندم تبریز و گیلان چقدر است ؟

۱۱- محیط مثلث متساوی الساقین مقابل ۳۰۰۰ میلی متر است . اندازه ضلع پایین را پیدا کنید .



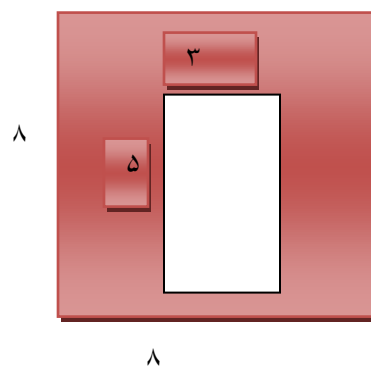
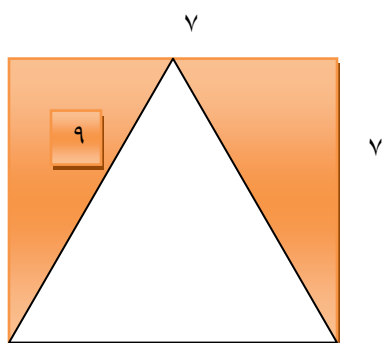
۱۲ - گزینه درست و نادرست را مشخص کنید .

الف : $۶۵۰۰ > ۶۴۰۰ > ۶۰۴۰ > ۶۰۰۴$ ص غ

ب : $۸۷۱۷ > ۸۰۷۷ > ۸۰۸۰ > ۸۰۰۸$ ص غ

ج : $۴۵۱۶ > ۴۱۵۶ > ۴۰۰۵ > ۴۰۰۰$ ص غ

۱۳ - محیط قسمت رنگ نشده و رنگ شده را به دست آورید .



۱۴ - رضا سه اسکناس ۵ هزار تومانی ، دو اسکناس ۱۰۰۰ تومانی و چهار سکه ۱۰۰ تومانی دارد .

اومی خواهد یک کتاب ۹۵۰۰ تومانی بخرد . آیا می تواند ؟

پیاموز | Biamoz.com

بزرگترین مرجع آموزشی و نمونه سوالات درسی تمامی مقاطع

شامل انواع | نمونه سوالات | فصل به فصل | پایان ترم | جزوه |

ویدئوهای آموزشی | گام به گام | طرح درس | طرح جابر | و ...

اینستاگرام

گروه تلگرام

کانال تلگرام

برای ورود به هر پایه در سایت ما روی اسم آن کلیک کنید

دبستان

اول	دوم	سوم	چهارم	پنجم	ششم
-----	-----	-----	-------	------	-----

متوسطه اول

هفتم	هشتم	نهم
------	------	-----

متوسطه دوم

دهم	یازدهم	دوازدهم
-----	--------	---------