



سخن دل پذیر: مه — م بودن خوبه ولی خ — وب بودن خیلی مهم تره ...




ردیف رابطه ی بین عددها را پیداکن والگو را ادامه بده.

۵۰ - ۱۰۰ - ۱۵۰ - - -
 ۲۳۰ - ۳۴۱ - ۴۵۲ - - -



۱



جاهای خالی را با کلمات مناسب پر کنید.
 ح اندازه ی دور هر شکل را می نامند.
 ح هر دایره خط تقارن دارد.

۲

عدد زیر رابه صورت گسترده(بازشده) بنویس.
 $۳۰۰۵ = \dots\dots\dots$

۳

با توجه به عدد «شش هزار وهشتاد و سه» به سوالات زیر پاسخ کامل دهید.



الف) کدام رقم در مرتبه ی صدگان قرار دارد؟
 ب) ارزش مکانی رقم ۸ چیست؟
 ج) عدد رابا رقم بنویسید.....

۴

$\frac{۳}{۵}$

برای کسر زیر یک شکل بکش .



۵

$۶ \times ۳ = \dots\dots\dots$

حاصل ضرب عدد زیر را با استفاده از محور به دست بیاور.



۶

با کمک ضرب محیط شکل زیر را پیدا کن. (اندازه ی هر ضلع ۴ س)



۷

حاصل جمع عدد زیر رابه صورت فرایندی(طولانی) به دست بیاور.

$$\begin{array}{r} ۴ \ ۳ \ ۷ \\ + ۵ \ ۲ \ ۱ \\ \hline \end{array}$$

۸

اطلاعات جدول را به صورت نمودار ستونی نمایش بده.



نام کلاس (کانون ریاضی مهر دیز)	سوم الف	سوم ب	چهارم الف	چهارم ب
جمعیت کلاس	۴۰ نفر	۳۵ نفر	۳۰ نفر	۲۰ نفر

چهارم ب چهارم الف سوم ب سوم الف



۹

$۱۰۰ \times ۳ = \dots\dots\dots$

$۲۰ \times ۴۰ = \dots\dots\dots$

حاصل ضرب عبارت های زیر را بنویس.

۱۰



$۶ \times \dots\dots\dots = ۶۰۰$

$۵ \times ۴ = \dots\dots\dots$

$۲ \times ۲۰ \times ۲۰ = \dots\dots\dots$

$48 \div \square = 8$

$72 \div 9 = \square$

$36 \div 6 = \square$

تقسیم های زیر را انجام بده.

۱۱



$$\begin{array}{r} 24 \\ 3 \end{array}$$

$$\begin{array}{r} 48 \\ 5 \end{array}$$

مساحت زمینی که طول آن ۳۸ متر و عرض آن ۵۱ متر است، به طور تقریبی چند متر مربع است؟



۱۲

من چه عددی هستم؟


عدد دورقمی هستم که اگر با خودم جمع شوم و از حاصل جمع ۲ تا کم شود، باقی مانده ۲۰ می شود.

۱۳

$$\square + \square = \square - 2 = 20$$

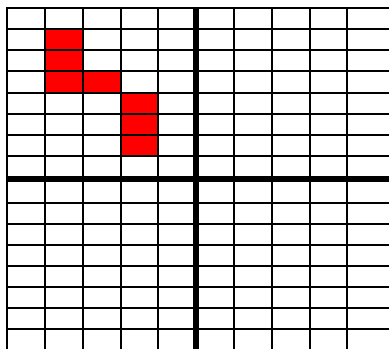
مساحت مربعی که طول هر ضلع آن ۲۰ سانتی متر است را به دست بیاور.

۱۴



شکل را به صورت متقارن رنگ کن.
(برای شکل یک عبارت ضرب بنویس.)

۱۵



$$\dots \times \dots = \dots$$

بارقم های ۴ و ۵ و ۲ و ۶ بزرگ ترین و کوچک ترین عدد چهار رقمی را بنویس.

۱۶


ک: 

ب: 

اختلاف این دو عدد را پیدا کن.

نازنین می خواهد دور تا دور یک رومیزی به طول ۳۵۰ سانتی متر و به عرض ۱۸۰ سانتی متر تور بدوزد. او به چند متر تور نیاز دارد؟

۱۷



زندگی ریاضی است! بدی هارا کم کنیم - خوبی هارا جمع کنیم + شادی هارا ضرب کنیم × و غصه هارا تقسیم کنیم ÷

**

نظر آموزگار:

پیاموز | Biamoz.com

بزرگترین مرجع آموزشی و نمونه سوالات درسی تمامی مقاطع

شامل انواع | نمونه سوالات | فصل به فصل | پایان ترم | جزوه |

ویدئوهای آموزشی | گام به گام | طرح درس | طرح جابر | و ...

اینستاگرام

گروه تلگرام

کانال تلگرام

برای ورود به هر پایه در سایت ما روی اسم آن کلیک کنید

دبستان

اول	دوم	سوم	چهارم	پنجم	ششم
-----	-----	-----	-------	------	-----

متوسطه اول

هفتم	هشتم	نهم
------	------	-----

متوسطه دوم

دهم	یازدهم	دوازدهم
-----	--------	---------