


آزمون ریاضی پایه سوم ابتدایی

۱- در جاهای خالی عدد مناسب بنویسید.

..... یکی و ده تایی و صدتایی = ۹۷۸

۲- کتابخانه دبستان یادآور آن ۴۲۳ کتاب داشت. دانش آموزان این دبستان ۷۳ کتاب را به دبستان دیگری هدیه کردند. حالا این کتابخانه چند کتاب دارد؟

۳- با توجه به شکل مقدار هر کدام را در جدول ارزش مکانی نشان دهید.


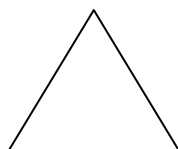
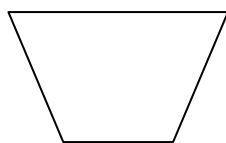


| هزارتایی | صدتایی | ده تایی | یکی |
|----------|--------|---------|-----|
| | | | |

۴- حاصل جمع و تفریق های زیر را بنویسید.

| | | | | |
|--------------|--------------|--------------|--------------|---------------|
| $+856$ | -458 | $+9874$ | -1757 | $+43087$ |
| <u> ۱۲۳</u> | <u> ۱۵۶</u> | <u> ۳۴۳</u> | <u> ۲۲۲</u> | <u> ۴۳۲۴</u> |

۵- هر یک از شکلهای زیر چند ضلع دارد؟



۶- حامد روزی ۵۹ صفحه کتاب می خواند در ۷ روز او چند صفحه کتاب خواهد خواند؟

۷- در جاهای خالی عدد مناسب بنویسید.

$8 \times 7 = \square$

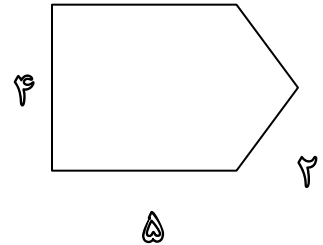

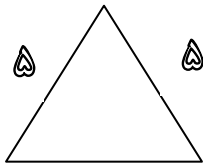
$9 \times 5 = \square$

$11 \times 4 = \square$

$7 \times 7 = \square$

۸- مادر علی خیاطی می کند. او به هر پیراهن ۵ دکمه می دوزد. ۳۰ دکمه را به چند پیراهن می تواند بدوزد؟

۹- محیط هر یک از شکل‌های زیر را حساب کنید.



۱۰- کلاسی ۳ ردیف میز و نیمکت دارد در هر ردیف ۴ میز و نیمکت چیده اند. اگر روی هر نیمکت ۳ دانش آموز بنشینند، این کلاس چند دانش آموز دارد؟

۱۱- تقسیم‌های زیر را انجام دهید.

$$\begin{array}{r} 16 \\ \hline 2 \end{array}$$

$$\begin{array}{r} 25 \\ \hline 4 \end{array}$$

$$\begin{array}{r} 30 \\ \hline 5 \end{array}$$

$$\begin{array}{r} 7 \\ \hline 4 \end{array}$$

پیاموز | Biamoz.com

بزرگترین مرجع آموزشی و نمونه سوالات درسی تمامی مقاطع

شامل انواع | نمونه سوالات | فصل به فصل | پایان ترم | جزوه |

ویدئوهای آموزشی | گام به گام | طرح درس | طرح جابر | و ...

اینستاگرام

گروه تلگرام

کانال تلگرام

برای ورود به هر پایه در سایت ما روی اسم آن کلیک کنید

دبستان

| | | | | | |
|-----|-----|-----|-------|------|-----|
| اول | دوم | سوم | چهارم | پنجم | ششم |
|-----|-----|-----|-------|------|-----|

متوسطه اول

| | | |
|------|------|-----|
| هفتم | هشتم | نهم |
|------|------|-----|

متوسطه دوم

| | | |
|-----|--------|---------|
| دهم | یازدهم | دوازدهم |
|-----|--------|---------|