

بسمه تعالی

آزمون ریاضی سوم

نام و نام خانوادگی:

آموزگار:

۱- الگوهای زیر را ادامه بده.

۱۱- ۱۳- ۱۵-.....-.....-.....

۲۰۰، ۲۳۰- ۲۶۰-.....-.....-.....

۴۱۰۰- ۴۴۰۰- ۴۷۰۰-.....-.....-.....

۲- برنامه عمویورنگ ساعت ۱۷:۳۰ پخش می شود زمان پخش این برنامه چه ساعتی در بعد از ظهر است؟

۳- همه ی عددهای ۳ رقمی را بنویسید که رقم یکان آنها (۱،۸،۲) و رقم دهگان آنها ۳ و رقم صدگان آنها (۹،۵) باشد.

۴- عدد ۷۰۴۹ را به حروف بنویس.

بزرگترین عدد درجه مرتبه ای قرار دارد؟

رقم صفر در چه مرتبه ای قرار دارد؟

۵- جاهای خالی را پر کن.

.....خطی است که دوسر آن بسته است.

عدد.....یعنی ۳ یکی و ۶ صدتایی و ۴ هزار تایی و ۱ ده تایی.

.....بی نهایت قطر دارد.

۵۳۰۰ گرم یعنی.....کیلوگرم و.....گرم

زاویهاز زاویه راست کوچکتر است.

شعاع دایره ای ۳ است پس قطر آن.....است.

۶- کسره های زیر را روی محور نمایش بده.


$\frac{3}{4}$ واحد قبل از عدد ۶

$\frac{1}{6}$ واحد بعد از عدد ۲

۷- تساوی کسر های زیر را با شکل نشان بده.

$$\frac{1}{4} = \frac{2}{8}$$

۸- برای شکل‌های زیر عملیاتی خواسته شده را بنویس.



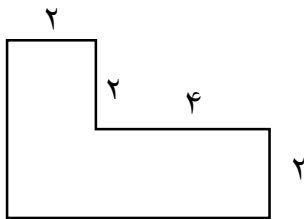
$$\dots + \dots + \dots + \dots = \dots$$

$$\dots \times \dots = \dots$$

$$\dots \div \dots = \dots$$



۹- باغچه‌ای به شکل مستطیل به طول ۹ و عرض ۶ می‌خواهیم دور تا دور آن را نرده بکشیم برای دور تا دور آن به چند متر نرده نیاز داریم؟



۱۰- محیط شکل زیر را پیدا کن.

۱۱- حاصل جمع و تفریق‌های زیر را بدست بیاور.

	$\begin{array}{r} 3842 \\ + 1149 \\ \hline \end{array}$		$\begin{array}{r} 7431 \\ - 2145 \\ \hline \end{array}$
--	---	--	---

۱۲- مقایسه کن و علامت < = > بگذار.

ربع نصف

$$\frac{11}{11} \quad \square \quad 2$$

$$100 \times 40 \quad \square \quad 10 \times 400$$


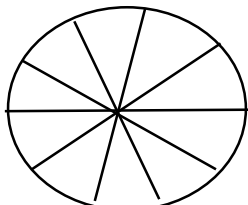
$$\frac{2}{8} \quad \square \quad \frac{6}{8}$$

$$2000 + 2500 \quad \square \quad 1500 + 3000$$

$$0 \times 15 \quad \square \quad 0 \times 7$$

۱۳ در باغ مشهدی حسین درختان زیر کاشته شده است.

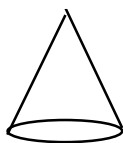
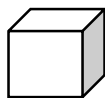
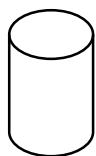
درخت	سیب	پرتقال	هلو	نارنگی
تعداد	۱۰	۵	۲۰	۱۵



درختان هلو چه کسری از کل درختان هستند؟

کدام درخت بیشتر در این باغ کاشته شده است؟

نمودار دایره‌ای و ستونی برای آنها بکش.



۱۴- نام شکل‌های زیر را بنویس.

۱۵- حاصل ضرب و تقسیم‌های زیر را بدست بیاور.

۹۸

۳۵۱

۴۶

۶

۶۷

۸

$\times ۵$

$\times ۷$

۱۶- یک دستگاه جوراب بافی در هر ساعت ۲۵ جفت جوراب می‌بافد. این دستگاه در ۲۰ ساعت چند جفت جوراب می‌بافد؟

۱۷- عددی را چهار برابر می‌کنیم و با ۸ جمع می‌بندیم حاصل ۲۰ می‌شود آن عدد را حساب کن.

۱۸ - سن حسین ۳۰ سال است اگر سن پسر خاله اش ۶ سال باشد سن حسین چند برابر سن پسر خاله اش است؟

پیاموز | Biamoz.com

بزرگترین مرجع آموزشی و نمونه سوالات درسی تمامی مقاطع

شامل انواع | نمونه سوالات | فصل به فصل | پایان ترم | جزوه |

ویدئوهای آموزشی | گام به گام | طرح درس | طرح جابر | و ...

اینستاگرام

گروه تلگرام

کانال تلگرام

برای ورود به هر پایه در سایت ما روی اسم آن کلیک کنید

دبستان

اول	دوم	سوم	چهارم	پنجم	ششم
-----	-----	-----	-------	------	-----

متوسطه اول

هفتم	هشتم	نهم
------	------	-----

متوسطه دوم

دهم	یازدهم	دوازدهم
-----	--------	---------