



نام: \_\_\_\_\_  
نام خانوادگی: \_\_\_\_\_

تاریخ: \_\_\_\_\_

کلاس: \_\_\_\_\_

## آزمون ریاضی سوم ابتدایی (نوبت دوم)

صفحه اول



### درست یا نادرست بودن جمله های زیر را مشخص کنید.

<input type="checkbox"/> درست <input type="checkbox"/> نادرست	۱- در تقسیم $25 \div 4$ باقی مانده صفر است.
<input type="checkbox"/> درست <input type="checkbox"/> نادرست	۲- همیشه در پرتاب یک سکه همیشه دو احتمال ممکن است اتفاق بیفتد.
<input type="checkbox"/> درست <input type="checkbox"/> نادرست	۳- تعداد خط های تقارن مستطیل با تعداد قطر هایش برابر است.
<input type="checkbox"/> درست <input type="checkbox"/> نادرست	۴- ۱۸ تا صد گرم یعنی یک کیلو گرم و ۸۰۰ گرم.



- به اندازه ی دور هر شکل ..... می گویند.
- به خطی که دو سر آن بسته باشد ..... می گویند.
- مساحت مستطیل برابر است با = .....
- حاصلضرب دو عدد ۷ و ۹ برابر است با = .....
- طول کتاب نسترن . ۱۳ ..... است .
- هر دایره ..... شعاع دارد.



### خارج قسمت و باقی مانده ی کدام تقسیم به ترتیب ۹ و ۶ می باشد ؟

$78 \overline{) 8}$	$75 \overline{) 8}$	$75 \overline{) 9}$	$72 \overline{) 8}$
(د)	(ج)	(ب)	(الف)

- عدد ((چهار هزار و بیست و شش)) را در جدول ارزش مکانی قرار دهید و سپس به سوالات زیر پاسخ دهید .
- ✓ کدام رقم در بیشترین ارزش مکانی قرار دارد ؟
- ✓ کوچک ترین رقم در کدام ارزش مکانی قرار دارد ؟
- ✓ رقم ۶ در کدام ارزش مکانی قرار دارد ؟

- در شکل زیر دایره به ۸ قسمت مساوی تقسیم شده است . چرخنده می چرخد و عقربه روی یکی از رنگ ها می ایستد . الف) احتمال ایستادن عقربه روی کدام رنگ بیشتر است؟ چرا؟
- ب) احتمال ایستادن عقربه روی کدام رنگ کم تر است؟ چرا؟





نام: \_\_\_\_\_  
نام خانوادگی: \_\_\_\_\_

تاریخ: \_\_\_\_\_

کلاس: \_\_\_\_\_

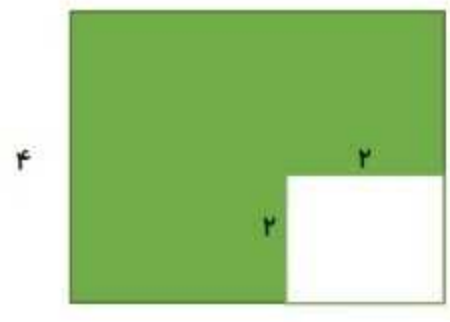
## آزمون ریاضی سوم ابتدایی (نوبت دوم)

صفحه دوم




مساحت قسمت های رنگی را به دست آورید.

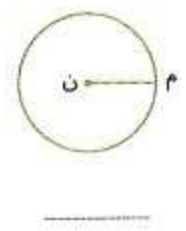
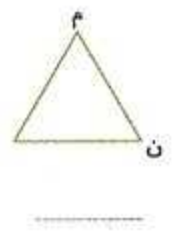
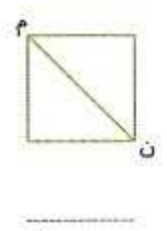
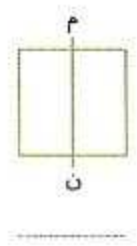
۵ سانتی متر



۷ سانتی متر



خط (م ن) در هر شکل چه نام دارد؟



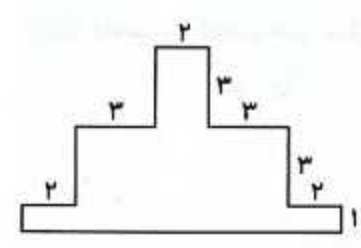
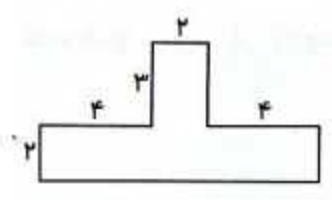
در شکل زیر یک خط راست و یک پاره خط و یک نیم خط نام ببر.

خط: \_\_\_\_\_

پاره خط: \_\_\_\_\_

نیم خط: \_\_\_\_\_

مساحت شکل های زیر را به دست بیاور. (همه ی واحدها به سانتی متر هستند)





نام: \_\_\_\_\_  
نام خانوادگی: \_\_\_\_\_

تاریخ: \_\_\_\_\_

کلاس: \_\_\_\_\_

## آزمون ریاضی سوم ابتدایی (نوبت دوم)

صفحه سوم



فصل 7

حاصل جمع و تفریق زیر را به صورت فرآیندی به دست بیاور.

$$\begin{array}{r} 6547 \\ - 3426 \\ \hline \end{array}$$

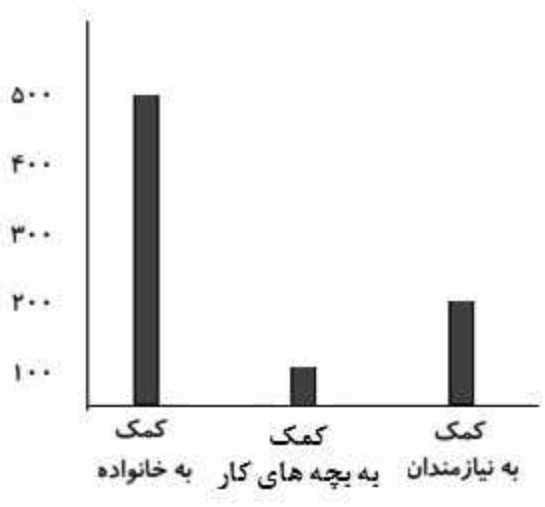
$$\begin{array}{r} 4352 \\ + 2541 \\ \hline \end{array}$$

با حذف رقم یکان و دهگان، حاصل تفریق های زیر را به صورت تقریبی به دست بیاور.

9765	-----	6963	-----
<u>- 4370</u>	<u>-</u>	<u>- 3471</u>	<u>-</u>

رسم نمودار

اطلاعات نمودار ستونی را در نمودار دایره ای نشان بده.





تاریخ:

نام:  
نام خانوادگی:

کلاس:

## آزمون ریاضی سوم ابتدایی (نوبت دوم)

صفحه چهارم



❖ زمینی به شکل مربع داریم که هر ضلع آن  $2032$  متر است. می خواهیم دور تا دور این زمین را سیم خاردار بکشیم. به چند متر سیم نیاز داریم؟

❖ مریم  $7$  شکلات خرید دانه ای  $90$  تومان و یک اسکناس  $1000$  تومانی به فروشنده داد. مریم چند تومان باید از فروشنده پس بگیرد؟

❖ سحر در هفته ی اول  $6$  صفحه از کتابش را خواند. او تصمیم گرفت هر هفته سه برابر هفته ی قبل کتاب بخواند. او هفته ی دوم چند صفحه کتاب می خواند؟  
.....  
هفته ی سوم چند صفحه؟  
.....  
هفته ی چهارم چند صفحه؟  
.....  
کتاب سحر چند صفحه دارد؟  
.....

❖ برای هر جمله، یک حالت را انتخاب کن.

به طور حتم اتفاق می افتد      احتمال دارد اتفاق بیفتد      به طور حتم اتفاق نمی افتد

- |                       |                       |                       |                             |
|-----------------------|-----------------------|-----------------------|-----------------------------|
| <input type="radio"/> | <input type="radio"/> | <input type="radio"/> | ✓ همه ی مردم معلم هستند.    |
| <input type="radio"/> | <input type="radio"/> | <input type="radio"/> | ✓ در مدرسه درس می خوانیم.   |
| <input type="radio"/> | <input type="radio"/> | <input type="radio"/> | ✓ امروز امتحان ریاضی داریم. |
| <input type="radio"/> | <input type="radio"/> | <input type="radio"/> | ✓ فردا هوا بارانی است.      |

❖ با کارت های  $5$  و  $9$  و  $0$  و  $1$  بزرگ ترین و کوچک ترین عدد چهار رقمی را بسازید و سپس اختلاف این دو عدد را پیدا کنید.

# پیاموز | Biamoz.com

بزرگترین مرجع آموزشی و نمونه سوالات درسی تمامی مقاطع

شامل انواع | نمونه سوالات | فصل به فصل | پایان ترم | جزوه |

ویدئوهای آموزشی | گام به گام | طرح درس | طرح جابر | و ...

اینستاگرام

گروه تلگرام

کانال تلگرام

برای ورود به هر پایه در سایت ما روی اسم آن کلیک کنید

## دبستان

اول	دوم	سوم	چهارم	پنجم	ششم
-----	-----	-----	-------	------	-----

## متوسطه اول

هفتم	هشتم	نهم
------	------	-----

## متوسطه دوم

دهم	یازدهم	دوازدهم
-----	--------	---------