

۱- علی آقا کشاورز است او یک زمین مستطیل شکل کشاورزی دارد نیمی از زمینش را گندم کاشته است نیمی دیگر را به دو قسمت کرده و در یک قسمت یونجه و در قسمت دیگر جو کاشته است به سوال های زیر پاسخ دهید.

چه کسری از زمین را گندم کاشته است ؟

چه کسری از زمین را جو کاشته است ؟


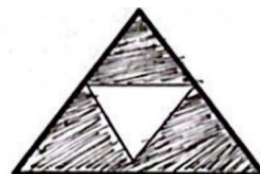
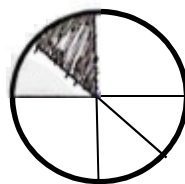
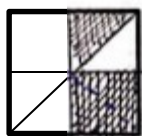
چه کسری از زمین را یونجه کاشته است ؟

۲- برای کسرها ی زیر شکل بکشید.

$$\frac{2}{5}$$

$$\frac{7}{8}$$

$$\frac{3}{6}$$



۳- برای شکل های زیر یک کسر بنویسید.

۴- یک مغازه دار نوعی آبمیوه را ۴۰۰ تومان می خرد و ۵۰۰ تومان می فروشد.

سود هر آبمیوه را حساب کنید.

اگر مغازه دار ۴ آبمیوه بفروشد چقدر سود می کند ؟

چند آبمیوه بفروشد تا ۳۰۰ تومان سود کند ؟

۵- یک ساختمان ۵ طبقه دارد . هر طبقه ۳ واحد دارد .

۳ طبقه چند واحد دارد ؟

۵ طبقه چند واحد دارد ؟

۶- یک زمین کشاورزی مستطیل شکل را به ۶ قسمت مساوی تقسیم کرده اند در ۲ قسمت آن کاهو و در یک قسمت آن زرد آلو و در ۲ قسمت دیگر آن نیز آلوچه کاشته اند .

چه کسری از زمین را کاهو کاشته است ؟

چه کسری از زمین را آلوچه کاشته است ؟

چه کسری از زمین را زرد آلو کاشته است ؟

چه کسری از زمین را چیزی نکاشته است ؟

۷- یک عدد چهار رقمی بنویسید که رقم یکانش ۴ و رقم دهگانش ۵ و رقم صدگانش صفر و رقم هزارگان آن ۷ باشد .

به عدد ..... به حروف .....

۸- جاهای خالی را کامل کنید .

۳۷۰۰ گرم ..... کیلو گرم و ..... گرم ۴۵۰۰ گرم ..... کیلو گرم ..... گرم

۳ کیلو گرم و ۲۵۰ گرم یعنی ..... گرم ۴ کیلو گرم و ۳۰۰ گرم یعنی ..... گرم

۳۲۵ سانتی متر برابر ..... متر و ..... سانتی متر

۴۵۰ سانتی متر برابر ..... متر و ..... سانتی متر

۳ کیلو متر و ۲۰۰ متر یعنی ..... متر

۵ کیلو متر و ۳۴۰ متر یعنی ..... متر

۹- عدد ..... یعنی ۳ یکی ۷ ده تایی ۳ صد تایی ۵ هزار تایی

عدد ..... یعنی ۶ یکی ۸ ده تایی ۴ صد تایی ۹ هزار تایی

عدد ۸۶۵۲ یعنی ..... یکی ..... ده تایی ..... صد تایی ..... هزار تایی

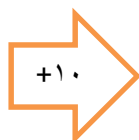
عدد ۷۹۰۱ یعنی ..... یکی ..... ده تایی ..... صد تایی ..... هزار تایی

۱۰- مقایسه کنید .

۶۵۳۱  ۶۵۴۷      ۶۵۷۱  ۷۵۲۳      ۴۳۵۶  ۴۳۲۸      ۶۲۱  ۴۵۱

۱۱- جاهای خالی را با عدد مناسب کامل کنید .

۹
۲۵
۳۰
۱۵







۱۱
۲۰
۱۵
۲۰
۱۲

# پیاموز | Biamoz.com

بزرگترین مرجع آموزشی و نمونه سوالات درسی تمامی مقاطع

شامل انواع | نمونه سوالات | فصل به فصل | پایان ترم | جزوه |

ویدئوهای آموزشی | گام به گام | طرح درس | طرح جابر | و ...

اینستاگرام

گروه تلگرام

کانال تلگرام

برای ورود به هر پایه در سایت ما روی اسم آن کلیک کنید

## دبستان

اول	دوم	سوم	چهارم	پنجم	ششم
-----	-----	-----	-------	------	-----

## متوسطه اول

هفتم	هشتم	نهم
------	------	-----

## متوسطه دوم

دهم	یازدهم	دوازدهم
-----	--------	---------