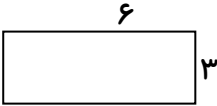


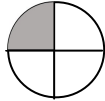


۱	جمع و تفریق زیر را انجام دهید.	$\begin{array}{r} 4780 \\ + 3422 \\ \hline \end{array}$	$\begin{array}{r} 1450 \\ - 999 \\ \hline \end{array}$					
۲	ضرب و تقسیم های زیر را انجام دهید.	$\begin{array}{r} 703 \\ \times 9 \\ \hline \end{array}$	$\begin{array}{r} 538 \\ \times 4 \\ \hline \end{array}$	$\begin{array}{r} 24 \\ 4 \\ \hline \end{array}$	$\begin{array}{r} 56 \\ 8 \\ \hline \end{array}$			
۳	مساحت شکل های زیر را بدست آورید.							
۴	دور اعداد زوج خط بکشید.	۷	۱۳	۲۱	۸۰	۳۶	۴۵	۶۲
۵	۷ کیلومتر چند متر است؟ ثلث ۱۸ چه عددی می باشد؟	۸۹۰۰ گرم چند کیلوگرم و چند گرم است؟ اگر شعاع دایره ای ۴ سانتی متر باشد قطر آن چقدر می شود؟				
۶	جواب ضرب و تقسیم های زیر را بنویسید.	$(5 \times 6) + 5 = \dots\dots\dots$ $(7 \times 4) + 8 = \dots\dots\dots$ $54 \div 6 = \dots\dots\dots$	$24 \div 8 = \dots\dots\dots$ $18 \div 3 = \dots\dots\dots$ $72 \div 8 = \dots\dots\dots$	$(6 \times 7 \times 0) = \dots\dots\dots$				
۷	در هر یک از مربع های زیر یکی از نماد $< = >$ را که مناسب است قرار دهید.	$5421 - 42$ <input type="checkbox"/> 524	$3 + 21$ <input type="checkbox"/> $6 + 18$					
۸	عدد زیر را به رقم و حروف بنویسید. پنج هزار و چهارصد و بیست هزار و صد و بیست و پنج ۷۰۹۰۸۰					
۹	کسر رنگی مربوط به هر کسر را بنویسید.							
۱۰	مادر محسن خیاطی می کند. او برای هر پیراهن ۵ دکمه می دوزد. برای ۷ پیراهن به چند تا دکمه نیاز دارد؟						
۱۱	۴ یکی و ۶ ده تایی و ۷ صدتایی و ۳ هزار تایی می شود						

پیاموز | Biamoz.com

بزرگترین مرجع آموزشی و نمونه سوالات درسی تمامی مقاطع

شامل انواع | نمونه سوالات | فصل به فصل | پایان ترم | جزوه |

ویدئوهای آموزشی | گام به گام | طرح درس | طرح جابر | و ...

اینستاگرام

گروه تلگرام

کانال تلگرام

برای ورود به هر پایه در سایت ما روی اسم آن کلیک کنید

دبستان

اول	دوم	سوم	چهارم	پنجم	ششم
-----	-----	-----	-------	------	-----

متوسطه اول

هفتم	هشتم	نهم
------	------	-----

متوسطه دوم

دهم	یازدهم	دوازدهم
-----	--------	---------