

به نام خدا

پایه ی سوم

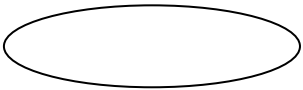
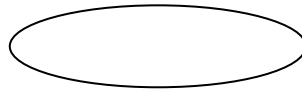



سازمان آموزش و پرورش استان

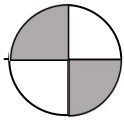

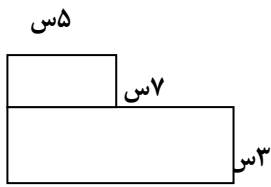
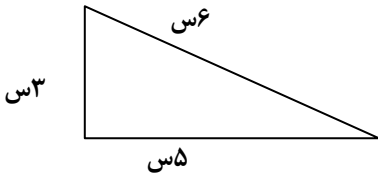

نام و نام خانوادگی :

وقت :

نام پدر :

نوبت دوم

۱	با عدد و با حروف بنویسید . <table border="1" style="margin: 10px auto;"><tr><td>۴۵۰۳۹۶.....</td></tr><tr><td>سیصد و چهل و نه هزار و سه</td></tr></table>	۴۵۰۳۹۶.....	سیصد و چهل و نه هزار و سه	۱
۴۵۰۳۹۶.....				
سیصد و چهل و نه هزار و سه				
۲	در جاهای خالی عدد مناسب بنویسید. ۸ کیلومتر برابر است با متر . ۳ کیلوگرم برابر است با گرم عدد ۹۰۶۴ برابر است با یکی و ده تایی و صدتایی و هزار تایی ۵ متر برابر است با میلیمتر ۹ سانتی متر برابر است با میلیمتر	۲		
۱/۲۵	علامت < = > بگذارید . $\frac{1}{5} \bigcirc \frac{1}{6}$ $\frac{2}{6} \bigcirc \frac{3}{6}$ $600 - 401 \bigcirc 500 - 201$ $78 + 610 \bigcirc 875 - 169$ $4 \times 6 \bigcirc 5 \times 4$	۳		
۱	با رقم های (۵ ، ۴ ، ۰ ، ۲) بزرگترین و کوچکترین عدد چهار رقمی بنویس . بزرگترین :  کوچکترین : 	۴		
۲/۲۵	برای شکل رو به رو یک ضرب و دو تقسیم بنویسید .    ضرب : تقسیم : تقسیم : تقسیم :	۵		
۲/۵	عملیات زیر را انجام دهید . 362 $\times 5$ ----- $18 \div 6 = \dots\dots\dots$ $9 \times 0 = \dots\dots\dots$ $5 \div 5 = \dots\dots\dots$ $6 \times 8 = \dots\dots\dots$ $7 \div 1 = \dots\dots\dots$ $0 \div 3 = \dots\dots\dots$ $5 \times 9 = \dots\dots\dots$ $17 \times 100 = \dots\dots\dots$	۶		

۱	یک خط متقاطع و یک خط موازی رسم کنید .	۷		
۰/۵	 <p>چه کسری از شکل رنگی است .</p>	۸		
۰/۵	<p>کدام یک از شکل های زیر خط تقارن ندارد .</p> 	۹		
۱/۷۵	<p>مساحت شکل رو به رو را بدست آورید .</p> 	۱۰		
۱/۲۵	<p>شکل زیر چند ضلعی است . محیط آن را بدست آورید .</p> 	۱۱		
۱	زنگ مدرسه ایی ساعت ۵ بعد از ظهر می خورد . در چه ساعتی زنگ می خورد ؟	۱۲		
۱	برای خرید ۹ ورق کاغذ ۴۵ تومان پول داده ایم . کاغذ ورقی چند تومان بوده است .	۱۳		
۱	کلاسی ۳۲ نفر دانش آموز دارد . هر کدام ۳ جلد کتاب به کتابخانه هدیه کرده اند . این دانش آموزان چند جلد کتاب به مدرسه هدیه کرده اند ؟	۱۴		
۰/۵	<p>ساعت رو به رو چه ساعتی را نشان می دهد ؟</p> 	۱۵		
۱/۵	<p>تقسیم های زیر را انجام دهید و خارج قسمت و باقیمانده را بنویسید .</p> <table style="width: 100%; border: none;"> <tr> <td style="text-align: center;"> $\begin{array}{r} 39 \\ \\ 7 \end{array}$ <p>خارج قسمت :</p> <p>باقیمانده :</p> </td> <td style="text-align: center;"> $\begin{array}{r} 82 \\ \\ 9 \end{array}$ <p>خارج قسمت :</p> <p>باقیمانده :</p> </td> </tr> </table>	$\begin{array}{r} 39 \\ \\ 7 \end{array}$ <p>خارج قسمت :</p> <p>باقیمانده :</p>	$\begin{array}{r} 82 \\ \\ 9 \end{array}$ <p>خارج قسمت :</p> <p>باقیمانده :</p>	۱۶
$\begin{array}{r} 39 \\ \\ 7 \end{array}$ <p>خارج قسمت :</p> <p>باقیمانده :</p>	$\begin{array}{r} 82 \\ \\ 9 \end{array}$ <p>خارج قسمت :</p> <p>باقیمانده :</p>			

موفق باشید

پیاموز | Biamoz.com

بزرگترین مرجع آموزشی و نمونه سوالات درسی تمامی مقاطع

شامل انواع | نمونه سوالات | فصل به فصل | پایان ترم | جزوه |

ویدئوهای آموزشی | گام به گام | طرح درس | طرح جابر | و ...

اینستاگرام

گروه تلگرام

کانال تلگرام

برای ورود به هر پایه در سایت ما روی اسم آن کلیک کنید

دبستان

اول	دوم	سوم	چهارم	پنجم	ششم
-----	-----	-----	-------	------	-----

متوسطه اول

هفتم	هشتم	نهم
------	------	-----

متوسطه دوم

دهم	یازدهم	دوازدهم
-----	--------	---------