



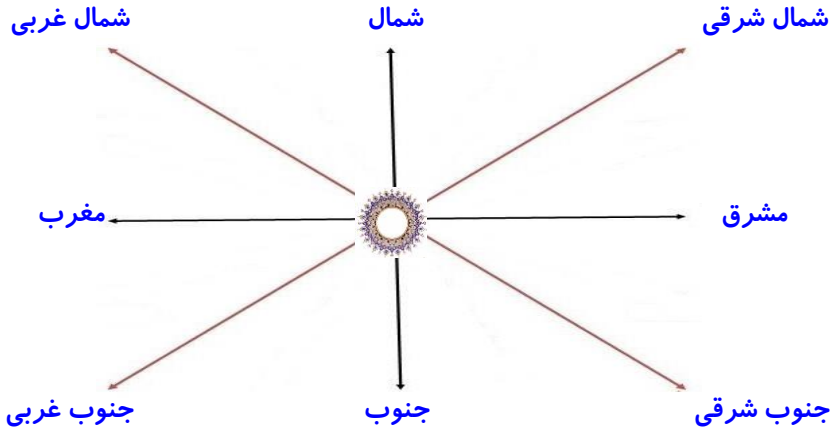


بارم	شرح سوالات	ردیف
	<p>صحیح و غلط بودن هریک از موارد زیر را مشخص کنید.</p> <p>✘ امکانات خصوصی برای استفاده ی همه ی مردم است.</p> <p>✘ اداره ی روستا برعهده ی شورای اسلامی روستا و دهیار است.</p> <p>ص <input type="checkbox"/> غ <input checked="" type="checkbox"/></p> <p>ص <input checked="" type="checkbox"/> غ <input type="checkbox"/></p>	۱
	<p>موارد نوشته شده در ستون وسط را با دو طرف آن جور کنید.</p> <p>کورش حکومت مادها</p> <p>انوشیروان حکومت ساسانیان</p> <p>مهرداد حکومت اشکانیان</p> <p>دیا اکو حکومت هخامنشیان</p> <p>جنگ با سلوکیان</p> <p>تخت جمشید</p> <p>جنگ با آشوریان</p> <p>جنگ با مسلمانان</p>	۲
	<p>کدام موجودغذای دیگری هست ؟ از شروع زنجیره غذایی به ترتیب شماره گذاری کنید و با فلش به طور مناسب به هم وصل کنید.</p> <p>(۱)  (۲)  (۳) </p>	۳
	<p>کدام یک از موارد زیر تعطیل ملی است؟</p> <p>الف : عیدفطر <input type="checkbox"/> ب : عیدمبعث <input type="checkbox"/> ج : عیدنوروز <input checked="" type="checkbox"/> د : عیدقربان <input type="checkbox"/></p>	۴
	<p>مهم ترین وسیله دریادگیری جغرافیاچه نام دارد؟</p> <p>الف : رایانه <input type="checkbox"/> ب : کره ی جغرافیایی <input type="checkbox"/> ج : عکس <input type="checkbox"/> د : نقشه <input checked="" type="checkbox"/></p>	۵
	<p>((اگر می خواهید خداوپیامبرشمارا دوست داشته باشد امانت دار و راستگو باشید.)) این سخن از کیست؟</p> <p>الف : امام خمینی <input type="checkbox"/> ب : حضرت محمد(ص) <input checked="" type="checkbox"/> ج : امام خامنه ای <input type="checkbox"/> د : حضرت علی(ع) <input type="checkbox"/></p>	۶
	<p>نام قسمت های خواسته شده را بنویسید.</p> <p></p>	۷

ادامه سؤالات آزمون

بارم	شرح سؤالات	ردیف
	<p>جاهای خالی را با کلمات مناسب پر کنید.</p> <p>❁ کتاب دینی زرتشتیان اوستا نام دارد.</p> <p>❁ مهم ترین پرستشگاه در زمان ایلامی ها چغازنبیل نام داشت.</p> <p>❁ اولین روستاها در کنار رودها و چشمه ها به وجود آمدند.</p> <p>❁ قبل از پیدایش پول داد و ستد به صورت مبادله ی کالابه کالا انجام می شد.</p> <p>❁ سه پایه ی اصلی دین زرتشت گفتار نیک و کردار نیک و پندار نیک بودند.</p>	۸
	<p>در تصویر داده شده، چهار جهت اصلی و فرعی خوانده شده در اجتماعی چهارم را در جای مناسب خود بنویسید.</p> <div style="text-align: center;">  </div>	۹
	<p>علل ضعف مادها چه بود؟ باهم متحد نبودند - سپاه منظمی نداشتند</p>	۱۰
	<p>چرا آثار تاریخی با ارزش هستند؟ زیرا این آثار و اشیاء، اطلاعات بسیاری درباره ی زندگی گذشتگان نشان می دهند.</p>	۱۱
	<p>راهنمای نقشه چه کمکی به ما می کند؟ راهنمای نقشه به ما کمک می کند که معنای رنگ ها و علامت های روی نقشه را بفهمیم.</p>	۱۲
	<p>چهار مورد از ویژگی تمدن ها را بنویسید. خط - آثاری - عقاید مذهبی - دادوستد</p>	۱۳
	<p>مردم ایران در چه چیزهایی مشترک هستند؟ قانون اساسی، پرچم، سرود ملی، تقویم</p>	۱۴
	<p>چهار مورد از کارهای مهم داریوش را بنویسید. تعیین شهربان، ساختن راه ها، ساختن سگه ی طلا، ایجاد سپاه جاویدان</p>	۱۵
	<p>مهم ترین مشکلات انسان های نخستین چه بود؟ تهیه غذا - تهیه مسکن - تامین امنیت - نبود ابزار و وسایل لازم</p>	۱۶
	<p>کشاورزی چه اهمیتی در زندگی انسان های گذشته داشت؟ بارواج کشاورزی مواد غذایی به اندازه ی کافی تولید و ذخیره می شد.</p>	۱۷

بارم	شرح سوالات	ردیف
	روز جمعه مخصوص چه کاری است؟ (چهارمورد) گردش، تفریح، استراحت، شرکت در نماز جمعه، نظافت	۱۸
	ترتیب پیدایش حکومت ها بعد از ورود آریایی ها تا ورود اسلام به ایران را بنویسید.	۱۹
		
	سلوکیان بعد از حاکم شدن بر ایران چه کردند؟ سلوکیان سعی کردند آداب و رسوم و خط و زبان یونانی را در ایران رواج دهند.	۲۰
	دومورد از تغییرات محله ها را بنویسید. مردم برای زندگی به جای دیگری می روند و افراد دیگری جای آن ها را می گیرند- شکل و نوع ساختمان ها و فعالیت ها نیز تغییر می کند.	۲۱
	مفاهیم زیر را تعریف کنید. دما: به میزان سردی و گرمی هوا گفته می شود. جدول بودجه: به جدولی که در آن درآمد، هزینه و پس انداز آمده باشد جدول بودجه می گویند. زیستگاه: هر موجود زنده ای در ناحیه ی خاصی زندگی می کند که زیستگاه آن موجود نامیده می شود. جلگه: وقتی رودها به طرف دریا می روند آبرفت فراوانی را که با خود آورده اند در نزدیکی دریا ته نشین می کنند؛ این آبرفت ها روی هم انباشته می شوند و پس از گذشته سال ها زمین های حاصل خیزی پدید می آورند که جلگه نامیده می شود. استان: کشور ما را برای اداره ی بهتر به قسمت های بزرگی تقسیم کرده اند که به هر یک از این قسمت ها استان می گویند.	۲۲
	<p>ناحیه آب و هوایی معتدل و نیمه خشک کوهستانی را قهوه ای رنگ کرده و ویژگی های آب و هوایی و پوشش گیاهی این ناحیه را بنویسید.</p> <p>(آب و هوا): در بیش تر ماه های سال هوا سرد بوده و برف زیاد می بارد.</p> <p>تابستان معتدل دارد. بارش مناسب ولی کم تر از ناحیه ی خزری است.</p> <p>(پوشش گیاهی): در قله های بلند کوه ها به دلیل برف و سرما و یخبندان گیاهان نمی توانند برویند ولی در دامنه ها جنگل های وسیع بلوط و پسته ی کوهی وجود دارد همچنین مراتع سرسبز دامنه ها، چراگاه گوسفندان است.</p>	۲۳

ادامه سؤالات آزمون

	ردیف	شرح سؤالات	بارم
	۲۴	علل پیدایش خط چه بود؟ رونق دادوستد و نیاز انسان به نوشتن قراردادها و نگه داشتن بعضی اطلاعات زمینه را برای اختراع خط فراهم کرد.	
	۲۵	دانش جغرافیا چه کمکی به ما می کند؟ دانش جغرافیا به کمک می کند که محیط زندگی خود و محیط های دیگر را بشناسیم و از چگونگی زندگی مردم در مکان های مختلف آگاه شویم.	
	۲۶	چرا بیش تر روستاها و شهرها کنار رودها پدید آمدند؟ زیرا آب کافی برای نوشیدن، پختن غذا، رعایت بهداشت و کشاورزی و باغ داری و... وجود داشت.	
	۲۷	کدام هنرها در زمان ساسانیان پیشرفت کردند؟ معماری و سنگ تراشی چرا؟ زیرا هنرمندان رویدادهای مهم مانند پیروزی ها را به یادگار روی سنگ های بزرگ کوه ها می کردند.	
	۲۸	علل ضعف ساسانیان در اواخر حکومت چه بود؟ (دو مورد) مردم مجبور به دادن مالیات بیش تر برای تامین هزینه ی جنگ با رومی ها بودند. از امتیازات بزرگان مانند آموزش و سواد محروم بودند. پادشاهان به خوشگذرانی مشغول بوده و به مردم توجه نداشتند. سپاهیان به دلیل جنگ های متعدد ضعیف شده بودند. بنابراین مردم ناراضی بودند.	
	۲۹	کدام ویژگی های شتر باعث شده تا بتواند به خوبی در ناحیه ی گرم و خشک زندگی کند؟ (دو مورد) کوهانش؛ زیرا عضوی است که در آن آب و غذا ذخیره می کند. ب) مژه های بلند و پلک های بزرگ شتر؛ زیرا از چشمان شتر در برابر توفان شن و تابش آفتاب محافظت می کند. ج) دهان شتر؛ زیرا به گونه ای است که می تواند گیاهان خاردار را جویده و بخورد. د) پایهای شتر؛ زیرا پهن هستند و این حیوان به راحتی می تواند روی شن های نرم و ریزیبابان حرکت کند و در آن فرو نمی رود.	
	۳۰	چرا مردم ایران علیه حکومت شاهنشاهی انقلاب کردند؟ چه شعار مهمی سر می دادند؟ و نتیجه ی انقلاب آن ها چه شد؟ زیرا از ظلم و ستم حکومت شاهنشاهی جان به لب شده بودند و می خواستند کشور ما به بیگانگان وابسته نباشد بنابراین انقلاب کرده و شعار ((استقلال، آزادی، جمهوری اسلامی)) سردادند و با فداکاری های خود پس از سال ها تلاش، در روز ۲۲ بهمن سال ۱۳۵۷ به پیروزی رسیدند.	

باز خورد آموزگار :

((موفق باشید.))

((تازمانی که زمامداران و گدایانی باشند که می خواهند از این راه کسب درآمد کنند جامعه درستکار نخواهد بود.)) **افلاطون**

پیاموز | Biamoz.com

بزرگترین مرجع آموزشی و نمونه سوالات درسی تمامی مقاطع

شامل انواع | نمونه سوالات | فصل به فصل | پایان ترم | جزوه |

ویدئوهای آموزشی | گام به گام | طرح درس | طرح جابر | و ...

اینستاگرام

گروه تلگرام

کانال تلگرام

برای ورود به هر پایه در سایت ما روی اسم آن کلیک کنید

دبستان

اول	دوم	سوم	چهارم	پنجم	ششم
-----	-----	-----	-------	------	-----

متوسطه اول

هفتم	هشتم	نهم
------	------	-----

متوسطه دوم

دهم	یازدهم	دوازدهم
-----	--------	---------