
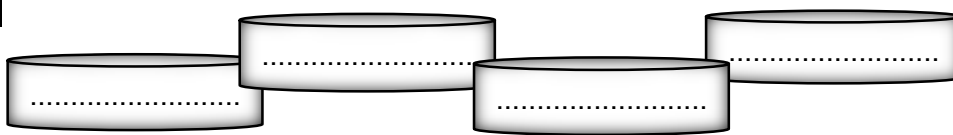
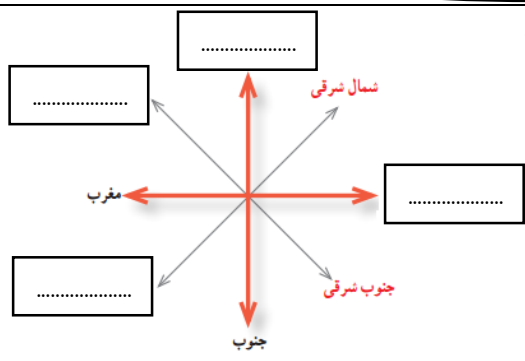



تاریخ امتحان: تاریخ تصحیح: <table border="1"> <tr> <td>عملکرد</td> <td>خ</td> <td>خ</td> <td>ق</td> <td>ق</td> <td>ن</td> </tr> <tr> <td></td> <td></td> <td></td> <td></td> <td></td> <td></td> </tr> </table> نام و امضاء آموزگار:	عملکرد	خ	خ	ق	ق	ن							به نام خالق زیبایی ها امتحان درس مطالعات اجتماعی پایه چهارم ابتدایی نوبت دوم	نام خانوادگی: نام پدر: نام آموزگار: مدت آزمون: ۷۰ دقیقه تعداد صفحه: ۲
عملکرد	خ	خ	ق	ق	ن									

ردیف	سوالات	عملکرد										
		خ	خ	ق	ق	ن						
۱	درست یا نادرست بودن هر یک از عبارات زیر را بنویس. - برای تهیه ی نقشه، از عکس هوایی استفاده می کنند. <input type="text"/> - شهرهای بزرگ، شهرهای هستند که جمعیت کمتر از یک میلیون را دارند. <input type="text"/> - معماری اصلی تخت جمشید را اقوام پارسی انجام داده اند. <input type="text"/> - فقط گیاهان در زندگی انسان نقش مهمی دارند. <input type="text"/>	<table border="1"> <tr> <td>خ</td> <td>خ</td> <td>ق</td> <td>ق</td> <td>ن</td> </tr> <tr> <td></td> <td></td> <td></td> <td></td> <td></td> </tr> </table>	خ	خ	ق	ق	ن					
خ	خ	ق	ق	ن								
۲	با توجه به عبارات کلمات مناسب را انتخاب کن. - شغل اصلی عشایر (دامپروری - دامداری) است. - (مادها - پارس ها) در غرب ایران ساکن شدند و با آشوری ها همسایه بودند. - روز (نوروز - عید فطر) در همه ی کشورهای اسلامی تعطیل می باشد. - جلگه ی (مازندران - خوزستان) پهناورترین جلگه ی ایران است.	<table border="1"> <tr> <td>خ</td> <td>خ</td> <td>ق</td> <td>ق</td> <td>ن</td> </tr> <tr> <td></td> <td></td> <td></td> <td></td> <td></td> </tr> </table>	خ	خ	ق	ق	ن					
خ	خ	ق	ق	ن								
۳	گزینه درست را انتخاب کن. - فروانرویان برای برقراری نظم در سرزمین خود چه چیزی را بوجود آوردند. ۱- خط <input type="radio"/> ۲-قانون <input type="radio"/> ۳-دادوستد <input type="radio"/> ۴- تقسیم کار <input type="radio"/> - نوشته های روی کوه نزدیک گنج نامه مربوط به چه دوره ای می باشند. ۱- هخامنشیان <input type="radio"/> ۲- اشکانیان <input type="radio"/> ۳- ساسانیان <input type="radio"/> ۴- سلوکیان <input type="radio"/> - حکومت هخامنشیان به دست چه کسی از بین رفت؟ ۱- دیاکو <input type="radio"/> ۲- ساسان <input type="radio"/> ۳- اسکندر مقدونی <input type="radio"/> ۴- کراسوس <input type="radio"/> - پربارش ترین ناحیه ی آب و هوایی ایران کدام ناحیه می باشد؟ ۱- کوهستانی <input type="radio"/> ۲- خزری <input type="radio"/> ۳- گرم و خشک <input type="radio"/> ۴- شرجی جنوب <input type="radio"/> - مهمترین وسیله مطالعه در جغرافیا چیست؟ ۱- نقشه <input type="radio"/> ۲- عکس <input type="radio"/> ۳- فیلم <input type="radio"/> ۴- کره جغرافیایی <input type="radio"/>	<table border="1"> <tr> <td>خ</td> <td>خ</td> <td>ق</td> <td>ق</td> <td>ن</td> </tr> <tr> <td></td> <td></td> <td></td> <td></td> <td></td> </tr> </table>	خ	خ	ق	ق	ن					
خ	خ	ق	ق	ن								
۴	در جاهای خالی کلمات مناسب بنویس. - جنگل و در ناحیه معتدل خزری وجود دارد. - در گذشته وسیله ی اصلی رفت و آمد ساکنان نواحی گرم و خشک بوده است. - مهم ترین وسیله ارتباط میان شهرها ، روستاها و پایتخت بود. - به پولی که برای خرید کالاهای مورد نیاز خرج می کنند می گویند.	<table border="1"> <tr> <td>خ</td> <td>خ</td> <td>ق</td> <td>ق</td> <td>ن</td> </tr> <tr> <td></td> <td></td> <td></td> <td></td> <td></td> </tr> </table>	خ	خ	ق	ق	ن					
خ	خ	ق	ق	ن								
۵	به سوالات زیر پاسخ کوتاه بده. - بالاترین نقطه روی کره زمین؟..... - اولین ابزارهای انسان در گذشته بود؟..... - پیش از خط میخی، ایلامی ها از کدام خط استفاده می کردند؟..... - مهم ترین و طولانی ترین راه دوره هخامنشیان بود؟.....	<table border="1"> <tr> <td>خ</td> <td>خ</td> <td>ق</td> <td>ق</td> <td>ن</td> </tr> <tr> <td></td> <td></td> <td></td> <td></td> <td></td> </tr> </table>	خ	خ	ق	ق	ن					
خ	خ	ق	ق	ن								

تاریخ امتحان: / تاریخ تصحیح: / <table border="1"> <tr> <td>عملکرد</td> <td>خ</td> <td>خ</td> <td>ق</td> <td>ق</td> <td>ن</td> </tr> <tr> <td>نام و امضاء آموزگار:</td> <td></td> <td></td> <td></td> <td></td> <td></td> </tr> </table>	عملکرد	خ	خ	ق	ق	ن	نام و امضاء آموزگار:						به نام خالق زیبایی ها امتحان درس مطالعات اجتماعی پایه چهارم	نام خانوادگی: نام پدر: نام آموزگار: مدت آزمون: ۷۰ دقیقه تعداد صفحه: ۲
عملکرد	خ	خ	ق	ق	ن									
نام و امضاء آموزگار:														

ردیف	سوالات	عملکرد										
۶	سه پایه اصلی دین زرتشت را بنویس. 	<table border="1"> <tr> <td>خ</td> <td>خ</td> <td>ق</td> <td>ق</td> <td>ن</td> </tr> <tr> <td></td> <td></td> <td></td> <td></td> <td></td> </tr> </table>	خ	خ	ق	ق	ن					
خ	خ	ق	ق	ن								
۷	شماره هر عبارت را داخل دایره مناسب هر کلمه بنویس. - به بلندترین نقطه کوه - به پستی و بلندبهای زمین - به زمین های پایین کوه - به زمین های صاف و هموار <input type="radio"/> رشته کوه <input type="radio"/> دشت <input type="radio"/> قله <input type="radio"/> ناهمواری <input type="radio"/> کوهپایه	<table border="1"> <tr> <td>خ</td> <td>خ</td> <td>ق</td> <td>ق</td> <td>ن</td> </tr> <tr> <td></td> <td></td> <td></td> <td></td> <td></td> </tr> </table>	خ	خ	ق	ق	ن					
خ	خ	ق	ق	ن								
۸	۳ مورد از اقدامات مهم داریوش را نام ببر؟ ۱: ۲: ۳:	<table border="1"> <tr> <td>خ</td> <td>خ</td> <td>ق</td> <td>ق</td> <td>ن</td> </tr> <tr> <td></td> <td></td> <td></td> <td></td> <td></td> </tr> </table>	خ	خ	ق	ق	ن					
خ	خ	ق	ق	ن								
۹	اصطلاحات زیر را تعریف کن. - محله: - قطب نما: - زیستگاه:	<table border="1"> <tr> <td>خ</td> <td>خ</td> <td>ق</td> <td>ق</td> <td>ن</td> </tr> <tr> <td></td> <td></td> <td></td> <td></td> <td></td> </tr> </table>	خ	خ	ق	ق	ن					
خ	خ	ق	ق	ن								
۱۰	۴ مورد از ویژگی های مشترک کشور ایران را بنویس. 	<table border="1"> <tr> <td>خ</td> <td>خ</td> <td>ق</td> <td>ق</td> <td>ن</td> </tr> <tr> <td></td> <td></td> <td></td> <td></td> <td></td> </tr> </table>	خ	خ	ق	ق	ن					
خ	خ	ق	ق	ن								
۱۱	با توجه به جهت های اصلی و فرعی در داخل کادرها، جهت های مناسبی بنویس. 	<table border="1"> <tr> <td>خ</td> <td>خ</td> <td>ق</td> <td>ق</td> <td>ن</td> </tr> <tr> <td></td> <td></td> <td></td> <td></td> <td></td> </tr> </table>	خ	خ	ق	ق	ن					
خ	خ	ق	ق	ن								
۱۲	با توجه به تصاویر، هر کدام از ویژگی های تمدن را زیر آن بنویس. 	<table border="1"> <tr> <td>خ</td> <td>خ</td> <td>ق</td> <td>ق</td> <td>ن</td> </tr> <tr> <td></td> <td></td> <td></td> <td></td> <td></td> </tr> </table>	خ	خ	ق	ق	ن					
خ	خ	ق	ق	ن								
۱۳	به چه جانورانی گوشت خوار می گویند؟ جواب:	<table border="1"> <tr> <td>خ</td> <td>خ</td> <td>ق</td> <td>ق</td> <td>ن</td> </tr> <tr> <td></td> <td></td> <td></td> <td></td> <td></td> </tr> </table>	خ	خ	ق	ق	ن					
خ	خ	ق	ق	ن								

تاریخ امتحان: / تاریخ تصحیح: / <table border="1"> <tr> <td>عملکرد</td> <td>خ</td> <td>خ</td> <td>ق</td> <td>ق</td> <td>ن</td> </tr> <tr> <td></td> <td></td> <td></td> <td></td> <td></td> <td></td> </tr> </table> نام و امضاء آموزگار:	عملکرد	خ	خ	ق	ق	ن							به نام خالق زیبایی ها اداره کل آموزش و پرورش استان کردستان اداره آموزش و پرورش منطقه موجش دبستان شهید مدرس نجف آباد امتحان درس مطالعات اجتماعی پایه چهارم ابتدایی نوبت دوم (خردادماه ۹۵)	نام خانوادگی: نام پدر: نام آموزگار: مدت آزمون: ۷۰ دقیقه تعداد صفحه: ۲
عملکرد	خ	خ	ق	ق	ن									

ردیف	سوالات	عملکرد				
		خ	خ	ق	ق	ن
۱	چرا مادها نمی توانستند جلو حملات آشوری ها را بگیرند؟ زیرا:					
۲	با توجه به نقشه به سوالات زیر پاسخ بده. ۱- نام دو جلگه ایران: و ۲- دشت: ۳- قله: ۴- رشته کوه:					

موفق و سربلند باشید گل های خوبم.