







نهم خانوادگی:		پایه چهارم:		ارزشیاب ریاضی:	
الف (پسران گلم : جواب صحیح را علامت بزیند					
ارزش بزرگترین رقم در عدد 586024 کدام است ؟					
الف (یکان هزار) <input type="radio"/> (ب) صدگان <input type="radio"/> (ج) دهگان هزار <input type="radio"/> (د) صدگان هزار <input type="radio"/>					
کسر مساوی $\frac{36}{72}$ کدام است؟					
الف ($\frac{1}{2}$) <input type="radio"/> (ب) $\frac{4}{8}$ <input type="radio"/> (ج) $\frac{6}{9}$ <input type="radio"/> (د) گزینه های الف و ب <input type="radio"/>					
مقسوم علیه تقسیمی عدد ۸ می باشد. باقی مانده کدام عدد نمی تواند باشد ؟					
الف (۳) <input type="radio"/> (ب) ۶ <input type="radio"/> (ج) ۸ <input type="radio"/> (د) ۰ <input type="radio"/>					
ب) جاهای خالی را با کلمات و اعداد مناسب کامل کنید.					
یک تُن برابر کیلوگرم است.					
به جواب تقسیم گفته می شود .					
$\frac{1}{3}$ یعنی همان					
سی هزار تا هزار تا است.					
ج) درستی یا نادرستی عبارات زیر را مشخص کنید.					
$\frac{4}{7}$ یعنی ۲ تا $\frac{2}{7}$ <input type="radio"/>					
عدد ۴۹ بر ۳ بخش پذیر است <input type="radio"/>					
د) با دقت به سوالات زیر پاسخ دهید.					
الگوی عددی زیر را ادامه دهید و رابطه بین اعداد را توضیح دهید.					
رابطه :					
3 → 6 → 18 → ---- → ----					
با توجه به عدد 16085493 به سوالات زیر پاسخ دهید.					
الف) عدد را به حروف بنویسید.					
ب) ارزش مکانی کوچک ترین رقم را بنویسید.					
ج) رقم ۶ در چه مرتبه ای قرار دارد؟					

	<p>حاصل عبارتهای زیر را بدست آورید.</p> $\frac{4}{5} - \frac{2}{5} =$ $\frac{3}{6} + \frac{2}{12} =$ $6 \times \frac{7}{100} =$ $2 \times \frac{1}{5} + 3 \times \frac{1}{15} =$	-۶
	<p>برای کسر و عدد مخلوط داده شده شکل بکشید.</p> $\frac{3}{5}$ $3\frac{2}{4}$	-۷
	<p>حاصل جمع و تفریق زیر را با کمک محور بدست آورید.</p> $\frac{3}{9} + \frac{5}{9} =$  $\frac{5}{7} - \frac{2}{7} =$ 	-۸
	<p>با توجه به کاری که هر ماشین انجام می دهد. عدد های خروجی را پیدا کنید و بنویسید.</p> $5 \xrightarrow{\quad} \xrightarrow{\quad} \boxed{\quad}$ $9 \xrightarrow{\times 7} \xrightarrow{-3} \boxed{\quad}$	-۹
	<p>اعداد زیر را با هم مقایسه کنید.</p> $38560 \bigcirc 38650$ $520053 \bigcirc 53802$ $\frac{2}{5} \bigcirc \frac{3}{15}$ $\frac{2}{4} \bigcirc \frac{2}{3}$	-۱۰
	<p>الف) ساعت یک و $\frac{1}{5}$ ساعت یعنی چند دقیقه ؟ ب) دو کسر مساوی با $\frac{9}{12}$ بنویسید؟</p>	-۱۱
	<p>در یک مزرعه کاهو ، ۴۶ ردیف کاهو کاشته شده است و در هر ردیف ۶۳ کاهو قرار گرفته است. این مزرعه به طور تقریبی چند کاهو دارد؟</p> 	-۱۲
	<p>نقاشی $\frac{9}{12}$ اتاقی را رنگ کرده است . او $\frac{3}{12}$ از این اتاق آبی ، $\frac{2}{12}$ آنرا قرمز و بقیه را زرد رنگ کرده است . چه کسری از اتاق قرمز و آبی رنگ شده است ؟ چه کسری به رنگ زرد در آمده است؟</p>	-۱۳
	<p>یک کشاورز ۹۵۰ کیلوگرم محصول را بطور مساوی در ۱۹ کیسه ریخته است . در هر کیسه چند کیلوگرم برنج ریخته است؟</p> 	۱۳

	<p>زهرا ۱۱ سال دارد سن مادر زهرا از ۳ برابر سن او ۶ سال بیش تر است . مادر زهرا چند سال دارد؟</p>	۱۴
$\begin{array}{r} ۳۰۴ \\ \times ۴۳ \\ \hline \end{array}$	<p>حاصل ضرب های زیر را به روش های خواسته شده حساب کنید. (مساحتی)</p> $\begin{array}{r l} ۱۸ & \\ \times ۱۳ & \\ \hline \end{array}$ <p>تکنیکی</p>	۱۵
$\begin{array}{r l} & ۹ \\ ۴۶۳ & \\ \hline \end{array}$	<p>تقسیم های زیر را انجام دهید و سپس رابطه درستی آن ها را بنویسید.</p> $\begin{array}{r l} & ۷۸ \\ ۳۴۵۶ & \\ \hline \end{array}$	۱۶

باز خورد معلم :

نظر والدین گرامی :

پیاموز | Biamoz.com

بزرگترین مرجع آموزشی و نمونه سوالات درسی تمامی مقاطع

شامل انواع | نمونه سوالات | فصل به فصل | پایان ترم | جزوه |

ویدئوهای آموزشی | گام به گام | طرح درس | طرح جابر | و ...

اینستاگرام

گروه تلگرام

کانال تلگرام

برای ورود به هر پایه در سایت ما روی اسم آن کلیک کنید

دبستان

اول	دوم	سوم	چهارم	پنجم	ششم
-----	-----	-----	-------	------	-----

متوسطه اول

هفتم	هشتم	نهم
------	------	-----

متوسطه دوم

دهم	یازدهم	دوازدهم
-----	--------	---------