

آزمون پایانی ریاضی پایه چهارم دبستان

نام: نام خانوادگی: نام آموزگار: تاریخ: /.../...

۹۵۷۱۲۵۶۴

۱ - با توجه به عدد مقابل ، به سوال های زیر پاسخ دهید :

الف (این عدد را با حروف بنویسید :

ب (این عدد را با تقریب هزارگان بنویسید :

ج (بزرگترین رقم در چه مرتبه ای قرار دارد :

د (رقم صدگان هزار آن چند است :

۵۷۴۶۱۲

۸۸۹۶۵

۲ - حاصل جمع و تفریق های زیر را بدست آورید :

+ ۴۳۸۸۲

- ۷۵۵۸۲

۳ - حاصل عبارت های زیر را به دست آورید :

$$\left(2 \times \frac{2}{5}\right) - \left(3 \times \frac{1}{5}\right) =$$

$$4 \times \frac{2}{10} - \frac{1}{5} =$$

۵ - می خواهیم شش بسته ی ۱۲ تایی مداد را به طور مساوی بین ۹ نفر تقسیم کنیم . به هر نفر چند مداد می رسد ؟

.....

۴۲۸

۳۶۷۲

$$\begin{array}{r} 36 \\ \hline \end{array}$$

۶ - الف (حاصل ضرب و تقسیم های زیر را بدست آورید :

× ۳۲۰

ب (رابطه ی درستی تقسیم را به دست آورید .

۷ - با توجه به شکل به سوال های زیر پاسخ صحیح بدهید .

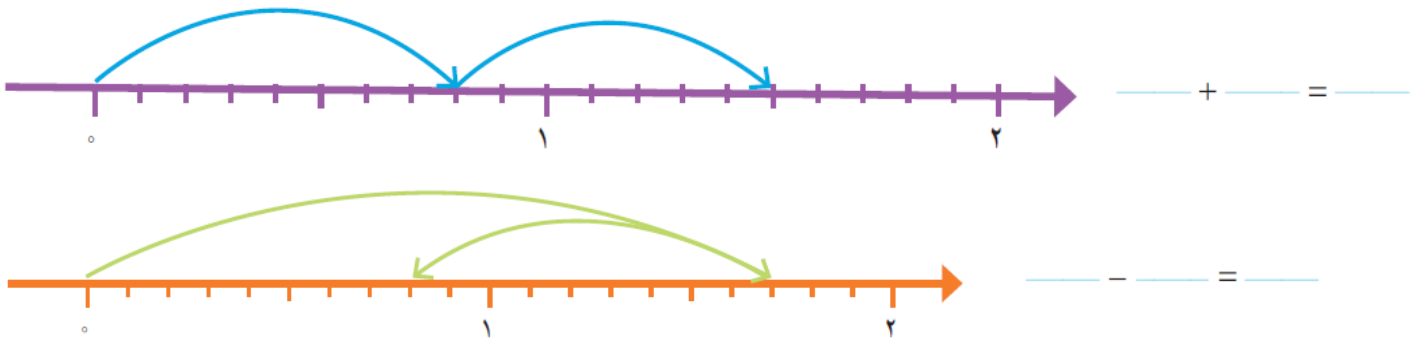


طول نوار (آ) چند برابر طول نوار (ب) است؟



طول نوار (ب) چه کسری از نوار (آ) است؟

۸ - برای هر محور جمع یا تفریق اعشاری بنویسید :

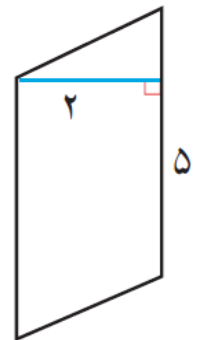
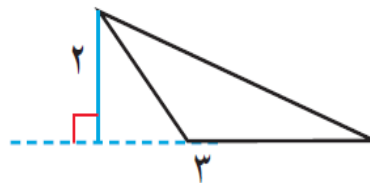



۹ - در خط کش زیر، هر سانتی متر به ۱۰ قسمت مساوی تقسیم شده است. هر یک قسمت چه کسری از سانتی متر است؟




- عدد $1/10$ سانتی متر یعنی سانتی متر و یک سانتی متر .
- عدد $1/10$ سانتی متر یعنی میلی متر یا تا $0/10$ سانتی متر .
- عدد یعنی 15 میلی متر یا تا $0/10$ سانتی متر .

۱۰ - مساحت شکل های زیر را بدست آورید :



۱۱ - مساحت و محیط مستطیل به طول $1/3$ متر و عرض 30 سانتی متر چند سانتی متر مربع است؟


۱۰ - در کیسه ی زیر تعدادی مهره قرار دارد . احتمال این را که بدون نگاه کردن ، یک مهره درآوریم و یکی از اتفاق های زیر بیافتد ، با یک عبارت بیان کنید .



- مهره قرمز باشد .
- مهره سبز باشد .
- مهره آبی باشد .

۱۳ - قیمت یک ربع سکه ی بهار آزادی در یک هفته به صورت زیر تغییر کرده است .

روز	شنبه	یکشنبه	دوشنبه	سه شنبه	چهارشنبه	پنج شنبه
قیمت (تومان)	۲۵۴۰۰۰	۲۶۵۰۰۰	۲۶۰۰۰۰	۲۷۰۰۰۰	۲۵۵۰۰۰	۲۶۲۰۰۰



— می خواهیم نمودار خط شکسته ی آن را رسم کنیم . محور قیمت را از چه عددی شروع کنیم؟ چرا؟

— محور را چندتا چندتا تقسیم بندی کنیم؟

نمودار خط شکسته را رسم کنید و به سؤال های زیر پاسخ دهید .

— آیا قیمت ربع سکه در این هفته بدون تغییر بوده است؟

— در کدام روزها بیشترین تغییر را داشته است؟

دانش آموزان و معلمین گرامی توجه داشته باشند جواب دادن به این سوال اختیاری است و نمره ی منفی ندارد .

زیر هر شکل یک عدد قرار گرفته است. چه عددی زیر است؟

۴
امتیازی

+ + =	۷ (۲)	۸ (۱)
+ =	۴ (۴)	۶ (۳)
+ + + + = ۴۲		۵ (۵)

نظر آموزگار از کار شما : خیلی خوب خوب قابل قبول نیاز به تلاش بیشتر

نظر ولی محترم دانش آموز :

پیاموز | Biamoz.com

بزرگترین مرجع آموزشی و نمونه سوالات درسی تمامی مقاطع

شامل انواع | نمونه سوالات | فصل به فصل | پایان ترم | جزوه |

ویدئوهای آموزشی | گام به گام | طرح درس | طرح جابر | و ...

اینستاگرام

گروه تلگرام

کانال تلگرام

برای ورود به هر پایه در سایت ما روی اسم آن کلیک کنید

دبستان

اول	دوم	سوم	چهارم	پنجم	ششم
-----	-----	-----	-------	------	-----

متوسطه اول

هفتم	هشتم	نهم
------	------	-----

متوسطه دوم

دهم	یازدهم	دوازدهم
-----	--------	---------