


نام: نام خانوادگی: نام آموزگار: تاریخ: /.../...

۱ - با توجه به واحد مشخص شده ، عدد مخلوط مربوط به شکل را بنویسید ؛

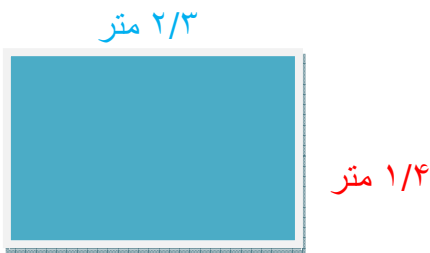


۲ - کسر را به عدد اعشاری و عدد اعشاری را به کسر تبدیل کنید ؛

الف) $\frac{2}{5} =$

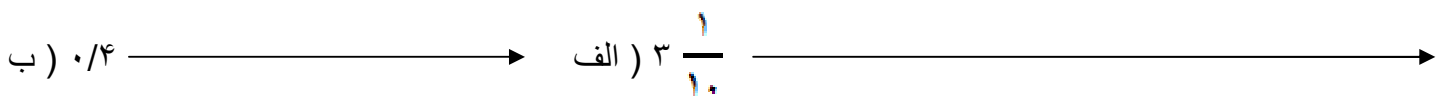
ب) $0.9 =$

۳ - محیط شکل زیر را حساب کنید ؛



۴ - چهل و هشت و نه دهم را به رقم بنویسید ؛

۵ - عدد های زیر را روی محور نشان دهید ؛



۶ - کیف فیروزه $\frac{4}{2}$ کیلوگرم و کیف دوستش $\frac{3}{9}$ کیلو گرم وزن دارد . وزن کیف فیروزه چند کیلو گرم بیشتر از وزن کیف دوستش می باشد ؟

۷ - حاصل تفریق زیر را بدست آورید ؛

$$\begin{array}{r} \frac{6}{7} \\ - \frac{2}{5} \\ \hline \end{array}$$

۸ - حاصل عبارت های زیر را بدست آورید ؛

الف) $(4 \times \frac{2}{12}) + (\frac{4}{6} - \frac{1}{3}) =$

ب) $(9 + 0/8) - (3/2 + 2/9) =$

نصف ۵۰۰۰ تا 40×30

$48/2$ $9/9$

۹ - علامت مناسب بگذارید؛ « < = > »

$6 \frac{14}{21}$ $5 \frac{2}{7}$

$\frac{10}{15}$ $\frac{2}{3}$

$0/5$ $1/2 - 0/4$

۱۰ - جمع و تفریق را روی محور نشان دهید؛


الف) $3/4 - 1/7 =$ —————→

ب) $0/8 + 2/5 =$ —————→

۱۱ - داخل ظرفی $2/3$ لیتر شیر است . چقدر شیر داخل ظرف بریزیم تا $3/2$ لیتر شیر داخل ظرف داشته باشیم؛

۱۲ - یک دوچرخه سوار مسافت زیر را در سه مرحله پیموده است چند کیلومتر دیگر برود تا به خط پایان برسد؟

(کل مسیر $8/9$ کیلومتر است) مرحله سوم مرحله دوم مرحله اول



نظر آموزگار از کار شما : خیلی خوب خوب قابل قبول نیاز به تلاش بیشتر

نظر ولی محترم دانش آموز :

پیاموز | Biamoz.com

بزرگترین مرجع آموزشی و نمونه سوالات درسی تمامی مقاطع

شامل انواع | نمونه سوالات | فصل به فصل | پایان ترم | جزوه |

ویدئوهای آموزشی | گام به گام | طرح درس | طرح جابر | و ...

اینستاگرام

گروه تلگرام

کانال تلگرام

برای ورود به هر پایه در سایت ما روی اسم آن کلیک کنید

دبستان

اول	دوم	سوم	چهارم	پنجم	ششم
-----	-----	-----	-------	------	-----

متوسطه اول

هفتم	هشتم	نهم
------	------	-----

متوسطه دوم

دهم	یازدهم	دوازدهم
-----	--------	---------