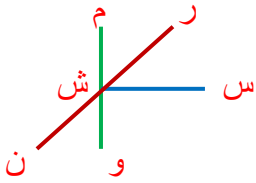


نام : نام خانوادگی : نام آموزگار : تاریخ : / /

۱ - در شکل زیر چند زاویه ی راست ، چند زاویه ی تند و چند زاویه ی باز می بینید ، آن ها را نام ببرید .



- زاویه ی راست ←

- زاویه ی باز ←

- زاویه ی تند ←

۲ - پاره خطی به طول ۶ سانتی متر بکشید و از نقطه ای به فاصله ی ۱ سانتی متری از آن خطی عمود بر آن رسم کنید .

۳ - جمله های درست را با 😊 و جمله های نادرست را با ❌ مشخص کنید ؛

- در مستطیل ضلع های متوالی بر هم عمود هستند .

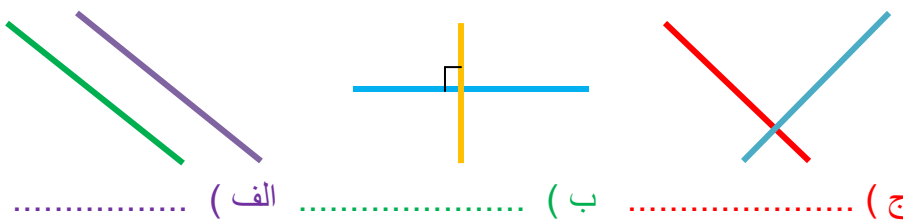
- متوازی الاضلاعی که قطر هایش عمود بر هم باشد مستطیل نام دارد .

- چهار ضلعی که فقط دو ضلع موازی دارد دوزنقه نام دارد .

- در لوزی تمام زاویه ها با هم برابر است .

- به هر لوزی که زاویه های آن قائمه اند مربع می گوئیم .

۴ - نام هر یک از خطوط زیر را بنویسید .



(الف) (ب) (ج)

۵ - دو تفاوت مربع و لوزی را بنویسید :

- ۲

- ۱

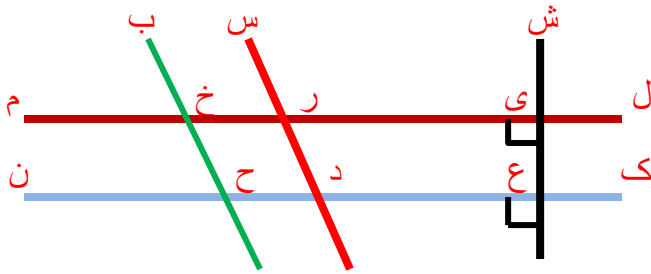
۶ - زمینی به شکل زیر داریم ، امیر کل این زمین را کاشی کرده است ؛



(قاعده ۳۰ متر و ارتفاع ۱۲ متر)

- او چند متر مربع کاشی کاری کرده است .

۷ - با توجه به شکل زیر پاسخ سوال ها را بنویسید ؛



- نام دو خط موازی را بنویسید :

- نام دو زاویه ی تند که با هم مساوی اند را بنویسید :

- نام دو خط متقاطع را بنویسید :

- نام دو زاویه ی تند و دو زاویه ی باز و یک زاویه ی راست را بنویسید :

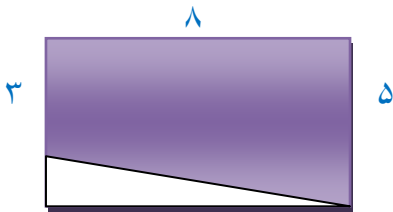
۸ - جمله های زیر را کامل کنید :

- دو خط عمود بر هم ، دو خطی هستند که

- برای رسم زاویه ی راست از وسیله ای به نام

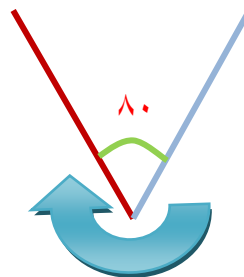
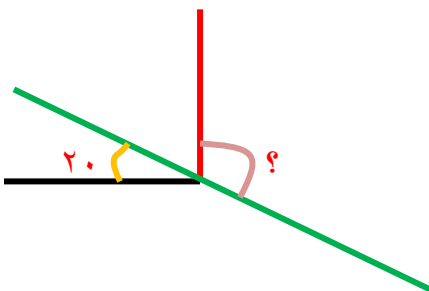
- دو خط موازی دو خطی هستند که

۹ - مساحت قسمت رنگی را به دست آورید :



۱۰ - اتاقی با ۱۰۰ عدد موزائیک فرش می شود اگر موزائیک ها به شکل مربع و به ابعاد ۲۵ سانتی متر باشند . مساحت اتاق چند سانتی متر است ؟

۱۱ - اندازه ی زاویه های خواسته شده را بدست آورید ؛



نیاز به تلاش بیشتر

قابل قبول

خوب

خیلی خوب : نظر آموزگار از کار شما :

نظر ولی محترم دانش آموز :

پیاموز | Biamoz.com

بزرگترین مرجع آموزشی و نمونه سوالات درسی تمامی مقاطع

شامل انواع | نمونه سوالات | فصل به فصل | پایان ترم | جزوه |

ویدئوهای آموزشی | گام به گام | طرح درس | طرح جابر | و ...

اینستاگرام

گروه تلگرام

کانال تلگرام

برای ورود به هر پایه در سایت ما روی اسم آن کلیک کنید

دبستان

اول	دوم	سوم	چهارم	پنجم	ششم
-----	-----	-----	-------	------	-----

متوسطه اول

هفتم	هشتم	نهم
------	------	-----

متوسطه دوم

دهم	یازدهم	دوازدهم
-----	--------	---------