



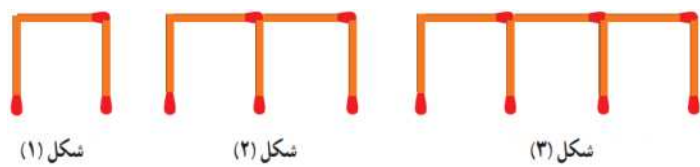
از ما نیست کسی که به مسلمانی خیانت کند یا به او زیان برساند یا با او مکر کند.

سوالات زیر را با دقت بخوانید و به هر سؤال پاسخ مناسب بدهید.

پاسخ هر یک از سؤال‌های زیر را در مقابل آنها نوشته و جاهای خالی را پر کنید. (۸/۲ امتیاز)

- عدد «۷۰۵۰۲۴۰۰۶» را به حروف بنویسید:
- خمس عدد ۱۰۰۰ چقدر می‌شود؟
- ۷۰ تن چند کیلوگرم است؟
- به زاویه‌هایی که از زاویه‌ی راست کوچک‌تر باشند، زاویه‌ی و به زاویه‌های بزرگ‌تر از زاویه‌ی راست، زاویه‌ی می‌گویند.

الگوی زیر را نوشته و مشخص کنید شکل هشتم با چند چوب کبریت درست می‌شود؟ (۶/۳ امتیاز)



تعداد چوب کبریت‌های شکل (۸):

حاصل جمع و تفریق‌های زیر را به دست آورید. (۱۲/۳ امتیاز)

$$\frac{2}{5} + \frac{7}{15} =$$

$$\frac{14}{36} - \frac{1}{6} =$$

$$\frac{6}{7} - \frac{3}{14} =$$

$$2/3 + 1/9 =$$

$$7/5 - 6/6 =$$

$$64/7 + 9/3 =$$

اعداد زیر را با هم مقایسه کرده و در داخل دایره علامت مناسب « > » یا « < » یا « = » بگذارید. (۱۲/۲ امتیاز)

$$\frac{2}{5} \bigcirc 3$$

$$1\frac{7}{8} \bigcirc 2$$

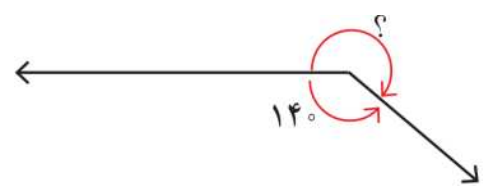
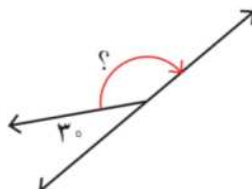
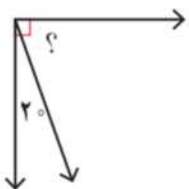
$$2\frac{5}{9} \bigcirc 2\frac{1}{9}$$

$$.0/4 \bigcirc .0/6$$

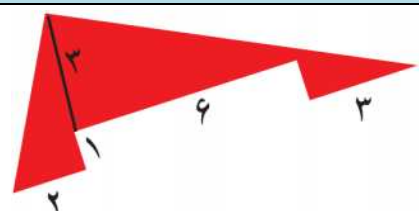
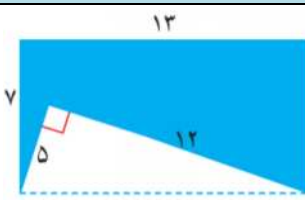
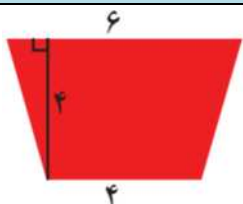
$$2 \bigcirc .0/8$$

$$. \bigcirc .0/1$$

اندازه‌ی زاویه‌های مورد نظر را با نوشتن یک عبارت پیدا کنید. (۶/۲ امتیاز)



مساحت قسمت‌های رنگی شکل‌های زیر را پیدا کنید. (۱۲/۴ امتیاز)



حاصل ضرب و تقسیم‌های زیر را به دست آورید. (۱۲/۴ امتیاز)

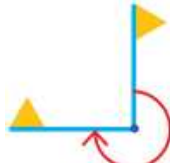
$$\begin{array}{r} 745 \\ \times 62 \\ \hline \end{array}$$

$$\begin{array}{r} 8043 \\ \times 597 \\ \hline \end{array}$$

$$965 \overline{) 3}$$


$$6731 \overline{) 16}$$

با توجه به شکل‌های زیر، مشخص کنید که در هر حالت، پرچم چند درجه چرخیده است. (۴/۱ امتیاز)



فیلم سینمایی ساعت ۱۶:۵۰ شروع و ساعت ۱۸:۳۵ تمام شد. مدت زمان این فیلم چقدر بوده است؟ (۴ امتیاز)

جمع و تفریق‌ها را روی شکل نشان دهید. (۸/۴ امتیاز)



$$\frac{1}{2} + \frac{1}{4} =$$



$$\frac{1}{3} + \frac{1}{6} =$$

به پرسش‌های زیر پاسخ دهید. (۸/۲ امتیاز)

یک تاس را می‌اندازیم. این احتمال را که هریک از اتفاق‌های زیر بیفتد، با یک عبارت مناسب بیان کنید.

(الف) عدد ۶ بیاید.

(ب) عدد ۷ بیاید.

(ج) عدد بزرگ‌تر از ۲ بیاید.

(د) یکی از عددهای ۱، ۲، ۳، ۴، ۵، ۶ بیاید.

دمای هوای یک شهر در یک شبانه‌روز هر دو ساعت یک بار اندازه‌گیری شده است. (۸/۲ امتیاز)

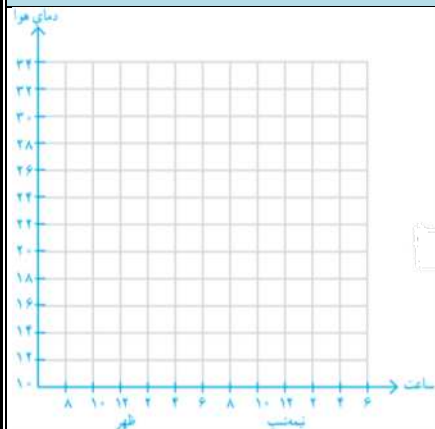
زمان	۸	۱۰	۱۲	۱۴	۱۶	۱۸	۲۰	۲۲	۰۰	۲	۴	۶
دما	۱۸	۲۲	۲۶	۲۹	۳۲	۳۰	۲۵	۲۰	۱۸	۱۳	۱۴	۱۶

(الف) با توجه به جدول بالا نمودار خط شکسته‌ی آن را رسم کنید.

(ب) بین کدام ساعت‌ها بیشترین تغییر دما دیده می‌شود؟

(ج) بیشترین دما و کمترین دما در چه ساعت‌هایی بوده است؟

(د) اختلاف بین بیشترین و کمترین دما چند درجه است؟



نیاز به تلاش

قابل قبول

خوب

خیلی خوب



بازخورد آموزگار:

.....



پیاموز | Biamoz.com

بزرگترین مرجع آموزشی و نمونه سوالات درسی تمامی مقاطع

شامل انواع | نمونه سوالات | فصل به فصل | پایان ترم | جزوه |

ویدئوهای آموزشی | گام به گام | طرح درس | طرح جابر | و ...

اینستاگرام

گروه تلگرام

کانال تلگرام

برای ورود به هر پایه در سایت ما روی اسم آن کلیک کنید

دبستان

اول	دوم	سوم	چهارم	پنجم	ششم
-----	-----	-----	-------	------	-----

متوسطه اول

هفتم	هشتم	نهم
------	------	-----

متوسطه دوم

دهم	یازدهم	دوازدهم
-----	--------	---------