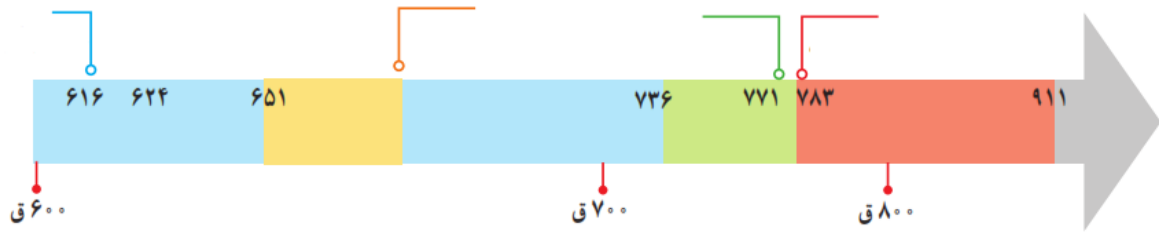


نام و نام خانوادگی: ..... دبستان: ..... زمان: ۶۰ دقیقه

۱- هر کدام از علامت‌های روی نمودار خط زمان مربوط به یکی از رویدادهای زیر است. هر یک از رویدادها را در محل مناسب روی نمودار بنویسید و به سؤالات پاسخ دهید.

شروع حمله‌های تیمور به ایران - فتح ایران توسط هلاکوخان - حمله‌ی چنگیز به ایران - به قدرت رسیدن تیمور در ماوراءالنهر



۱ دوره‌ی حکومت ایلخانان و تیموریان را روی نمودار خط زمان نشان دهید.

۲ مغول‌ها حدود چند سال در ایران حکومت کردند؟

۲- هر یک از وظایف حکومت که را به قوه‌ی مربوط به آن وصل کنید.

- |                       |              |                       |  |
|-----------------------|--------------|-----------------------|--|
| <input type="radio"/> | قوه‌ی مجریه  | <input type="radio"/> | وضع قوانین و مقررات برای اداره‌ی جامعه |
| <input type="radio"/> | قوه‌ی قضائیه | <input type="radio"/> | تأمین رفاه و آسایش مردم و پیشرفت کشور  |
| <input type="radio"/> | قوه‌ی مقننه  | <input type="radio"/> | رسیدگی به شکایات و اختلافات مردم       |
| <input type="radio"/> | قوه‌ی مجریه  | <input type="radio"/> | اجرای قوانین                           |

۳- در هر سؤال کلمه‌ی مناسب را از داخل ( ) انتخاب کنید.

- ۱ پیدایش فصل‌ها نتیجه‌ی حرکت ..... (چرخشی | انتقالی) زمین است.
- ۲ هم‌زمان با ..... (بعثت | هجرت) پیامبر، شهر یثرب به مدینه‌النبی یا شهر پیامبر تغییر یافت.
- ۳ پوشش گیاهی ناحیه ..... (استوایی | قطبی | بیابانی) درختان سوزنی برگ است.
- ۴ کم وسعت‌ترین کشور همسایه‌ی ایران ..... (ترکمنستان | آذربایجان | ارمنستان) است.
- ۵ بخش عمده‌ی صادرات و واردات کشور ما به وسیله‌ی ..... ( هواپیما | قطار | کشتی) صورت می‌گیرد.
- ۶ ترس از دست دادن نزدیکان نوعی ترس ..... (بجا | نابجا) است.

۴- هر یک از رویدادهای زیر مربوط به دوره‌ی کدام سلسله است؟

.....	مراکز علمی شیعه گسترش یافت و بیمارستانی در بغداد تأسیس شد و به آموزش علم طب پرداختند
.....	زبان و ادب فارسی مورد توجه قرار گرفت و در قلمرو پهنای این حکومت رواج یافت.
.....	به همت خواجه نصیرالدین توسی در این دوره رصدخانه‌ی مراغه تأسیس شد.
.....	یکی از مشهورترین فرمانروایان این سلسله به هند لشکرکشی کرد و بت‌خانه‌ها را خراب کرد.

۵- کدام قاره‌ها دیرتر کشف شدند؟ چه عاملی باعث کشف این قاره‌ها شد؟

۶- با رسم شکلی ساده نشان دهید که ایران در چه موقعیتی نسبت به خط استوا و نصف‌النهار مبدأ قرار دارد؟

۷- علت شکل‌گیری قیام‌های زیاد علیه حکومت بنی امیه چه بود؟

۸- علت سقوط سلسله‌ی سلجوقیان چه بود؟

نام و نام خانوادگی: ..... دبستان: ..... زمان: ۶۰ دقیقه

۹- بازرگانی چیست؟ انواع روش‌های حمل و نقل کالا در بازرگانی را نام ببرید.







۱۰- رودها چه نقشی در زندگی انسان و سایر جانداران دارند؟

۱۱- چرا در نواحی کوهپایه‌ای تعداد زیادی شهر و روستا به وجود آمده‌اند؟

۱۲- در هر مورد مشخص کنید که عبارت داده شده در مورد چه کسی است؟

.....	مسلمانان به سرپرستی او به حبشه هجرت کردند.
.....	در زمان این پادشاه مغول‌ها به ایران حمله کردند.
.....	یکی از وزیران دوره‌ی سلجوقی که به فرمان سلطان سلجوقی به قتل رسید
.....	او در چند جنگ سپاه بنی‌امیه را شکست داد و خاندان بنی‌عباس به حکومت رسیدند

۱۳- صنایع مادر را با نشانه‌ی (ما) و صنایع مصرفی را با نشانه‌ی (مص) نامگذاری کنید.

					
خودروسازی	کمباین سازی	ذوب آهن	قند و شکر	پارچه بافی	پتروشیمی

۱۴- به سؤالات زیر پاسخ کوتاه بدهید.

- به چه منظوری حکومت باید صنعت، کشاورزی و آموزش و پرورش را گسترش دهد؟
- دو نمونه از مؤسسات ایرانی که در هنگام بروز حوادث به مردم کمک می‌کنند را نام ببرید.
- مهمترین کار پیامبر در شهر مدینه چه بود؟
- به حکومتی که در آن قوانین اسلامی اجرا می‌شود و مردم در انتخاب مسئولان نقش دارند، چه گفته می‌شود؟
- خط استوا چند درجه است و از خط استوا تا قطب شمال به چند درجه تقسیم می‌شود؟
- سلسله‌های ترک‌تبار برای کشورداری و اداره‌ی سرزمین پهناور ایران از وجود چه کسانی استفاده می‌کردند؟
- در کدام کارخانه‌ها، نفت و گاز به مواد شیمیایی تبدیل می‌شود؟
- پراکندگی کارخانه‌های ماشین‌سازی و تجهیزات در کدام شهرهای ایران بیش‌تر است؟

۱۵- در سؤالات زیر بهترین گزینه را انتخاب کنید.

- امام علی (ع) در تاریخ ۲۱ رمضان سال چهارم هجری به شهادت رسید. در زمان شهادت او چند سال از هجرت پیامبر از مکه به مدینه می‌گذرد؟  
الف) ۴۰ سال  ب) ۴۵ سال  ج) ۶۳ سال  د) ۸۱ سال
- در کدام یک از مناطق زیر، شرایط مناسب برای زندگی انسان وجود ندارد؟  
الف) جنوب شرق آسیا  ب) سرزمین‌های مجاور سیبری  ج) قطب جنوب  د) بیابان‌های عربستان
- وقتی که محمد در حال انجام تکالیفش است، دوستش در مورد نتیجه‌ی مسابقه‌ی فوتبال سؤال می‌کند. در این شرایط او چه اصلی برای گفتگو را رعایت نکرده است؟  
الف) حفظ حریم شخصی  ب) قطع نکردن حرف گوینده  ج) دقت و توجه به سخنان  د) انتخاب زمان مناسب گفتگو
- آیه‌ی «وَأْمُرُهُمْ سُورَىٰ بَيْنَهُمْ» به چه چیزی اشاره دارد؟  
الف) رعایت احترام در گروه  ب) انجام وظایف  ج) مشورت کردن  د) رعایت نظم و مقررات

# پیاموز | Biamoz.com

بزرگترین مرجع آموزشی و نمونه سوالات درسی تمامی مقاطع

شامل انواع | نمونه سوالات | فصل به فصل | پایان ترم | جزوه |

ویدئوهای آموزشی | گام به گام | طرح درس | طرح جابر | و ...

اینستاگرام

گروه تلگرام

کانال تلگرام

برای ورود به هر پایه در سایت ما روی اسم آن کلیک کنید

## دبستان

اول	دوم	سوم	چهارم	پنجم	ششم
-----	-----	-----	-------	------	-----

## متوسطه اول

هفتم	هشتم	نهم
------	------	-----

## متوسطه دوم

دهم	یازدهم	دوازدهم
-----	--------	---------