

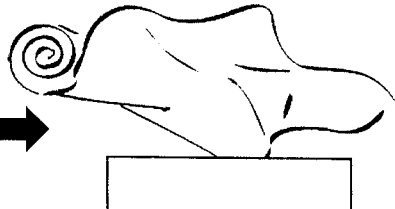




نام و نام خانوادگی: آزمون مطالعات اجتماعی پنجم

۱	<p>اولین کسانی که با کندن قنات از آب های زیر زمینی استفاده کردند چه کسانی بودند؟ الف) ایرانیان <input type="checkbox"/> ب) مصریان <input type="checkbox"/> ج) عرب های صحرا نشین <input type="checkbox"/> د) چینی ها <input type="checkbox"/></p>
۲	<p>کوچک ترین کشور همسایه ی ایران کدام است؟ الف) افغانستان <input type="checkbox"/> ب) ارمنستان <input type="checkbox"/> ج) عراق <input type="checkbox"/> د) پاکستان <input type="checkbox"/></p>
۳	<p>نمایندگان مجلس شورای اسلامی هر چند سال یک بار انتخاب می شوند؟ الف) هر چهار سال یک بار <input type="checkbox"/> ب) هر پنج سال یک بار <input type="checkbox"/> ج) دائمی هستند <input type="checkbox"/> د) هر دو سال یک بار <input type="checkbox"/></p>
۴	<p>کدام مورد از وظایف دولت نیست؟ الف) اجرای قوانین <input type="checkbox"/> ب) تأمین وسایل رفاه و آسایش مردم <input type="checkbox"/> ج) دفاع از کشور در برابر حمله ی دشمن <input type="checkbox"/> د) رسیدگی به شکایت ها و اختلافات مردم <input type="checkbox"/></p>
۵	<p>عبارت های زیر را کامل کنید. مهم ترین راه ارتباط انسان ها با یکدیگر است . محدوده ای که هیچ کس نباید بدون اجازه و رضایت شما وارد آن شود..... نام دارد. یکی از دلایل افزایش جمعیت در یک ناحیه ، مردم از نواحی دیگر به آن جاست. به وسایلی که مردم و کالا ها را جابه جا می کنند می گویند.</p>
۶	<p>هر پاسخ را به عبارت مربوط به آن وصل کن . خرید و فروش در داخل کشور یا با کشورهای دیگر را می گویند. راه هایی که مسیر رفت و برگشت با مانع هایی از هم جدا شده اند. تغییراتی که کارگران در کارخانه ها روی مواد اولیه می دهند. مواد و کالاهایی که ما به کشور های دیگر می فروشیم .</p>
۷	<p>کلمه های مقابل را در محل مناسب بنویس . (کارخانه - کالا - ماده ی اولیه)</p> <div style="display: flex; align-items: center; justify-content: center;"> <div style="text-align: center; margin-right: 20px;">  </div> <div style="font-size: 2em; margin-right: 20px;">→</div> <div style="text-align: center; margin-right: 20px;">  </div> <div style="font-size: 2em; margin-right: 20px;">→</div> <div style="text-align: center;">  </div> </div>

- آزاد راه
- صنعت
- واردات
- صادرات
- بازرگانی


جاهای خالی را پر کن .

۸





انواع ترس

ترس از آمپول و دکتر



نام سازمان های زیر و وظیفه ی آن را بنویس .

۹





نام سازمان :

نام سازمان :

وظیفه:

دو وسیله ی نقلیه ی زیر را باهم مقایسه کن و در باره ی خوبی ها و عیب های هریک بنویس .

۱۰



تفاوت صنایع مادر و صنایع مصرفی را بنویس با ذکر مثال .

۱۱

موفق باشید .

پیاموز | Biamoz.com

بزرگترین مرجع آموزشی و نمونه سوالات درسی تمامی مقاطع

شامل انواع | نمونه سوالات | فصل به فصل | پایان ترم | جزوه |

ویدئوهای آموزشی | گام به گام | طرح درس | طرح جابر | و ...

اینستاگرام

گروه تلگرام

کانال تلگرام

برای ورود به هر پایه در سایت ما روی اسم آن کلیک کنید

دبستان

اول	دوم	سوم	چهارم	پنجم	ششم
-----	-----	-----	-------	------	-----

متوسطه اول

هفتم	هشتم	نهم
------	------	-----

متوسطه دوم

دهم	یازدهم	دوازدهم
-----	--------	---------