

## به نام خدا

### آزمون پیش نوبت دوم

علوم تجربی

تاریخ:

پایه ی پنجم ابتدایی

نام و نام خانوادگی:

گزینه ی درست را با علامت ( × ) مشخص کن . 

- کار کدام یک از ماهیچه های زیر به صورت غیر ارادی است؟

- الف ( قلب )       ب ( زبان )       ج ( پا )       د ( دست )

- در آزمایشگاه نور را به چه وسیله ای تجزیه می کنند؟

- الف ( آئینه )       ب ( ذره بین )       ج ( باران )       د ( منشور )

- در کدام ماشین سطح شیب دار به کار رفته است.

- الف ( دستگیره ی در )       ب ( فرمان اتومبیل )       ج ( پنکه )       د ( نردبان )

جاهای خالی را با کلمات مناسب پر کنید. 

مغز درون..... و نخاع درون ..... قرار دارد تا از آن ها محافظت شود.

به آثار و بقایای به جای مانده از گیاهان و جانوران پس از گذشت سال ها، ..... می گویند.

به خاک..... اضافه می کنند تا گیاه رشد بهتری داشته باشد.

اصطلاحات زیر را تعریف کنید. 

- گیاه خاک:

- تغییر فیزیکی:

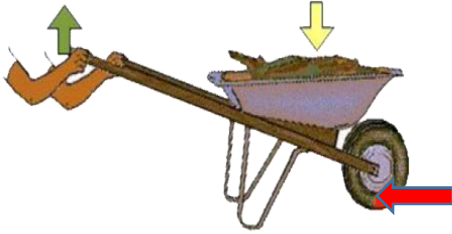
چرخ و محور در چه وسایلی کاربرد دارد؟ ( ۴ مورد ) 

عوامل تشکیل خاک را بنویسید . ( ۳ مورد ) 



برای مراقبت از گوش ها چه نکاتی را باید رعایت کنیم؟ 


الف) محل جسم، تکیه گاه و نیرو را در فرغون شکل زیر مشخص کنید. 




ب) برای این که این بار فرغون را از روی سطح شیب داری بالا ببرید،

کدام یک از سطوح شیب دار زیر را انتخاب می کنید:

- سطح شیب داری با طول ۲ متر و ارتفاع ۵۰ سانتی متر     سطح شیب داری با طول ۱ متر و ارتفاع ۵۰ سانتی متر

۸ بین فیل و دلفین، کدام یک شرایط بهتری برای فسیل شدن دارد؟ چرا؟ 

۹ درست یا نادرست بودن هر یک از عبارات زیر را مشخص کنید. 

- درست     نادرست  
 درست     نادرست  
 درست     نادرست

هر چه پهنای بال فرفره ی چرخان بیشتر باشد فرفره دیرتر به زمین می رسد .  
جایی را که دو استخوان به هم وصل شده اند، غضروف می گویند  
از سطح شیب دار برای جابه جا کردن اجسام استفاده می شود .

۱۰ نحوه ی تشکیل رنگین کمان در آسمان را توضیح دهید؟ 



پیامبر اکرم(ص): خوشا آنکه به علم خود عمل کند.

باز خورد توصیفی معلم :



# پیاموز | Biamoz.com

بزرگترین مرجع آموزشی و نمونه سوالات درسی تمامی مقاطع

شامل انواع | نمونه سوالات | فصل به فصل | پایان ترم | جزوه |

ویدئوهای آموزشی | گام به گام | طرح درس | طرح جابر | و ...

اینستاگرام

گروه تلگرام

کانال تلگرام

برای ورود به هر پایه در سایت ما روی اسم آن کلیک کنید

## دبستان

اول	دوم	سوم	چهارم	پنجم	ششم
-----	-----	-----	-------	------	-----

## متوسطه اول

هفتم	هشتم	نهم
------	------	-----

## متوسطه دوم

دهم	یازدهم	دوازدهم
-----	--------	---------